



collegebatch.com

click to campus

TG EdCET 2023 Question Paper with Preliminary Key - Shift 2

Telangana State Council Higher Education (TS EdCET)

Download TS EdCET /TG EdCET Previous Year Question Papers & Syllabus - [Click Here](#)

Telangana State Council Higher Education

Notations :

- Options shown in green color and with ✓ icon are correct.
- Options shown in red color and with ✗ icon are incorrect.

Question Paper Name :	Edcet 2023 18th May 2023 Shift 2
Subject Name :	Edcet 2023
Creation Date :	2023-05-18 20:57:27
Duration :	120
Total Marks :	150
Display Marks:	No
Calculator :	None
Magnifying Glass Required? :	No
Ruler Required? :	No
Eraser Required? :	No
Scratch Pad Required? :	No
Rough Sketch/Notepad Required? :	No
Protractor Required? :	No
Show Watermark on Console? :	Yes
Highlighter :	No
Auto Save on Console?	Yes
Change Font Color :	No
Change Background Color :	No
Change Theme :	No
Help Button :	No
Show Reports :	No
Show Progress Bar :	No

TS Edcet

Group Number :	1
Group Id :	46997512
Group Maximum Duration :	0
Group Minimum Duration :	120
Show Attended Group? :	No
Edit Attended Group? :	No
Break time :	0
Group Marks :	150
Is this Group for Examiner? :	No
Examiner permission :	Cant View
Show Progress Bar? :	No

Subject

Section Id :	46997556
Section Number :	1
Section type :	Online
Mandatory or Optional :	Mandatory

Number of Questions :	60
Number of Questions to be attempted :	60
Section Marks :	60
Enable Mark as Answered Mark for Review and Clear Response :	Yes
Maximum Instruction Time :	0
Sub-Section Number :	1
Sub-Section Id :	46997567
Question Shuffling Allowed :	Yes
Is Section Default? :	null

Question Number : 1 Question Id : 4699751662 Question Type : MCQ Option Shuffling : Yes Display Question Number : Yes
 Is Question Mandatory : No Calculator : None Response Time : N.A Think Time : N.A Minimum Instruction Time : 0
 Correct Marks : 1 Wrong Marks : 0

Among the following, an irrational number is

ఈ క్రింది వాటిలో, కరణీయసంఖ్య

Options :

4699756601. ✘ $\log 100$

4699756602. ✔ $\log 3$

4699756603. ✘ $\log 1$

4699756604. ✘ $\frac{22}{7}$

Question Number : 2 Question Id : 4699751663 Question Type : MCQ Option Shuffling : Yes Display Question Number : Yes
 Is Question Mandatory : No Calculator : None Response Time : N.A Think Time : N.A Minimum Instruction Time : 0
 Correct Marks : 1 Wrong Marks : 0

If $p(x) = 6x^8 - 7x^5 + 4x^3 - 12$ is a polynomial, then the coefficient of x^7 in it is
 $p(x) = 6x^8 - 7x^5 + 4x^3 - 12$ అనేది ఒక బహుపది, అయిన దానిలో x^7 గుణకము

Options :

4699756605. ✘ 4

4699756606. ✘ -7

4699756607. ✘ 6

4699756608. ✔ 0

Question Number : 3 Question Id : 4699751664 Question Type : MCQ Option Shuffling : Yes Display Question Number : Yes
 Is Question Mandatory : No Calculator : None Response Time : N.A Think Time : N.A Minimum Instruction Time : 0

Correct Marks : 1 Wrong Marks : 0

The value of $\tan 25^\circ \tan 45^\circ \tan 65^\circ$ is
tan 25° tan 45° tan 65° యొక్క విలువ

Options :

4699756609. ✓ 1

4699756610. ✗ $\frac{1}{2}$

4699756611. ✗ $\frac{1}{\sqrt{2}}$

4699756612. ✗ $\frac{\sqrt{3}}{2}$

Question Number : 4 Question Id : 4699751665 Question Type : MCQ Option Shuffling : Yes Display Question Number : Yes
Is Question Mandatory : No Calculator : None Response Time : N.A Think Time : N.A Minimum Instruction Time : 0

Correct Marks : 1 Wrong Marks : 0

The distance from origin to the point $(\log_2 16, \log_3 27)$ is
మూలబిందువు నుండి, బిందువు $(\log_2 16, \log_3 27)$ కు గల దూరం

Options :

4699756613. ✗ $\sqrt{5}$

4699756614. ✗ 11

4699756615. ✓ 5

4699756616. ✗ $\sqrt{27 - 16}$

Question Number : 5 Question Id : 4699751666 Question Type : MCQ Option Shuffling : Yes Display Question Number : Yes
Is Question Mandatory : No Calculator : None Response Time : N.A Think Time : N.A Minimum Instruction Time : 0

Correct Marks : 1 Wrong Marks : 0

Among the following, a decimal that is not terminating is
ఈ క్రింది వాటిలో, అంతము కాని దశాంశము

Options :

4699756617. ✗ $\frac{14}{20}$

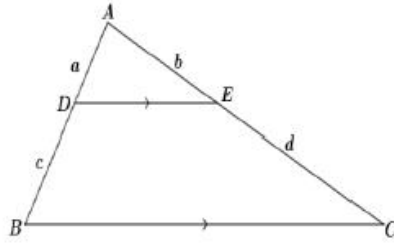
4699756618. ✓ $\frac{21}{98}$

4699756619. ✗ $\frac{5}{40}$

4699756620. ✗ $\frac{7}{4}$

Question Number : 6 Question Id : 4699751667 Question Type : MCQ Option Shuffling : Yes Display Question Number : Yes Is Question Mandatory : No Calculator : None Response Time : N.A Think Time : N.A Minimum Instruction Time : 0 Correct Marks : 1 Wrong Marks : 0

In the given figure, if $DE \parallel BC$, then the relation between a, b, c and d is
ఇచ్చిన పటంలో, $DE \parallel BC$ అయిన a, b, c మరియు d ల మధ్య సంబంధము



Options :

4699756621. ✗ $\frac{a}{d} = \frac{b}{c}$

4699756622. ✗ $\frac{a+d}{d} = \frac{b+c}{c}$

4699756623. ✗ $\frac{d}{c} = \frac{a}{b}$

4699756624. ✓ $\frac{c}{a+c} = \frac{d}{b+d}$

Question Number : 7 Question Id : 4699751668 Question Type : MCQ Option Shuffling : Yes Display Question Number : Yes Is Question Mandatory : No Calculator : None Response Time : N.A Think Time : N.A Minimum Instruction Time : 0 Correct Marks : 1 Wrong Marks : 0

In Hyderabad, the probability of raining in the month of July is 0.35, then the probability of not raining in the month of July is
హైదరాబాద్‌లో జూలై నెలలో వర్షం పడడానికి సంభావ్యత 0.35, అయిన, అదే జూలై నెలలో వర్షం పడకపోవడానికి సంభావ్యత

Options :

4699756625. ✘ 1.35

4699756626. ✘ 0.45

4699756627. ✔ 0.65

4699756628. ✘ 0.55

Question Number : 8 Question Id : 4699751669 Question Type : MCQ Option Shuffling : Yes Display Question Number : Yes
Is Question Mandatory : No Calculator : None Response Time : N.A Think Time : N.A Minimum Instruction Time : 0
Correct Marks : 1 Wrong Marks : 0

In a geometric progression, if the first two terms are $\sqrt{3}$ and 3 respectively, then its fourth term is

ఒక గుణ శ్రేణి లో, మొదటి రెండు పదాలు వరుసగా $\sqrt{3}$ మరియు 3, అయిన దానిలో నాల్గవ పదము

Options :

4699756629. ✘ $3\sqrt{3}$

4699756630. ✔ 9

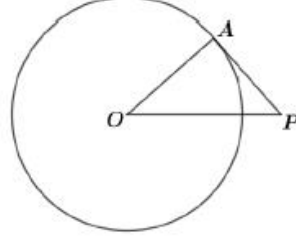
4699756631. ✘ $9\sqrt{3}$

4699756632. ✘ 3

Question Number : 9 Question Id : 4699751670 Question Type : MCQ Option Shuffling : Yes Display Question Number : Yes
Is Question Mandatory : No Calculator : None Response Time : N.A Think Time : N.A Minimum Instruction Time : 0
Correct Marks : 1 Wrong Marks : 0

In the given figure, if 'O' is the center of the circle with radius 3 cm, then the length of the Tangent (in cm) drawn from an external point P at a distance of 4 cm from the center is

ఇచ్చిన పటంలో, వ్యాసార్థం 3 సెం.మీ.గా గల వృత్త కేంద్రం 'O' అయిన ఆ వృత్త కేంద్రం నుండి 4 సెం.మీ. దూరంలో గల బాహ్య బిందువు P నుండి ఆ వృత్తానికి గీసిన స్పర్శ రేఖ పొడవు (సెం.మీ.లలో)



Options :

4699756633. ✓ $\sqrt{7}$

4699756634. ✗ $\sqrt{25}$

4699756635. ✗ $\sqrt{2}$

4699756636. ✗ $\sqrt{5}$

Question Number : 10 Question Id : 4699751671 Question Type : MCQ Option Shuffling : Yes Display Question Number : Yes Is Question Mandatory : No Calculator : None Response Time : N.A Think Time : N.A Minimum Instruction Time : 0 Correct Marks : 1 Wrong Marks : 0

If $\sqrt{2 + \sqrt{x}} = 3$, then the value of 'x' is
 $\sqrt{2 + \sqrt{x}} = 3$ అయిన 'x' విలువ

Options :

4699756637. ✗ 1

4699756638. ✗ $\sqrt{7}$

4699756639. ✗ 7

4699756640. ✓ 49

Question Number : 11 Question Id : 4699751672 Question Type : MCQ Option Shuffling : Yes Display Question Number : Yes
Is Question Mandatory : No Calculator : None Response Time : N.A Think Time : N.A Minimum Instruction Time : 0
Correct Marks : 1 Wrong Marks : 0

Among the following, one of the solutions of the equation $3x + 2y - 9 = 0$ is
ఈ క్రింది వాటిలో, $3x + 2y - 9 = 0$ సమీకరణానికి గల సాధనలలో ఒకటి

Options :

4699756641. ✓ (5, -3)

4699756642. ✗ (3, -5)

4699756643. ✗ (-5, 3)

4699756644. ✗ (-3, 5)

Question Number : 12 Question Id : 4699751673 Question Type : MCQ Option Shuffling : Yes Display Question Number : Yes
Is Question Mandatory : No Calculator : None Response Time : N.A Think Time : N.A Minimum Instruction Time : 0
Correct Marks : 1 Wrong Marks : 0

A cone, a hemisphere and a cylinder have same base radius and same
height, then the ratio of their volumes is

ఒక శంఖువు, ఒక అర్థ గోళము మరియు ఒక స్థూపములకు ఒకే భూ వ్యాసార్థము మరియు ఒకే
ఎత్తులను కలిగి ఉన్నాయి అయిన వాటి ఘన పరిమాణముల నిష్పత్తి

Options :

4699756645. ✗ $1 : \sqrt{3} : 2$

4699756646. ✗ $1 : 2 : \sqrt{3}$

4699756647. ✓ $1 : 2 : 3$

4699756648. ✗ $3 : 2 : 1$

Question Number : 13 Question Id : 4699751674 Question Type : MCQ Option Shuffling : Yes Display Question Number : Yes
Is Question Mandatory : No Calculator : None Response Time : N.A Think Time : N.A Minimum Instruction Time : 0
Correct Marks : 1 Wrong Marks : 0

Among the following, a quadratic equation having 2 as a root is
ఈ క్రింది వాటిలో, 2 ను ఒక మూలముగా గల వర్గ సమీకరణము

Options :

4699756649. ✗ $x^2 - 4x + 5 = 0$

4699756650. ✓ $2x^2 - 7x + 6 = 0$

4699756651. ✗ $x^2 + 8x - 12 = 0$

4699756652. ✗ $3x^2 - 6x - 2 = 0$

Question Number : 14 Question Id : 4699751675 Question Type : MCQ Option Shuffling : Yes Display Question Number : Yes
Is Question Mandatory : No Calculator : None Response Time : N.A Think Time : N.A Minimum Instruction Time : 0
Correct Marks : 1 Wrong Marks : 0

The median of the scores 12, 24, 13, 18, 25, 19, 20 is

12, 24, 13, 18, 25, 19, 20 రాశుల మధ్యగతము

Options :

4699756653. ✗ 20

4699756654. ✗ 18

4699756655. ✓ 19

4699756656. ✗ 24

Question Number : 15 Question Id : 4699751676 Question Type : MCQ Option Shuffling : Yes Display Question Number : Yes
Is Question Mandatory : No Calculator : None Response Time : N.A Think Time : N.A Minimum Instruction Time : 0
Correct Marks : 1 Wrong Marks : 0

If 5, 10, x , 30 are in proportion, then the value of ' x ' is

5, 10, x , 30 లు అనుపాతములో ఉన్నాయి అయిన ' x ' విలువ

Options :

4699756657. ✓ 15

4699756658. ✗ 20

4699756659. ✗ 25

4699756660. ✗ 12

Question Number : 16 Question Id : 4699751677 Question Type : MCQ Option Shuffling : Yes Display Question Number : Yes
Is Question Mandatory : No Calculator : None Response Time : N.A Think Time : N.A Minimum Instruction Time : 0
Correct Marks : 1 Wrong Marks : 0

If marked price of an item is ₹ 200 and discount on it is 10%, then the discount amount(in ₹) is

ఒక వస్తువు ప్రకటన వెల ₹ 200 మరియు దానిపై తగ్గింపు 10%, అయిన ఆ వస్తువు పై వచ్చే తగ్గింపు మొత్తం (₹ లలో)

Options :

4699756661. ✘ 90

4699756662. ✘ 10

4699756663. ✘ 180

4699756664. ✔ 20

Question Number : 17 Question Id : 4699751678 Question Type : MCQ Option Shuffling : Yes Display Question Number : Yes Is Question Mandatory : No Calculator : None Response Time : N.A Think Time : N.A Minimum Instruction Time : 0 Correct Marks : 1 Wrong Marks : 0

A cylindrical tower is 5m in diameter and 14m high. The cost of white washing its curved surface area at the rate of 50 paise per m^2 is

ఒక స్థూపాకార గోపురం వ్యాసం 5 మీ. మరియు ఎత్తు 14 మీ. దాని వక్ర తల వైశాల్యానికి సున్నం వేయడానికి చ.మీ. కు 50 పైసల వంతున అయ్యే మొత్తం ఖర్చు

Options :

4699756665. ✘ ₹90

4699756666. ✘ ₹97

4699756667. ✔ ₹ 110

4699756668. ✘ ₹ 95

Question Number : 18 Question Id : 4699751679 Question Type : MCQ Option Shuffling : Yes Display Question Number : Yes Is Question Mandatory : No Calculator : None Response Time : N.A Think Time : N.A Minimum Instruction Time : 0 Correct Marks : 1 Wrong Marks : 0

If $\operatorname{cosec} \theta = \frac{5}{3}$, then the value of $\sec \theta$ is

$\operatorname{cosec} \theta = \frac{5}{3}$ అయిన $\sec \theta$ విలువ

Options :

4699756669. ✓ $\frac{5}{4}$

4699756670. ✗ $\frac{4}{5}$

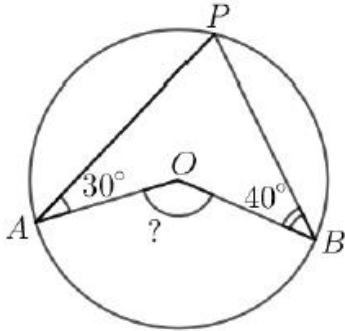
4699756671. ✗ $\frac{5}{3}$

4699756672. ✗ $\frac{3}{5}$

Question Number : 19 Question Id : 4699751680 Question Type : MCQ Option Shuffling : Yes Display Question Number : Yes Is Question Mandatory : No Calculator : None Response Time : N.A Think Time : N.A Minimum Instruction Time : 0 Correct Marks : 1 Wrong Marks : 0

In the given figure, If $\angle PAO = 30^\circ$ and $\angle PBO = 40^\circ$, then the measure of $\angle AOB$ is

ఇచ్చిన పటంలో, $\angle PAO = 30^\circ$ మరియు $\angle PBO = 40^\circ$, అయిన $\angle AOB$ కొలత



Options :

4699756673. ✗ 70°

4699756674. ✗ 100°

4699756675. ✗ 110°

4699756676. ✓ 140°

Question Number : 20 Question Id : 4699751681 Question Type : MCQ Option Shuffling : Yes Display Question Number : Yes Is Question Mandatory : No Calculator : None Response Time : N.A Think Time : N.A Minimum Instruction Time : 0 Correct Marks : 1 Wrong Marks : 0

Number of solutions of the pair of linear equations $2x + y = 5$ and $3x - 2y = 4$

is/are

రెఖీయ సమీకరణాల జత $2x + y = 5$ మరియు $3x - 2y = 4$ కు గల సాధన (ల) సంఖ్య

Options :


4699756677. ✘ 0

4699756678. ✔ 1

4699756679. ✘ 2

4699756680. ✘ many
(అనేకము)

Question Number : 21 Question Id : 4699751682 Question Type : MCQ Option Shuffling : Yes Display Question Number : Yes
Is Question Mandatory : No Calculator : None Response Time : N.A Think Time : N.A Minimum Instruction Time : 0
Correct Marks : 1 Wrong Marks : 0

Net force on the body shown in FBD is  పటంలో చూపిన స్వేచ్ఛా వస్తు పటంలో ఫలితబలం విలువ

Options :

4699756681. ✘ 

4699756682. ✘ 

4699756683. ✘ 

4699756684. ✔ 

Question Number : 22 Question Id : 4699751683 Question Type : MCQ Option Shuffling : Yes Display Question Number : Yes
Is Question Mandatory : No Calculator : None Response Time : N.A Think Time : N.A Minimum Instruction Time : 0
Correct Marks : 1 Wrong Marks : 0

Which of the following is a blended fabric ?

క్రింది వాటిలో మిశ్రిత వస్త్రం ఏది?

Options :

Rayon
రేయాన్
4699756685. ✘

Acrylic
అక్రిలిక్
4699756686. ✘

Terricot
టెరికాట్
4699756687. ✔

Silk
పట్టు
4699756688. ✘

Question Number : 23 Question Id : 4699751684 Question Type : MCQ Option Shuffling : Yes Display Question Number : Yes
Is Question Mandatory : No Calculator : None Response Time : N.A Think Time : N.A Minimum Instruction Time : 0
Correct Marks : 1 Wrong Marks : 0

The instrument used to estimate the intensity of the earthquake is
భూకంప తీవ్రతను అంచనా వేయడానికి ఉపయోగించే పరికరం

Options :

Seismoscope
భూకంప దర్శిని
4699756689. ✘

Seismograph
భూకంప లేఖిని
4699756690. ✔

Electroscope
విద్యుత్ దర్శిని
4699756691. ✘

Lightning conductor
తడి ద్వాహకం
4699756692. ✘

Question Number : 24 Question Id : 4699751685 Question Type : MCQ Option Shuffling : Yes Display Question Number : Yes
Is Question Mandatory : No Calculator : None Response Time : N.A Think Time : N.A Minimum Instruction Time : 0
Correct Marks : 1 Wrong Marks : 0

The polestar appears as not moving because
ధృవనక్షత్రం కదలకుండా ఉన్నట్లు కనబడడానికి కారణం

Options :

It is situated in the direction of the Earth's longitudes

భూమి రేఖాంశాల దిశలో ధృవనక్షత్రం ఉండడం వల్ల

4699756693. ✘

It is situated in the direction of the Earth's latitudes

భూమి అక్షాంశాల దిశలో ధృవనక్షత్రం ఉండడం వల్ల

4699756694. ✘

It is situated in the direction of the Earth's centre

భూ కేంద్రం దిశలో ధృవనక్షత్రం ఉండడం వల్ల

4699756695. ✘

It is situated in the direction of the Earth's axis

భూమి భ్రమణాక్షం దిశలో ధృవనక్షత్రం ఉండడం వల్ల

4699756696. ✔

Question Number : 25 Question Id : 4699751686 Question Type : MCQ Option Shuffling : Yes Display Question Number : Yes
Is Question Mandatory : No Calculator : None Response Time : N.A Think Time : N.A Minimum Instruction Time : 0
Correct Marks : 1 Wrong Marks : 0

A ray of light incidents on a plane mirror at an angle of 30° to its surface,
what will be the angle of reflection?

సమతల దర్పణానికి 30° కోణంతో ఒక కాంతి కిరణం పతనమైతే పరావర్తన కోణం విలువ ఎంత?

Options :

4699756697. ✘ 0°

4699756698. ✘ 30°

4699756699. ✔ 60°

4699756700. ✘ 90°

Question Number : 26 Question Id : 4699751687 Question Type : MCQ Option Shuffling : Yes Display Question Number : Yes
Is Question Mandatory : No Calculator : None Response Time : N.A Think Time : N.A Minimum Instruction Time : 0
Correct Marks : 1 Wrong Marks : 0

Heterogeneous mixture among the following is

క్రింది వాటిలో విజాతీయ మిశ్రమం

Options :

Oil in water

4699756701. ✔ నీరు - నూనె మిశ్రమం

Air

4699756702. ✖ గాలి

Sugar in water

4699756703. ✖ నీరు-పంచదార మిశ్రమం

Salt in water

4699756704. ✖ నీరు-ఉప్పు మిశ్రమం

Question Number : 27 Question Id : 4699751688 Question Type : MCQ Option Shuffling : Yes Display Question Number : Yes
Is Question Mandatory : No Calculator : None Response Time : N.A Think Time : N.A Minimum Instruction Time : 0
Correct Marks : 1 Wrong Marks : 0

Which of the following is not a double displacement reaction ?

క్రింది వాటిలో రసాయన ద్వంద్వ వియోగ చర్య కానిది ఏది?

Options :

4699756705. ✖ $Pb(NO_3)_2 + 2KI \rightarrow PbI_2 + 2KNO_3$

4699756706. ✔ $CaO + H_2O \rightarrow Ca(OH)_2 + Q$

4699756707. ✖ $NaOH + HCl \rightarrow NaCl + H_2O$

4699756708. ✖ $NaCl + AgNO_3 \rightarrow AgCl + NaNO_3$

Question Number : 28 Question Id : 4699751689 Question Type : MCQ Option Shuffling : Yes Display Question Number : Yes
Is Question Mandatory : No Calculator : None Response Time : N.A Think Time : N.A Minimum Instruction Time : 0
Correct Marks : 1 Wrong Marks : 0

Lemon juice

నిమ్మరసం

Options :

4699756709. ✔ Changes blue litmus paper to red colour
నీలి లిట్మస్ కాగితం రంగును ఎరుపుగా మారుస్తుంది

4699756710. ✖ Changes red litmus paper to blue colour
ఎరుపు లిట్మస్ కాగితం రంగును నీలంగా మారుస్తుంది

4699756711. ✖ Does not change the colour of blue litmus paper
నీలి లిట్మస్ కాగితం రంగును మార్చదు

Does not change the colour of any litmus paper

ఏ లిట్మస్ కాగితం రంగునూ మార్చలేదు

4699756712. ✖

Question Number : 29 Question Id : 4699751690 Question Type : MCQ Option Shuffling : Yes Display Question Number : Yes
Is Question Mandatory : No Calculator : None Response Time : N.A Think Time : N.A Minimum Instruction Time : 0
Correct Marks : 1 Wrong Marks : 0

The Zone of flame where vapourized wax gets completely oxidized is
కొవ్వుత్తి మంటలోని ఏ ప్రాంతంలో భాష్పరూపంలో గల మైనం అక్సిజన్ తో కలిసి పూర్తిగా
దహనం చెందుతుంది?

Options :

Dark Zone

చీకటిగా ఉండే ప్రాంతం

4699756713. ✖

Blue Zone

నీలిరంగు ప్రాంతం

4699756714. ✔

Yellow Zone

పసుపు రంగు ప్రాంతం

4699756715. ✖

Middle Zone

మధ్య ప్రాంతం

4699756716. ✖

Question Number : 30 Question Id : 4699751691 Question Type : MCQ Option Shuffling : Yes Display Question Number : Yes
Is Question Mandatory : No Calculator : None Response Time : N.A Think Time : N.A Minimum Instruction Time : 0
Correct Marks : 1 Wrong Marks : 0

The separation method used to separate powdered salt from powdered
camphor is _____

ఉప్పు పొడి - కర్పూరం పొడి మిశ్రమం నుండి ఉప్పును వేరుచేయడానికి వాడే పద్ధతి _____

Options :

Hand picking

చేతితో ఏరివేయడం

4699756717. ✖

Distillation

స్వేదనం

4699756718. ✖

Sublimation

ఉత్పతనం

4699756719. ✔

Winnowing
తూర్పార పట్టడం

4699756720. ✖

Question Number : 31 Question Id : 4699751692 Question Type : MCQ Option Shuffling : Yes Display Question Number : Yes
Is Question Mandatory : No Calculator : None Response Time : N.A Think Time : N.A Minimum Instruction Time : 0
Correct Marks : 1 Wrong Marks : 0

Fat storing tissue among the following is

క్రింది వాటిలో కొవ్వు పదార్థాన్ని నిలువ చేసే కణజాలం

Options :

Epithelial tissue

4699756721. ✖

ఉపకకా కణజాలం

Adipose tissue

4699756722. ✔

ఎడిపోజ్ కణజాలం

Muscular tissue

4699756723. ✖

కండర కణజాలం

Nervous tissue

4699756724. ✖

నాడీ కణజాలం

Question Number : 32 Question Id : 4699751693 Question Type : MCQ Option Shuffling : Yes Display Question Number : Yes
Is Question Mandatory : No Calculator : None Response Time : N.A Think Time : N.A Minimum Instruction Time : 0
Correct Marks : 1 Wrong Marks : 0

Identify the INCORRECT pair of hormones and their function

హార్మోన్ మరియు వాటి విధుల సరికాని జతను గుర్తించండి

Options :

Vasopressin - Regulate absorption of water from the kidney tubules

4699756725. ✖

వాసోప్రెసిన్ - మూత్రపిండంలో నీటి పునఃశోషణను క్రమబద్ధీకరిస్తుంది

Thyroxine - General growth rate and metabolic activity

4699756726. ✖

థైరాక్సిన్ - సాధారణ పెరుగుదల రేటు మరియు జీవక్రియలు

Adrenalin - Increase glucose percentage in blood

4699756727. ✔

అడ్రినలిన్ - రక్తంలోని గ్లూకోజ్ శాతం పెంచడం

Somatotropin - Growth of bones

సోమాటోట్రోఫిన్ - ఎముకల పెరుగుదల

4699756728. ✘

Question Number : 33 Question Id : 4699751694 Question Type : MCQ Option Shuffling : Yes Display Question Number : Yes
Is Question Mandatory : No Calculator : None Response Time : N.A Think Time : N.A Minimum Instruction Time : 0

Correct Marks : 1 Wrong Marks : 0

Identify the triploblastic and radially symmetrical organism from the following
త్రిస్తరిత, వలయ సౌష్ఠ్యం చూపే జీవిని గుర్తించండి

Options :

Starfish

సముద్ర నక్షత్రం

4699756729. ✔

Jelly fish

జెల్లీఫిష్

4699756730. ✘

Scorpion

తేలు

4699756731. ✘

Ascaris

అస్కారిస్

4699756732. ✘

Question Number : 34 Question Id : 4699751695 Question Type : MCQ Option Shuffling : Yes Display Question Number : Yes
Is Question Mandatory : No Calculator : None Response Time : N.A Think Time : N.A Minimum Instruction Time : 0

Correct Marks : 1 Wrong Marks : 0

These cells are called Microscopic policemen

ఈ కణాలను సూక్ష్మ రక్షక భటులు అంటారు

Options :

Basophils

బేసోఫిల్స్

4699756733. ✘

Neutrophils

న్యూట్రోఫిల్స్

4699756734. ✔

Eosinophils

ఇస్సోఫిల్స్

4699756735. ✘

Monocytes

మోనోసైట్స్

4699756736. ✘

Question Number : 35 Question Id : 4699751696 Question Type : MCQ Option Shuffling : Yes Display Question Number : Yes
Is Question Mandatory : No Calculator : None Response Time : N.A Think Time : N.A Minimum Instruction Time : 0
Correct Marks : 1 Wrong Marks : 0

The part of mid brain is

మధ్య మెదడు యొక్క భాగం

Options :

Diencephalon
ద్వారగోర్ధం

4699756737. ✘

Cerebellum
అనుమస్తీషుం

4699756738. ✘

Pons Varoli
పాన్స్ వెరోలి

4699756739. ✘

Optic lobes
దృక్గోళాలు

4699756740. ✔

Question Number : 36 Question Id : 4699751697 Question Type : MCQ Option Shuffling : Yes Display Question Number : Yes
Is Question Mandatory : No Calculator : None Response Time : N.A Think Time : N.A Minimum Instruction Time : 0
Correct Marks : 1 Wrong Marks : 0

The number of autosomes in a human sperm cell is

మానవ శుక్ర కణంలోని ఆటోసోమ్ల సంఖ్య

Options :

44

4699756741. ✘

22

4699756742. ✔

21

4699756743. ✘

46

4699756744. ✘

Question Number : 37 Question Id : 4699751698 Question Type : MCQ Option Shuffling : Yes Display Question Number : Yes
Is Question Mandatory : No Calculator : None Response Time : N.A Think Time : N.A Minimum Instruction Time : 0
Correct Marks : 1 Wrong Marks : 0

Which of the following is a fossil fuel?

క్రింది వాటిలో శిలాజ ఇంధనం ఏది?

Options :

Wood

చెక్క

4699756745. ✘

Plastic

ప్లాస్టిక్

4699756746. ✘

Petroleum

పెట్రోలియం

4699756747. ✔

Biogas

బయోగ్యాస్

4699756748. ✘

Question Number : 38 Question Id : 4699751699 Question Type : MCQ Option Shuffling : Yes Display Question Number : Yes
Is Question Mandatory : No Calculator : None Response Time : N.A Think Time : N.A Minimum Instruction Time : 0
Correct Marks : 1 Wrong Marks : 0

Blood Cells in humans are formed from
మానవులలో రక్త కణాలు వీటి నుండి ఏర్పడతాయి

Options :

Pancreas

క్లోమం

4699756749. ✘

Bone marrow

అస్థిమజ్జి

4699756750. ✔

Spleen

స్లీహం

4699756751. ✘

Kidney

మూత్రపిండం

4699756752. ✘

Question Number : 39 Question Id : 4699751700 Question Type : MCQ Option Shuffling : Yes Display Question Number : Yes
Is Question Mandatory : No Calculator : None Response Time : N.A Think Time : N.A Minimum Instruction Time : 0
Correct Marks : 1 Wrong Marks : 0

Identify the INCORRECT sentence from the following

కింది వాటిలో సరికాని వాక్యాన్ని గుర్తించండి

Options :

All types of plastics can be recycled together irrespective of its own kind
అన్ని రకాల ప్లాస్టిక్‌లను దాని స్వంత రకంతో సంబంధం లేకుండా కలిపి పునఃచక్రీయం చేయవచ్చు

4699756753. ✓

Deforestation destroys wildlife habitats and increases soil erosion
అడవులను నరికివేయడం వలన వన్యజాతుల ఆవాసాలు నాశనమవుతాయి, భూ క్షయం ఎక్కువవుతుంది

4699756754. ✘

Fertile soil is lost to erosion because of poor farming practices
లోపభూయిష్టమైన వ్యవసాయ పద్ధతుల వలన భూసారం తగ్గిపోతుంది


4699756755. ✘

Mining methods Pollute water and air
మైనింగ్ పద్ధతులు (తవ్వకాలు) నీరు మరియు గాలిని కలుషితం చేస్తాయి

4699756756. ✘

Question Number : 40 Question Id : 4699751701 Question Type : MCQ Option Shuffling : Yes Display Question Number : Yes
Is Question Mandatory : No Calculator : None Response Time : N.A Think Time : N.A Minimum Instruction Time : 0
Correct Marks : 1 Wrong Marks : 0

The given organism in the picture belongs to which microbial group
చిత్రంలో ఇవ్వబడిన జీవి ఏ సూక్ష్మజీవుల సమూహానికి చెందినది?



Options :

Algae
శైవలాలు

4699756757. ✘

Fungi
శిలీంధ్రాలు

4699756758. ✓

Protozoa
ప్రోటోజోవాలు

4699756759. ✘

Bacteria

బాక్టీరియా

4699756760. ✘

Question Number : 41 Question Id : 4699751702 Question Type : MCQ Option Shuffling : Yes Display Question Number : Yes
Is Question Mandatory : No Calculator : None Response Time : N.A Think Time : N.A Minimum Instruction Time : 0

Correct Marks : 1 Wrong Marks : 0

Which of the following is not an example of third order landforms?

మూడవ శ్రేణి భూస్వరూపాలకు ఉదాబహరణ కానిది ఏది?

Options :

Carved mountains

చెక్కుబడిన కొండలు

4699756761. ✘

Sand dunes

ఇసుక పర్వతాలు

4699756762. ✘

Delta

డెల్టా

4699756763. ✘

Plateaus

పీఠభూములు

4699756764. ✔

Question Number : 42 Question Id : 4699751703 Question Type : MCQ Option Shuffling : Yes Display Question Number : Yes
Is Question Mandatory : No Calculator : None Response Time : N.A Think Time : N.A Minimum Instruction Time : 0

Correct Marks : 1 Wrong Marks : 0

The forests that grow between 50°to 70° latitudes in the Northern Hemisphere are

ఉత్తరార్ధ గోళంలో 50° నుంచి 70° అక్షాంశాల మధ్య పెరిగే అడవులు

Options :

Coniferous Forests

శృంగాకారపు అడవులు

4699756765. ✔

Mediterranean Vegetation

మధ్యధరా వృక్షజాలం

4699756766. ✘

Temperate Deciduous Forests

సమశీతోష్ణ అకురాలే అడవులు

4699756767. ✘

Tundra Vegetation

టండ్రా వృక్ష జాలం

4699756768. ✖

Question Number : 43 Question Id : 4699751704 Question Type : MCQ Option Shuffling : Yes Display Question Number : Yes
Is Question Mandatory : No Calculator : None Response Time : N.A Think Time : N.A Minimum Instruction Time : 0
Correct Marks : 1 Wrong Marks : 0

The person who argued that in order to get complete equality Private Property and common enjoyment of the land and its fruits should be abolished was

విలువైన సమానత్వం అన్న సిద్ధాంతాన్ని సాధించాలంటే వ్యక్తిగత ఆస్తిని రద్దు చేసి భూమి దాని ఫలాలు ఉమ్మడి గా అనుభవించాలని వాదించిన వారు

Options :

Saint Simon

సేయింట్ సైమన్

4699756769. ✖

Thomas Moore

థామస్ మూర్

4699756770. ✖

Babeuf

బాబెఫ్

4699756771. ✔

Fredric Engels

ఫ్రెడరిక్ ఎంగెల్స్

4699756772. ✖

Question Number : 44 Question Id : 4699751705 Question Type : MCQ Option Shuffling : Yes Display Question Number : Yes
Is Question Mandatory : No Calculator : None Response Time : N.A Think Time : N.A Minimum Instruction Time : 0
Correct Marks : 1 Wrong Marks : 0

The Motupalli Abhaya Inscription of Ganapati Deva mainly tells about

గణపతి దేవుడు వేయించిన మోటుపల్లి అభయశాసనం ప్రధానంగా దీనిని గురించి తెలుపుతుంది

Options :

Foreign Trade

విదేశీ వాణిజ్యం

4699756773. ✔

Construction of Temple

దేవాలయాల నిర్మాణం

4699756774. ✖

King's invasions

రాజు దండయాత్రలు

4699756775. ✖

Land Grants

4699756776. ✘ భూ దానాలు

Question Number : 45 Question Id : 4699751706 Question Type : MCQ Option Shuffling : Yes Display Question Number : Yes
Is Question Mandatory : No Calculator : None Response Time : N.A Think Time : N.A Minimum Instruction Time : 0
Correct Marks : 1 Wrong Marks : 0

The article of Human Rights that States no one shall be subjected to arbitrary arrest, detention or exile is

అకారాణంగా ఎవరినీ అరెస్ట్ చేయకూడదు, నిర్బంధించుకూడదు బహిష్కరించకూడదు అని
పెర్మోన్న మానవ హక్కుల అధికరణం

Options :

Article 9
ఆర్టికల్ 9
4699756777. ✔

Article 10
ఆర్టికల్ 10
4699756778. ✘

Article 3
ఆర్టికల్ 3
4699756779. ✘

Article 5
ఆర్టికల్ 5
4699756780. ✘

Question Number : 46 Question Id : 4699751707 Question Type : MCQ Option Shuffling : Yes Display Question Number : Yes
Is Question Mandatory : No Calculator : None Response Time : N.A Think Time : N.A Minimum Instruction Time : 0
Correct Marks : 1 Wrong Marks : 0

Constituent Assembly set the nation's agenda for
దీనిని రాజ్యాంగ సభ జాతి యొక్క ఎజెండా గా ఏర్పరిచింది

Options :

Economic Efficiency
ఆర్థిక సామర్థ్యం
4699756781. ✘

Democratic decentralization
ప్రజాస్వామ్య వికేంద్రీకరణ
4699756782. ✘

Social Justice
సామాజిక న్యాయం
4699756783. ✔

Sustainable development

సుస్థిర అభివృద్ధి

4699756784. ✖

Question Number : 47 Question Id : 4699751708 Question Type : MCQ Option Shuffling : Yes Display Question Number : Yes
Is Question Mandatory : No Calculator : None Response Time : N.A Think Time : N.A Minimum Instruction Time : 0
Correct Marks : 1 Wrong Marks : 0

Match the following

క్రింది వానిని జతపరచండి

A. Circar Coast సర్కార్ తీరం	i Himachal range హిమాచల్ శ్రేణి
B. Canara Coast కెనరా తీరం	ii Shivalik range శివాలిక్ శ్రేణి
C. Pir Panjal పిర్ పంజల్	iii East Coast తూర్పు తీరం
D. Purvanchal Hills పూర్వంచల్ పర్వతాలు	iv West Coast పశ్చిమ తీరం

Options :

4699756785. ✖ A-i; B-ii; C-iii; D-iv

4699756786. ✖ A-iv; B-iii; C-ii; D-i

4699756787. ✔ A-iii; B-iv; C-i; D-ii

4699756788. ✖ A-iii; B-ii; C-i; D-iv

Question Number : 48 Question Id : 4699751709 Question Type : MCQ Option Shuffling : Yes Display Question Number : Yes
Is Question Mandatory : No Calculator : None Response Time : N.A Think Time : N.A Minimum Instruction Time : 0
Correct Marks : 1 Wrong Marks : 0

This is not the characteristic features of organic farming

సేంద్రీయ వ్యవసాయ లక్షణం కానిది

Options :

Crop Rotation
పంటలు మార్చిడి

4699756789. ✖

Use of chemical fertilizers
రసాయన ఎరువులను ప్రోత్సహించుట

4699756790. ✓

Use of compost fertilizers
పంటపొగు ఎరువులను వాడటం

4699756791. ✘

User of local resources
స్థానిక ఎరువులను వినియోగించడం

4699756792. ✘

Question Number : 49 Question Id : 4699751710 Question Type : MCQ Option Shuffling : Yes Display Question Number : Yes
Is Question Mandatory : No Calculator : None Response Time : N.A Think Time : N.A Minimum Instruction Time : 0
Correct Marks : 1 Wrong Marks : 0

This is not true related to “Age of Extremes”
‘తీవ్ర సంఘనాలయుగం’ నకు సంబంధించి సరికానిది

Options :

Decline of Fascist power
ఫాసిజం యొక్క అధికారం తగ్గిపోవడం

4699756793. ✓

The need for democracy was growing
ప్రజాస్వామ్యం యొక్క అవసరం పెరగడం

4699756794. ✘

Literacy levels became high
అక్షరాస్యత శాతం పెరగడం

4699756795. ✘

New art forms like movies became popular
సినిమా వంటి క్రొత్త కళారూపాలు ప్రాచుర్యంలోకి రావడం

4699756796. ✘

Question Number : 50 Question Id : 4699751711 Question Type : MCQ Option Shuffling : Yes Display Question Number : Yes
Is Question Mandatory : No Calculator : None Response Time : N.A Think Time : N.A Minimum Instruction Time : 0
Correct Marks : 1 Wrong Marks : 0

The residential area which consists of population between Ten Lakhs to one
crore is known as

పది లక్షల నుండి ఒక కోటి వరకు జనాభా గల నివాస ప్రాంతాన్ని ఇలా పిలుస్తారు

Options :

Mega city
మహానగరం

4699756797. ✘

Metropolitan city
మెట్రో పాలిటిన్ నగరం
4699756798. ✓

Class-1 city
క్లాస్ - 1
4699756799. ✘

Town
పట్టణం
4699756800. ✘

Question Number : 51 Question Id : 4699751712 Question Type : MCQ Option Shuffling : Yes Display Question Number : Yes
Is Question Mandatory : No Calculator : None Response Time : N.A Think Time : N.A Minimum Instruction Time : 0
Correct Marks : 1 Wrong Marks : 0

The Peoples Republic of China was established on the principles of
చైనా ప్రజల గణతంత్రం ఈ సిద్ధాంతాలపై ఏర్పడింది

Options :

Socialism
సామ్యవాదం
4699756801. ✘

Fascism
ఫాసిజం
4699756802. ✘

Militarism
సైనిక వాదం
4699756803. ✘

New Democracy
నూతన ప్రజాస్వామ్యం
4699756804. ✓

Question Number : 52 Question Id : 4699751713 Question Type : MCQ Option Shuffling : Yes Display Question Number : Yes
Is Question Mandatory : No Calculator : None Response Time : N.A Think Time : N.A Minimum Instruction Time : 0
Correct Marks : 1 Wrong Marks : 0

Congo in Africa was a colony of
అఫ్రికాలోని కాంగో ఈ దేశానికి వలస ప్రాంతం

Options :

Britain
బ్రిటన్
4699756805. ✘

Germany
జర్మనీ
4699756806. ✘

France
ఫ్రాన్స్

4699756807. ✘

Belgium
బెల్జియం

4699756808. ✔

Question Number : 53 Question Id : 4699751714 Question Type : MCQ Option Shuffling : Yes Display Question Number : Yes
Is Question Mandatory : No Calculator : None Response Time : N.A Think Time : N.A Minimum Instruction Time : 0
Correct Marks : 1 Wrong Marks : 0

In USA, Black Americans fought against

అమెరికా లో నల్ల జాతీయులు దీనికి విరుద్ధంగా పోరాడారు

Options :

Segregation of Blacks and Whites in Schools and buses

పాఠశాలలు, బస్సులలో నల్లజాతీయులు మరియు శ్వేత జాతీయుల విభజన

4699756809. ✔

Right to vote to Blacks

నల్లజాతీయులు ఓటు హక్కు ఇవ్వడం

4699756810. ✘

Treating Blacks and Whites in the same manner

నల్లజాతీయులు, మరియు శ్వేత జాతీయులను సమానంగా చూడడం

4699756811. ✘

Providing employment opportunities and housing schemes to the Blacks

ఉద్యోగాలు, గృహవసతిలో నల్లజాతీయులకు అవకాశాలు కల్పించడం

4699756812. ✘

Question Number : 54 Question Id : 4699751715 Question Type : MCQ Option Shuffling : Yes Display Question Number : Yes
Is Question Mandatory : No Calculator : None Response Time : N.A Think Time : N.A Minimum Instruction Time : 0
Correct Marks : 1 Wrong Marks : 0

Light red colour on the map represents this in land use

పటాలలో లేత ఎరుపు రంగు భూ వినియోగంలో దేనిని సూచిస్తుంది

Options :

Swamps

చిత్తడి భూములు

4699756813. ✘

Waste- lands

బంజరు భూములు

4699756814. ✔

Cropped area

పంటలు సాగవుతున్న ప్రాంతం

4699756815. ✖

Land useful for agriculture

వ్యవసాయానికి అనువైన భూములు

4699756816. ✖

Question Number : 55 Question Id : 4699751716 Question Type : MCQ Option Shuffling : Yes Display Question Number : Yes
Is Question Mandatory : No Calculator : None Response Time : N.A Think Time : N.A Minimum Instruction Time : 0
Correct Marks : 1 Wrong Marks : 0

Arrange the following in chronological order

క్రింది వాటిని కాలక్రమానుసారంగా అమర్చండి

1. Kheda protest
ఖేడా నిరసనలు
2. Lucknow pact
లక్నో ఒప్పందం
3. Rowlatt act
రౌలట్ చట్టం
4. Abolition of partition of Bengal
బెంగాల్ విభజన రద్దు

Options :

4699756817. ✖ 1, 2, 3, 4

4699756818. ✖ 1, 3, 2, 4

4699756819. ✖ 1, 4, 3, 2

4699756820. ✔ 4, 2, 1, 3

Question Number : 56 Question Id : 4699751717 Question Type : MCQ Option Shuffling : Yes Display Question Number : Yes
Is Question Mandatory : No Calculator : None Response Time : N.A Think Time : N.A Minimum Instruction Time : 0
Correct Marks : 1 Wrong Marks : 0

The Goods and Service Tax (GST) was launched in India in the year

భారతదేశంలో వస్తు సేవా పన్ను (జి.ఎస్.టి.) ఏ సంవత్సరంలో ప్రవేశ పెట్టారు ?

Options :

4699756821. ✖ 2015

4699756822. ✖ 2016

4699756823. ✔ 2017

4699756824. ✖ 2018

Question Number : 57 Question Id : 4699751718 Question Type : MCQ Option Shuffling : Yes Display Question Number : Yes
Is Question Mandatory : No Calculator : None Response Time : N.A Think Time : N.A Minimum Instruction Time : 0
Correct Marks : 1 Wrong Marks : 0

Based on World – Time Zones, when it is 10 a.m at 20° E
Longitude, what is the time at 10° W. longitudes?

ప్రపంచ ప్రామాణిక కాల మండలాల ఆధారంగా 20° తూర్పు రేఖాంశం వద్ద ఉదయం
10 గంటలు అయినపుడు 10° పశ్చిమ రేఖాంశం వద్ద సమయం ఎంత?

Options :

8:00 a.m
ఉదయం 8 గంటలు
4699756825. ✔

12:00 noon
మధ్యాహ్నం 12 గంటలు
4699756826. ✖

9:00 a.m
ఉదయం 9 గంటలు
4699756827. ✖

11:00 a.m
ఉదయం 11 గంటలు
4699756828. ✖

Question Number : 58 Question Id : 4699751719 Question Type : MCQ Option Shuffling : Yes Display Question Number : Yes
Is Question Mandatory : No Calculator : None Response Time : N.A Think Time : N.A Minimum Instruction Time : 0
Correct Marks : 1 Wrong Marks : 0

The state that has the highest concentration of sugar mills in India is
భారతదేశంలో పంచదార కర్మాగారాలు ఎక్కువగా కేంద్రీకృతమైన రాష్ట్రం

Options :

Madhya Pradesh
మధ్యప్రదేశ్
4699756829. ✖

Himachal Pradesh
హిమాచల్ ప్రదేశ్
4699756830. ✖

Rajasthan

రాజస్తాన్

4699756831. ✘

Uttar Pradesh

ఉత్తర ప్రదేశ్

4699756832. ✔

Question Number : 59 Question Id : 4699751720 Question Type : MCQ Option Shuffling : Yes Display Question Number : Yes
Is Question Mandatory : No Calculator : None Response Time : N.A Think Time : N.A Minimum Instruction Time : 0
Correct Marks : 1 Wrong Marks : 0

The Mahajanapada of ancient India with the capital of Kotilingala was

'కోటి లింగాల' రాజధాని గల ప్రాచీన భారతదేశంలోని ఒక మహాజనపదం

Options :

Magadha

మగధ

4699756833. ✘

Asmaka

అస్మక

4699756834. ✔

Kosala

కోసల

4699756835. ✘

Vatsa

వత్స

4699756836. ✘

Question Number : 60 Question Id : 4699751721 Question Type : MCQ Option Shuffling : Yes Display Question Number : Yes
Is Question Mandatory : No Calculator : None Response Time : N.A Think Time : N.A Minimum Instruction Time : 0
Correct Marks : 1 Wrong Marks : 0

The Proportion of members of Legislative Council of Telangana to be

Elected by the Teachers is

తెలంగాణా శాసన మండలిలో ఎన్నవ వంతు ఉపాధ్యాయులు ఎన్నుకుంటారు

Options :

1/3rd

1/3వ వంతు

4699756837. ✘

1/6th

1/6వ వంతు

4699756838. ✘

1/12th
1/12 వ వంతు
4699756839. ✓

1/4th
1/4వ వంతు
4699756840. ✗

Teaching Aptitude

Section Id :	46997557
Section Number :	2
Section type :	Online
Mandatory or Optional :	Mandatory
Number of Questions :	20
Number of Questions to be attempted :	20
Section Marks :	20
Enable Mark as Answered Mark for Review and Clear Response :	Yes
Maximum Instruction Time :	0
Sub-Section Number :	1
Sub-Section Id :	46997568
Question Shuffling Allowed :	Yes
Is Section Default? :	null

Question Number : 61 Question Id : 4699751722 Question Type : MCQ Option Shuffling : Yes Display Question Number : Yes
Is Question Mandatory : No Calculator : None Response Time : N.A Think Time : N.A Minimum Instruction Time : 0
Correct Marks : 1 Wrong Marks : 0

Which of the following is least essential for a teacher?
క్రింది వాటిలో ఒక ఉపాధ్యాయుడికి అతి తక్కువ అవసరమయ్యేది ఏది?

Options :

Knowledge of dance and music
నాట్యం మరియు సంగీతానికి సంబంధించిన జ్ఞానం
4699756841. ✓

Content knowledge
విషయ అవగాహన
4699756842. ✗

Communication skills
సమాచార నైపుణ్యాలు
4699756843. ✗

Respect for human rights
మానవ హక్కుల పట్ల గౌరవం
4699756844. ✗

Question Number : 62 Question Id : 4699751723 Question Type : MCQ Option Shuffling : Yes Display Question Number : Yes
Is Question Mandatory : No Calculator : None Response Time : N.A Think Time : N.A Minimum Instruction Time : 0

Correct Marks : 1 Wrong Marks : 0

If teacher's objective is to develop problem solving skills, the activities should be designed to facilitate :

ఒక ఉపాధ్యాయుని లక్ష్యం సమస్య పరిష్కార నైపుణ్యాలను అభివృద్ధి చేయడం అయితే, కృత్యాలను ఈ విధంగా రూపొందించాలి

Options :

Recall and Recognition

గుర్తుచేసుకోవడం మరియు గుర్తించడం

4699756845. ✘

Drill and Practice

ఒక దానిని పదే పదే చదివించడం మరియు సాధన చేయడం

4699756846. ✘

Reasoning and Decision making

తార్కికం మరియు నిర్ణయం తీసుకోవడం

4699756847. ✔

Memory and Understanding

జ్ఞప్తి మరియు అవగాహన

4699756848. ✘

Question Number : 63 Question Id : 4699751724 Question Type : MCQ Option Shuffling : Yes Display Question Number : Yes Is Question Mandatory : No Calculator : None Response Time : N.A Think Time : N.A Minimum Instruction Time : 0

Correct Marks : 1 Wrong Marks : 0

Which of the following is not a competency of a teacher as a professional ?

క్రింది వాటిలో ఉపాధ్యాయుడికి వృత్తిపరమైన సామర్థ్యం కానిది ఏది?

Options :

Curricular and content competencies

విద్యా ప్రణాళిక మరియు విషయాల సామర్థ్యం

4699756849. ✘

Transactional competencies

బోధనా సామర్థ్యం

4699756850. ✘

Competencies related to community

సమాజానికి సంబంధించిన సామర్థ్యం

4699756851. ✘

Competencies related to politics, caste and religious affiliations

రాజకీయ, కుల మరియు మత అనుబంధిత సామర్థ్యాలు

4699756852. ✔

Question Number : 64 Question Id : 4699751725 Question Type : MCQ Option Shuffling : Yes Display Question Number : Yes Is Question Mandatory : No Calculator : None Response Time : N.A Think Time : N.A Minimum Instruction Time : 0

Correct Marks : 1 Wrong Marks : 0

Whatever be the mistake committed by a student, the teacher shall ...

విద్యార్థి ఎటువంటి తప్పు చేసిననూ, ఉపాధ్యాయుడు

Options :

Not physically harm the learner

విద్యార్థికి శారీరక హాని కలిగించదు

4699756853. ✓

Not report the matter to the principal

ప్రధానోపాధ్యాయుడి దృష్టికి ఏ సమస్యను తీసుకెళ్ళొద్దు

4699756854. ✘

Not inform any problem to the parents of students

విద్యార్థుల తల్లిదండ్రుల దృష్టికి ఏ సమస్యను తీసుకెళ్ళొద్దు

4699756855. ✘

Not escalate the issue to higher authorities

పై అధికారుల దృష్టికి సమస్యను తీసుకెళ్ళొద్దు

4699756856. ✘

Question Number : 65 Question Id : 4699751726 Question Type : MCQ Option Shuffling : Yes Display Question Number : Yes
Is Question Mandatory : No Calculator : None Response Time : N.A Think Time : N.A Minimum Instruction Time : 0

Correct Marks : 1 Wrong Marks : 0

'Students' watch a video about photosynthesis sent by their teacher at home and conduct an experiment and discuss results in school' is an example of

'విద్యార్థులు, తమ ఉపాధ్యాయుడు పంపిన కిరణజన్య విడియోను ఇంటి వద్ద చూసి తరగతి గదిలో ప్రయోగం చేసి, పాఠశాలలో దాని ఫలితాలను చర్చించడం' దీనికి ఉదాహరణ

Options :

Traditional Classroom

సాంప్రదాయ తరగతి గది

4699756857. ✘

Flipped classroom

ఫ్లిప్డ్ తరగతి గది

4699756858. ✓

Discussion classroom

చర్చ తరగతి గది

4699756859. ✘

Mixed Classroom

సమ్మిశ్రితమైన తరగతి గది

4699756860. ✘

Question Number : 66 Question Id : 4699751727 Question Type : MCQ Option Shuffling : Yes Display Question Number : Yes
Is Question Mandatory : No Calculator : None Response Time : N.A Think Time : N.A Minimum Instruction Time : 0
Correct Marks : 1 Wrong Marks : 0

Who among the following would be rated as a better teacher?

క్రింది వారిలో , ఎవరిని మంచి ఉపాధ్యాయుడు అని అంటారు?

Options :

4699756861. ✘ One who uses black board, charts and maps
నల్లబల్ల, చార్టులు మరియు పటాలను ఉపయోగించే వారిని

4699756862. ✘ One who lectures and uses the blackboard only sparingly
ప్రసంగిస్తూ మితంగా నల్లబల్ల ఉపయోగించే వారిని

4699756863. ✘ One who only lectures by sitting on the chair
కుర్చి పై కూర్చోని ప్రసంగించే వారిని

4699756864. ✔ One who facilitates learning
అభ్యసనకు దోహదం చేసేవారిని

Question Number : 67 Question Id : 4699751728 Question Type : MCQ Option Shuffling : Yes Display Question Number : Yes
Is Question Mandatory : No Calculator : None Response Time : N.A Think Time : N.A Minimum Instruction Time : 0
Correct Marks : 1 Wrong Marks : 0

Which of the following is an example of software material?

క్రింది వాటిలో సాఫ్ట్‌వేర్ సామాగ్రి కి ఉదాహరణ ఏది ?

Options :

4699756865. ✘ Computer / Laptop
కంప్యూటర్ /లాప్‌టాప్

4699756866. ✘ Overhead projector / Projection Screen
ఓవర్‌హెడ్ ప్రొజెక్టర్ / ప్రొజెక్షన్ స్క్రీన్

4699756867. ✔ Audio / Videotapes with recordings
అడియో / రికార్డింగ్‌తో ఉన్న విడియోటేప్స్

4699756868. ✘ LCD Projector / TV
ఎల్‌సిడి ప్రొజెక్టర్ / టెలివిజన్

Question Number : 68 Question Id : 4699751729 Question Type : MCQ Option Shuffling : Yes Display Question Number : Yes
Is Question Mandatory : No Calculator : None Response Time : N.A Think Time : N.A Minimum Instruction Time : 0
Correct Marks : 1 Wrong Marks : 0

Which of the following are incorrectly matched?

క్రింది వానిలో సరికాని జతను గుర్తించండి

Options :

4699756869. ✖ Article 21 A : Right to Education
అధికరణ 21 ఎ విద్యా హక్కు
4699756870. ✖ Article 28 (1) (2) (3) : Right to Religious Education
అధికరణ 28 (1) (2) (3) మతపరమైన విద్యా హక్కు
4699756871. ✔ Article 15 (1) (3) : Promotion of Hindi
అధికరణ 15 (1) (3) హిందీని ప్రోత్సహించడం
4699756872. ✖ Article 46 : Promotion of Education and Economic Interests of
SC, ST and other weaker sections
అధికరణ 46 షెడ్యూల్డ్ కులాలు, షెడ్యూల్డ్ తెగలు మరియు ఇతర బలహీన
వర్గాల విద్య మరియు ఆర్థిక ప్రోత్సాహం

Question Number : 69 Question Id : 4699751730 Question Type : MCQ Option Shuffling : Yes Display Question Number : Yes
Is Question Mandatory : No Calculator : None Response Time : N.A Think Time : N.A Minimum Instruction Time : 0
Correct Marks : 1 Wrong Marks : 0

What do the letters 'ICT' denote?

ఐ.సి.టి. (ICT) పూర్తి రూపం

Options :

4699756873. ✖ Information Creation of Technology
ఇన్ఫర్మేషన్ క్రియేషన్ ఆఫ్ టెక్నాలజీ
4699756874. ✔ Information and Communication Technology
ఇన్ఫర్మేషన్ మరియు కమ్యూనికేషన్ టెక్నాలజీ
4699756875. ✖ Innovation, Creation and Technology
ఇన్నోవేషన్, క్రియేషన్ అండ్ టెక్నాలజీ
4699756876. ✖ Information, Citizenship and training
ఇన్ఫర్మేషన్ సిటిజన్షిప్ అండ్ ట్రైనింగ్

Question Number : 70 Question Id : 4699751731 Question Type : MCQ Option Shuffling : Yes Display Question Number : Yes
Is Question Mandatory : No Calculator : None Response Time : N.A Think Time : N.A Minimum Instruction Time : 0

Correct Marks : 1 Wrong Marks : 0

What is the name of the Yashpal Committee Report?

యశ్పాల్ కమిటీ నివేదిక పేరు ఏమిటి?

Options :

4699756877. ✘ Learning is joyful
సంతోషకరమైన అభ్యసనం

4699756878. ✔ Learning without burden
భారం లేని అభ్యసనం

4699756879. ✘ Learning without pain
నొప్పి లేని అభ్యసనం

4699756880. ✘ Learning is fun
అభ్యసనం ఓ వినోదం

Question Number : 71 Question Id : 4699751732 Question Type : MCQ Option Shuffling : Yes Display Question Number : Yes
Is Question Mandatory : No Calculator : None Response Time : N.A Think Time : N.A Minimum Instruction Time : 0

Correct Marks : 1 Wrong Marks : 0

Among the following, which is the best state of mind conducive for learning?

క్రింది వాటిలో అభ్యసించుటకు, మనస్సు యొక్క ఉత్తమ స్థాయి ఏది?

Options :

4699756881. ✘ Low motivation, Low fear
తక్కువ ప్రేరణ, తక్కువ భయం

4699756882. ✘ High motivation, High fear
ఎక్కువ ప్రేరణ, ఎక్కువ భయం

4699756883. ✔ High motivation, Low fear
ఎక్కువ ప్రేరణ, తక్కువ భయం

4699756884. ✘ Low motivation, High fear
తక్కువ ప్రేరణ, ఎక్కువ భయం

Question Number : 72 Question Id : 4699751733 Question Type : MCQ Option Shuffling : Yes Display Question Number : Yes
Is Question Mandatory : No Calculator : None Response Time : N.A Think Time : N.A Minimum Instruction Time : 0

Correct Marks : 1 Wrong Marks : 0

Which of the following is not a quality to be demonstrated by a teacher?

క్రింది వాటిలో ఉపాధాయుడు ఏ లక్షణాన్ని ప్రదర్శించరాదు?

Options :

Teacher must be fair and unbiased in marking and grading

ఉపాధ్యాయుడు మార్కింగ్ మరియు గ్రేడింగ్ చేసేటప్పుడు న్యాయంగా మరియు నిష్పక్షపాతంగా ఉండాలి

4699756885. ✘

Teacher should maintain an autocratic atmosphere in the class

ఉపాధ్యాయుడు నిరంకుశ వాతావరణాన్ని తరగతి గదిలో నిర్వహించాలి

4699756886. ✔

Teacher uses different teaching methods and gadgets

ఉపాధ్యాయుడు వివిధ బోధనా పద్ధతులను మరియు పరికరాలను ఉపయోగించాలి

4699756887. ✘

Teacher should keep himself updated with content

ఉపాధ్యాయుడు ఎప్పటికప్పుడు జరుగుతున్న మార్పుల పై సమాచారం తెలుసుకోవాలి

4699756888. ✘

Question Number : 73 Question Id : 4699751734 Question Type : MCQ Option Shuffling : Yes Display Question Number : Yes
Is Question Mandatory : No Calculator : None Response Time : N.A Think Time : N.A Minimum Instruction Time : 0
Correct Marks : 1 Wrong Marks : 0

As a teacher, on the basis of which of the following you will grade your students in their practicum?

ఒక ఉపాధ్యాయుడిగా, మీరు మీ విద్యార్థులను దేని ఆధారంగా ప్రాక్టికల్స్ కు గ్రేడ్ వేస్తారు?

Options :

Grade them based on whether they are enrolled in private tuition or not

ప్రైవేటు ట్యూషన్ కి వెళ్తున్నారా లేదా అన్న దాని పై గ్రేడ్ ఇవ్వడం

4699756889. ✘

4699756890. ✘

Grade the students on the basis of their behavior with support staff, other students and yourself

పాఠశాల లో తోటి విద్యార్థులతో, ఇతర సిబ్బందితో మరియు మీ తో ప్రవర్తించిన విధానాన్ని ఆధారంగా చేసుకొని గ్రేడ్ ఇవ్వడం

Grade the students only on the basis of their performance in practical classes without any bias

ప్రాక్టికల్స్ తరగతి గదిలో వారు ప్రదర్శించిన సామర్థ్యాన్ని బట్టి నిష్పక్షపాతంగా గ్రేడ్ ఇవ్వడం

4699756891. ✔

Grade them based on their participation and behavior in lecture classes

ఉపన్యాస తరగతి గదిలో వారి చొరవ మరియు వారి ప్రవర్తన ఆధారంగా గ్రేడ్ ఇవ్వడం

4699756892. ✘

Question Number : 74 Question Id : 4699751735 Question Type : MCQ Option Shuffling : Yes Display Question Number : Yes
Is Question Mandatory : No Calculator : None Response Time : N.A Think Time : N.A Minimum Instruction Time : 0
Correct Marks : 1 Wrong Marks : 0

Which of the following is the apex institution involved in the planned and coordinated development of the teacher education system in the country?

దేశంలో ఉపాధ్యాయ విద్యా వ్యవస్థ యొక్క ప్రణాళిక మరియు సమన్వయ అభివృద్ధి కై పనిచేస్తున్న అత్యున్నత సంస్థ ఏది?

Options :

University Grants Commission (UGC)

4699756893. ✘ యూనివర్సిటీ గ్రాంట్స్ కమిషన్ (UGC)

National Council of Educational Research and Training (NCERT)

4699756894. ✘ నేషనల్ కౌన్సిల్ ఆఫ్ ఎడ్యుకేషనల్ రిసర్చ్ అండ్ ట్రేనింగ్ (NCERT)

National Council for Teacher Education (NCTE)

4699756895. ✔ నేషనల్ కౌన్సిల్ ఫర్ టీచర్ ఎడ్యుకేషన్ (NCTE)

National University of Educational Planning and Administration (NUEPA)

4699756896. ✘ నేషనల్ యూనివర్సిటీ ఆఫ్ ఎడ్యుకేషనల్ ప్లానింగ్ అండ్ అడ్మినిస్ట్రేషన్ (NUEPA)

Question Number : 75 Question Id : 4699751736 Question Type : MCQ Option Shuffling : Yes Display Question Number : Yes
Is Question Mandatory : No Calculator : None Response Time : N.A Think Time : N.A Minimum Instruction Time : 0
Correct Marks : 1 Wrong Marks : 0

The most important concern of the teacher while distributing the report card to parents should be....

తల్లిదండ్రులకు విద్యార్థి పురోగతి కార్డు పంపిణీ చేస్తున్నప్పుడు ఉపాధ్యాయుడు పాటించాల్సిన అతి ముఖ్యమైన అంశము

Options :

Discuss the unsettled bills of the child

4699756897. ✘ చెల్లించని బిల్లు పై చర్చించడం

4699756898. ✘

Inform the parents of the complaints received from teachers and peers about the child

తోటి విద్యార్థుల మరియు ఉపాధ్యాయుల యొక్క ఫిర్యాదులను తల్లిదండ్రులకు తెలియచేయడం

Get parents to respond about future projects the school proposes to take up

4699756899. ✘ పాఠశాల యొక్క భవిష్యత్తు కార్యచరణ పై తల్లిదండ్రుల ప్రతిస్పందన స్వీకరించడం

4699756900. ✓

Report to parents about progress and deficiencies of the child and discuss about remedial measures

విద్యార్థి యొక్క పురోగతి మరియు లోపాల గురించి చర్చించి వాటిని అధిగమించుటకు తగిన సూచనలపై తల్లిదండ్రులతో చర్చించడం

Question Number : 76 Question Id : 4699751737 Question Type : MCQ Option Shuffling : Yes Display Question Number : Yes Is Question Mandatory : No Calculator : None Response Time : N.A Think Time : N.A Minimum Instruction Time : 0 Correct Marks : 1 Wrong Marks : 0

Which one of the following is most appropriate with respect to teacher – student relationship?

ఉపాధ్యాయ విద్యార్థి మధ్యగల సంబంధానికి సరియైనది ఏది?

Options :

Very Informal and intimate

చాలా అనధికారక మరియు సన్నిహితమైనది

4699756901. ✘

Limited to classroom only

తరగతి గది వరకే పరిమితమైనది

4699756902. ✘

Carefree and Indifferent

నిర్లక్ష్యం మరియు భిన్నంగా ఉండడం

4699756903. ✘

Cordial and Respectful

సహజమైన మరియు గౌరవ ప్రదమైన

4699756904. ✓

Question Number : 77 Question Id : 4699751738 Question Type : MCQ Option Shuffling : Yes Display Question Number : Yes Is Question Mandatory : No Calculator : None Response Time : N.A Think Time : N.A Minimum Instruction Time : 0 Correct Marks : 1 Wrong Marks : 0

Which of the following statements is about diagnostic test?

లోప నిర్ధారణ నికష గురించి తెలిపేది ఏది?

Options :

It helps in elimination in the process of selection of pupils

ఇది విద్యార్థుల ఎంపిక ప్రక్రియ తొలగింపులో సహాయపడుతుంది

4699756905. ✘

It helps teacher in selecting relevant test material

సంబంధిత పరీక్ష సామాగ్రిని ఎంచుకొనుటకు ఉపాధ్యాయుడికి సహాయపడుతుంది

4699756906. ✘

It helps to identify lacunas in the teaching learning process
చోధన అభ్యాసన విధానంలో లోపాలను గుర్తించుటకు సహాయపడుతుంది

4699756907. ✘

It helps to find out students errors, to determine remedial measures
విద్యార్థుల లోపాలను తెలుసుకొని, వాటి నివారణ చర్యలను చేపట్టడం

4699756908. ✔

Question Number : 78 Question Id : 4699751739 Question Type : MCQ Option Shuffling : Yes Display Question Number : Yes
Is Question Mandatory : No Calculator : None Response Time : N.A Think Time : N.A Minimum Instruction Time : 0
Correct Marks : 1 Wrong Marks : 0

Which of the following is a threat according to SWOT analysis of teaching learning process?

ఎస్.డబ్ల్యు.ఓ.టి (SWOT) చోధన అభ్యాసన ప్రక్రియ విశ్లేషణకు ఉన్న ముప్పును గుర్తించండి?

Options :

An aggressive teacher

4699756909. ✔ కలహానికి కాలు దువ్వే ఉపాధ్యాయుడు

A friendly and encouraging peer group

స్నేహపూర్వక మరియు ప్రోత్సాహకరమైన సహచరబృందం

4699756910. ✘

Completion of assignments on time

సమయానికి ఇచ్చిన కృత్యాలు పూర్తి చేయడం

4699756911. ✘

A peaceful atmosphere in the classroom

తరగతి గదిలో ప్రశాంతమైన వాతావరణం

4699756912. ✘

Question Number : 79 Question Id : 4699751740 Question Type : MCQ Option Shuffling : Yes Display Question Number : Yes
Is Question Mandatory : No Calculator : None Response Time : N.A Think Time : N.A Minimum Instruction Time : 0
Correct Marks : 1 Wrong Marks : 0

Article 45 under the directive principle of the State Policy of the Indian Constitution provides for

భారత రాజ్యాంగంలో ఆదేశిక సూత్రాలలో 45 అధికరణ

Options :

Rights of Minorities to Establish Educational Institutions

4699756913. ✘ అల్పసంఖ్యాకులు విద్యా సంస్థలను ఏర్పాటు చేసుకునే హక్కును కల్పిస్తుంది

Free and Compulsory Primary Education

4699756914. ✔ ఉచిత మరియు నిర్బంధ ప్రాథమిక విద్యను అందిస్తుంది

Giving Financial Assistance to Economically Weaker Sections

ఆర్థికంగా వెనుక బడిన వర్గాలకు ఆర్థిక సహాయాన్ని అందిస్తుంది

4699756915. ✖

Fundamental duty to provide the opportunity for Education

విద్య పొందుటకు అవకాశాన్ని ప్రాథమిక విధిగా కల్పిస్తుంది

4699756916. ✖

Question Number : 80 Question Id : 4699751741 Question Type : MCQ Option Shuffling : Yes Display Question Number : Yes
Is Question Mandatory : No Calculator : None Response Time : N.A Think Time : N.A Minimum Instruction Time : 0
Correct Marks : 1 Wrong Marks : 0

Considering teaching as a process we can say that:

బోధన అన్న దాని ఒక ప్రక్రియ గా పరిగణిస్తే

Statement 1: Teaching is goal oriented with change of learner behavior as the ultimate end

వాక్యం 1 : బోధన అనునది లక్ష్య ఆధారిత ప్రక్రియ లో విద్యార్థి ప్రవర్తన లో మార్పు అనునది చివరిగా సాధించేది

Statement 2: Teaching is an irrational and reflective process

వాక్యం 2 : బోధన అనునది అహేతుక మరియు ప్రతిస్పందించే ప్రక్రియ

Options :

Both the statements are true

రెండు వాక్యాలు సరైనవి

4699756917. ✖

Both the statements are false

రెండు వాక్యాలు సరికానివి

4699756918. ✖

Statement 1 is true and Statement 2 is false

మొదటి వాక్యం సరైనది మరియు రెండవ వాక్యం సరికానిది

4699756919. ✔

Statement 1 is false and Statement 2 is true

మొదటి వాక్యం సరికానిది మరియు రెండవ వాక్యం సరైనది

4699756920. ✖

General English

Section Id :	46997558
Section Number :	3
Section type :	Online
Mandatory or Optional :	Mandatory
Number of Questions :	16
Number of Questions to be attempted :	16
Section Marks :	20

Enable Mark as Answered Mark for Review and Clear Response : Yes
Maximum Instruction Time : 0
Sub-Section Number : 1
Sub-Section Id : 46997569
Question Shuffling Allowed : No
Is Section Default? : null

Question Id : 4699751742 Question Type : COMPREHENSION Sub Question Shuffling Allowed : No Group Comprehension Questions : No Question Pattern Type : NonMatrix Calculator : None Response Time : N.A Think Time : N.A Minimum Instruction Time : 0
Question Numbers : (81 to 85)

Read the passage carefully and answer questions 81- 85

The human skeletal system is a structure made of bones. It's very strong. The quality of the skeletal system helps determine the age of children.

Some experts also believe that the more good quality nutrition goes into the body of the children, the stronger the skeletal system becomes. The age of children is also determined by counting their teeth. This process is mostly used at the places where sporting events are held.

By counting their teeth, experts easily find out their age and get the children to compete with children of the same age.

It means that to determine the age of children, you can examine their skeletal system, count their teeth or count the years, months and days chronologically. The most common way to determine the age of children is to count the years, months and days chronologically.

Sub questions

Question Number : 81 Question Id : 4699751743 Question Type : MCQ Option Shuffling : No Display Question Number : Yes Is Question Mandatory : No Calculator : None Response Time : N.A Think Time : N.A Minimum Instruction Time : 0
Correct Marks : 1 Wrong Marks : 0

The human skeletal system is

Options :

4699756921. ✘ Flexible

4699756922. ✔ Strong

4699756923. ✘ Very firm

4699756924. ✖ Normal

Question Number : 82 Question Id : 4699751744 Question Type : MCQ Option Shuffling : No Display Question Number : Yes
Is Question Mandatory : No Calculator : None Response Time : N.A Think Time : N.A Minimum Instruction Time : 0
Correct Marks : 1 Wrong Marks : 0

What do the experts believe?

Options :

4699756925. ✖ They believe that the skeletal system is strengthened by functioning

4699756926. ✖ They believe that sports strengthen the skeletal system

4699756927. ✖

They believe that if the mental and physical strength is fine, the skeletal system will be stronger

4699756928. ✔

They believe that the more good quality nutrition goes into the body of the children the stronger the skeletal system becomes

Question Number : 83 Question Id : 4699751745 Question Type : MCQ Option Shuffling : No Display Question Number : Yes
Is Question Mandatory : No Calculator : None Response Time : N.A Think Time : N.A Minimum Instruction Time : 0
Correct Marks : 1 Wrong Marks : 0

How many ways are there to determine the age of childrens?

Options :

4699756929. ✖ One

4699756930. ✖ Two

4699756931. ✔ Three

4699756932. ✖ Ten

Question Number : 84 Question Id : 4699751746 Question Type : MCQ Option Shuffling : No Display Question Number : Yes
Is Question Mandatory : No Calculator : None Response Time : N.A Think Time : N.A Minimum Instruction Time : 0
Correct Marks : 1 Wrong Marks : 0

How do experts find out the age of children during sporting events?

Options :

4699756933. ✔ By counting their teeth

4699756934. ✘ By checking their mental strength

4699756935. ✘ By examining their skeletal system

4699756936. ✘ By checking their physical strength

Question Number : 85 Question Id : 4699751747 Question Type : MCQ Option Shuffling : No Display Question Number : Yes
Is Question Mandatory : No Calculator : None Response Time : N.A Think Time : N.A Minimum Instruction Time : 0
Correct Marks : 1 Wrong Marks : 0

What is the most common way to determine the age of children?

Options :

4699756937. ✘ By counting their teeth

4699756938. ✔ By counting the years, months and days chronologically

4699756939. ✘ By examining their skeletal system

4699756940. ✘ By checking their physical strength

Sub-Section Number :	2
Sub-Section Id :	46997570
Question Shuffling Allowed :	Yes
Is Section Default? :	null

Question Number : 86 Question Id : 4699751748 Question Type : MCQ Option Shuffling : Yes Display Question Number : Yes
Is Question Mandatory : No Calculator : None Response Time : N.A Think Time : N.A Minimum Instruction Time : 0
Correct Marks : 1 Wrong Marks : 0

Select the proper prefix for the word Editor

Options :

4699756941. ✘ Bye

4699756942. ✔ Sub

4699756943. ✔ Joint

4699756944. ✘ Bi

Note: For this question, ambiguity is found in question/answer. Candidate will get full marks for this question if any of the correct options are chosen.

Question Number : 87 Question Id : 4699751749 Question Type : MCQ Option Shuffling : Yes Display Question Number : Yes
Is Question Mandatory : No Calculator : None Response Time : N.A Think Time : N.A Minimum Instruction Time : 0
Correct Marks : 1 Wrong Marks : 0

In each of the following, find the correctly spelt word

Options :

4699756945. ✘ Surveillance

4699756946. ✔ Surveillance

4699756947. ✘ Survellance

4699756948. ✘ Survaillance

Question Number : 88 Question Id : 4699751750 Question Type : MCQ Option Shuffling : Yes Display Question Number : Yes
Is Question Mandatory : No Calculator : None Response Time : N.A Think Time : N.A Minimum Instruction Time : 0
Correct Marks : 1 Wrong Marks : 0

Fill in the blanks with suitable articles

Your look very tired. You need _____ holiday.

Options :

4699756949. ✔ a

4699756950. ✘ an

4699756951. ✘ the

4699756952. ✘ to

Question Number : 89 Question Id : 4699751751 Question Type : MCQ Option Shuffling : Yes Display Question Number : Yes
Is Question Mandatory : No Calculator : None Response Time : N.A Think Time : N.A Minimum Instruction Time : 0
Correct Marks : 1 Wrong Marks : 0

Sushma is _____ student. When she finishes her studies,
she want to be _____ Journalist

Options :

4699756953. ✘ a, an

4699756954. ✔ a, a

4699756955. ✘ an, the

4699756956. ✖ the, the

Question Number : 90 Question Id : 4699751752 Question Type : MCQ Option Shuffling : Yes Display Question Number : Yes
Is Question Mandatory : No Calculator : None Response Time : N.A Think Time : N.A Minimum Instruction Time : 0
Correct Marks : 1 Wrong Marks : 0

Fill in the blanks with correct preposition

The cat is sitting _____ the wall

Options :

4699756957. ✖ at

4699756958. ✖ with

4699756959. ✔ on

4699756960. ✖ to

Question Number : 91 Question Id : 4699751753 Question Type : MCQ Option Shuffling : Yes Display Question Number : Yes
Is Question Mandatory : No Calculator : None Response Time : N.A Think Time : N.A Minimum Instruction Time : 0
Correct Marks : 1 Wrong Marks : 0

Choose the correct synonym for the word underlined

Verbose

Options :

4699756961. ✔ Talkative

4699756962. ✖ Natural

4699756963. ✖ Effortless

4699756964. ✖ Random

Question Number : 92 Question Id : 4699751754 Question Type : MCQ Option Shuffling : Yes Display Question Number : Yes
Is Question Mandatory : No Calculator : None Response Time : N.A Think Time : N.A Minimum Instruction Time : 0
Correct Marks : 1 Wrong Marks : 0

Choose the correct antonym for the word underlined

What is an antonym for altruistic?

Options :

4699756965. ✖ Benevolent

4699756966. ✓ Selfish

4699756967. ✗ Liberal

4699756968. ✗ Magnanimous

Question Number : 93 Question Id : 4699751755 Question Type : MCQ Option Shuffling : Yes Display Question Number : Yes
Is Question Mandatory : No Calculator : None Response Time : N.A Think Time : N.A Minimum Instruction Time : 0
Correct Marks : 1 Wrong Marks : 0

Fill in the blanks with phrasal Verbs

Let's _____ that old box. We don't need it.

Options :

4699756969. ✗ throw up

4699756970. ✗ throw in

4699756971. ✓ throw away

4699756972. ✗ throw into

Question Number : 94 Question Id : 4699751756 Question Type : MCQ Option Shuffling : Yes Display Question Number : Yes
Is Question Mandatory : No Calculator : None Response Time : N.A Think Time : N.A Minimum Instruction Time : 0
Correct Marks : 1 Wrong Marks : 0

Choose the word spelt correctly

Options :

4699756973. ✗ Garanter

4699756974. ✗ Garantor

4699756975. ✗ Guaranter

4699756976. ✓ Guarantor

Question Number : 95 Question Id : 4699751757 Question Type : MCQ Option Shuffling : Yes Display Question Number : Yes
Is Question Mandatory : No Calculator : None Response Time : N.A Think Time : N.A Minimum Instruction Time : 0
Correct Marks : 1 Wrong Marks : 0

Add a question tag to the following statement:

We can go to the amusement park with you. _____ ?

Options :

4699756977. ✓ Can't we

4699756978. ✗ Don't we

4699756979. ✗ Can we

4699756980. ✗ Aren't we

Question Number : 96 Question Id : 4699751758 Question Type : MCQ Option Shuffling : Yes Display Question Number : Yes
Is Question Mandatory : No Calculator : None Response Time : N.A Think Time : N.A Minimum Instruction Time : 0
Correct Marks : 1 Wrong Marks : 0

Fill in the blanks with the most suitable pair of words.

_____ the people at the party, _____ we shall be.

Options :

4699756981. ✗ The less, the better

4699756982. ✗ The mere, the better

4699756983. ✓ The more, the merrier

4699756984. ✗ The faster, the better

Question Number : 97 Question Id : 4699751759 Question Type : MCQ Option Shuffling : Yes Display Question Number : Yes
Is Question Mandatory : No Calculator : None Response Time : N.A Think Time : N.A Minimum Instruction Time : 0
Correct Marks : 1 Wrong Marks : 0

A mother has to _____ the pangs of giving _____ to her child.

Options :

4699756985. ✓ bear, birth

4699756986. ✗ bare, berth

4699756987. ✗ bare, birth

4699756988. ✘ bear, berth

Question Number : 98 Question Id : 4699751760 Question Type : MCQ Option Shuffling : Yes Display Question Number : Yes
Is Question Mandatory : No Calculator : None Response Time : N.A Think Time : N.A Minimum Instruction Time : 0
Correct Marks : 1 Wrong Marks : 0

Find out the correct meaning of idiomatic expression :
To shake the Pagoda Tree.

Options :

4699756989. ✘ To do a deep roughly

4699756990. ✔ To gain a fortune in an easy way

4699756991. ✘ To own responsibility

4699756992. ✘ To refuse to act accordingly

Question Number : 99 Question Id : 4699751761 Question Type : MCQ Option Shuffling : Yes Display Question Number : Yes
Is Question Mandatory : No Calculator : None Response Time : N.A Think Time : N.A Minimum Instruction Time : 0
Correct Marks : 1 Wrong Marks : 0

Choose the correct substitute for the following sentence
Repetition of the first sound or letter of a succession of words.

Options :

4699756993. ✘ Pun

4699756994. ✔ Alliteration

4699756995. ✘ Transferred epithet

4699756996. ✘ Oxymoron

Question Number : 100 Question Id : 4699751762 Question Type : MCQ Option Shuffling : Yes Display Question Number :
Yes Is Question Mandatory : No Calculator : None Response Time : N.A Think Time : N.A Minimum Instruction Time : 0
Correct Marks : 1 Wrong Marks : 0

Choose the correct sentence

Options :

4699756997. ✘ How long have you been joined this company?

4699756998. ✓ Where have you joined this company?

4699756999. ✘ How long are you joined this company?

4699757000. ✘ When you do join this company?

General Knowledge and Educational Issues

Section Id :	46997559
Section Number :	4
Section type :	Online
Mandatory or Optional :	Mandatory
Number of Questions :	30
Number of Questions to be attempted :	30
Section Marks :	30
Enable Mark as Answered Mark for Review and Clear Response :	Yes
Maximum Instruction Time :	0
Sub-Section Number :	1
Sub-Section Id :	46997571
Question Shuffling Allowed :	Yes
Is Section Default? :	null

Question Number : 101 Question Id : 4699751763 Question Type : MCQ Option Shuffling : Yes Display Question Number : Yes Is Question Mandatory : No Calculator : None Response Time : N.A Think Time : N.A Minimum Instruction Time : 0 Correct Marks : 1 Wrong Marks : 0

Who among the following coined the term robotics technology?

రోబోటిక్స్ టెక్నాలజీ అనే పదాన్ని ప్రతిపాదించినవారు ఎవరు?

Options :

William Campbell

4699757001. ✘ విలియం కాంప్బెల్

Isaac Asimov

4699757002. ✓ ఐజాక్ అసిమోవ్

Michael Linardo

4699757003. ✘ మైఖేల్ లినార్డో

George Divot

4699757004. ✘ జార్జ్ డివోట్

Question Number : 102 Question Id : 4699751764 Question Type : MCQ Option Shuffling : Yes Display Question Number : Yes Is Question Mandatory : No Calculator : None Response Time : N.A Think Time : N.A Minimum Instruction Time : 0 Correct Marks : 1 Wrong Marks : 0

International Youth Day is Celebrated on

అంతర్జాతీయ యువజన దినోత్సవం జరుపుకునే రోజు ?

Options :

12th January

4699757005. ✘ జనవరి 12 న

12th March

4699757006. ✘ మార్చి 12 న

12th May

4699757007. ✘ మే 12 న

12th August

4699757008. ✔ ఆగస్టు 12 న

Question Number : 103 Question Id : 4699751765 Question Type : MCQ Option Shuffling : Yes Display Question Number : Yes Is Question Mandatory : No Calculator : None Response Time : N.A Think Time : N.A Minimum Instruction Time : 0 Correct Marks : 1 Wrong Marks : 0

SAMRIDH Scheme is an initiation of the Government of India through

భారత ప్రభుత్వం 'సమృద్ధి పథకాన్ని' ఈ మంత్రిత్వ శాఖ ద్వారా ప్రారంభించింది

Options :

Ministry of Education

4699757009. ✘ విద్యా మంత్రిత్వ శాఖ

Ministry of Electronics and Information Technology

4699757010. ✔ ఎలక్ట్రానిక్స్ మరియు ఇన్ఫర్మేషన్ టెక్నాలజీ మంత్రిత్వ శాఖ

Ministry of Social Justice and Empowerment

4699757011. ✘ సామాజిక న్యాయం మరియు సాధికారత మంత్రిత్వ శాఖ

Ministry of Skill Development and Entrepreneurship

4699757012. ✘ నైపుణ్యాభివృద్ధి మరియు వ్యవస్థాపక మంత్రిత్వ శాఖ

Question Number : 104 Question Id : 4699751766 Question Type : MCQ Option Shuffling : Yes Display Question Number : Yes Is Question Mandatory : No Calculator : None Response Time : N.A Think Time : N.A Minimum Instruction Time : 0 Correct Marks : 1 Wrong Marks : 0

“From dependence to Self Reliance: Mapping India’s Rise as a Global Superpower” is the book written by “From dependence to Self Reliance: Mapping India’s Rise as a Global Superpower” పుస్తక రచయిత.

Options :

C. Rangarajan

సి. రంగరాజన్

4699757013. ✘

Bimal Jalan

బిమల్ జలాన్

4699757014. ✔

Raghuram Rajan

రఘురాం రాజన్

4699757015. ✘

Urjit Patel

ఉర్జిత్ పటేల్

4699757016. ✘

Question Number : 105 Question Id : 4699751767 Question Type : MCQ Option Shuffling : Yes Display Question Number : Yes Is Question Mandatory : No Calculator : None Response Time : N.A Think Time : N.A Minimum Instruction Time : 0 Correct Marks : 1 Wrong Marks : 0

India is not a member of the following.

క్రింది వాటిలో భారత దేశానికి సభ్యత్వం లేదు.

Options :

Association of Southeast Asian Nations (ASEAN)

అసోసియేషన్ ఆఫ్ సౌత్ ఈస్ట్ ఆసియాన్ నేషన్స్ (ASEAN)

4699757017. ✔

4699757018. ✘

Bay of Bengal Initiative for Multi Sectoral Technical and Economic Cooperation (BIMSTEC)

బే ఆఫ్ బెంగాల్ ఇనిషియేటివ్ ఫర్ మల్టీ సెక్టరల్ టెక్నికల్ అండ్ ఎకనామిక్ కో-పరేషన్ (BIMSTEC)

Brazil, Russia, India, China and South Africa (BRICS)

బ్రజెల్, రష్యా, ఇండియా, చైనా మరియు సౌత్ ఆఫ్రికా (BRICS)

4699757019. ✘

G4

జీ4

4699757020. ✖

Question Number : 106 Question Id : 4699751768 Question Type : MCQ Option Shuffling : Yes Display Question Number : Yes Is Question Mandatory : No Calculator : None Response Time : N.A Think Time : N.A Minimum Instruction Time : 0 Correct Marks : 1 Wrong Marks : 0

Operation Goodwill is related to which of the following?

అపరేషన్ గుడ్విల్ క్రింది వాటిలో దేనికి సంబంధించినది?

Options :

Humanitarian Tasks in Assam

4699757021. ✖

అస్సాంలో మానవతా కార్యక్రమాలు

Humanitarian Tasks in Manipur

4699757022. ✖

మణిపూర్లో మానవతా కార్యక్రమాలు

Humanitarian Tasks in Jammu and Kashmir

4699757023. ✔

జమ్మూ మరియు కాశ్మీర్లో మానవతా కార్యక్రమాలు

Humanitarian Tasks in Nagaland

4699757024. ✖

నాగాలాండ్లో మానవతా కార్యక్రమాలు

Question Number : 107 Question Id : 4699751769 Question Type : MCQ Option Shuffling : Yes Display Question Number : Yes Is Question Mandatory : No Calculator : None Response Time : N.A Think Time : N.A Minimum Instruction Time : 0 Correct Marks : 1 Wrong Marks : 0

What is the technology behind ChatGPT?

ChatGPT వెనుక ఉన్న సాంకేతికత ఏమిటి?

Options :

Virtual reality

4699757025. ✖

వర్చువల్ రియాలిటీ

Augmented reality

4699757026. ✖

ఆగ్మెంటెడ్ రియాలిటీ

Blockchain technology

4699757027. ✖

బ్లాక్చెయిన్ టెక్నాలజీ

Artificial intelligence

4699757028. ✓ కృత్రిమ మేధస్సు

Question Number : 108 Question Id : 4699751770 Question Type : MCQ Option Shuffling : Yes Display Question Number : Yes Is Question Mandatory : No Calculator : None Response Time : N.A Think Time : N.A Minimum Instruction Time : 0 Correct Marks : 1 Wrong Marks : 0

What is the name of the westernmost point of India?

భారతదేశానికి పశ్చిమాన ఉన్న చివరి ప్రాంతం ఏది?

Options :

Narayan Sarovar

4699757029. ✘ నారాయణ్ సరోవర్

Dwarka

4699757030. ✘ ద్వారక

Guhar Moti

4699757031. ✓ గుహర్ మోతీ

Kandla

4699757032. ✘ కాండ్ల

Question Number : 109 Question Id : 4699751771 Question Type : MCQ Option Shuffling : Yes Display Question Number : Yes Is Question Mandatory : No Calculator : None Response Time : N.A Think Time : N.A Minimum Instruction Time : 0 Correct Marks : 1 Wrong Marks : 0

Who won the Nobel prize for literature in 2022?

2022 సంవత్సరానికి గాను సాహిత్యంలో నోబెల్ బహుమతిని ఎవరు గెలుచుకున్నారు?

Options :

Annie Ernaux

4699757033. ✓ అన్నే ఎర్నాక్స్

Alain Aspect

4699757034. ✘ అలైన్ యాస్పెక్ట్

Anton Zeilinger

4699757035. ✘ అంటోన్ జైలింగర్

John F. Clauser

4699757036. ✖ జాన్ ఎఫ్. క్లౌసర్

Question Number : 110 Question Id : 4699751772 Question Type : MCQ Option Shuffling : Yes Display Question Number : Yes
Is Question Mandatory : No Calculator : None Response Time : N.A Think Time : N.A Minimum Instruction Time : 0
Correct Marks : 1 Wrong Marks : 0

Recently, which of the following countries has planned smart city “NEOM”?

ఇటీవలి కాలంలో, క్రింది వాటిలో ఏ దేశం స్మార్ట్ సిటీ “NEOM” ని ప్లాన్ చేసింది?

Options :

UAE

4699757037. ✖ యుఎఇ

QATAR

4699757038. ✖ ఖతార్

Saudi Arabia

4699757039. ✔ సౌదీ అరేబియా

Oman

4699757040. ✖ ఒమన్

Question Number : 111 Question Id : 4699751773 Question Type : MCQ Option Shuffling : Yes Display Question Number : Yes
Is Question Mandatory : No Calculator : None Response Time : N.A Think Time : N.A Minimum Instruction Time : 0
Correct Marks : 1 Wrong Marks : 0

In which district of Telangana is Rachakonda Fort located?

రాచకొండ కోట తెలంగాణలోని ఏ జిల్లాలో ఉంది?

Options :

Rangareddy

4699757041. ✖ రంగారెడ్డి

Yadadri Bhuvanagiri

4699757042. ✔ యాదాద్రి భువనగిరి

Medchal Malkajgiri

4699757043. ✖ మేడ్చల్ మల్కాజ్గిరి

Hyderabad

హైదరాబాద్

4699757044. ✘

Question Number : 112 Question Id : 4699751774 Question Type : MCQ Option Shuffling : Yes Display Question Number : Yes
Is Question Mandatory : No Calculator : None Response Time : N.A Think Time : N.A Minimum Instruction Time : 0
Correct Marks : 1 Wrong Marks : 0

Till 2023, for how many years Padma Awards were NOT given since 1954?

1954 నుండి 2023 వరకు ఎన్ని సంవత్సరాలు పద్మ అవార్డులను ఇవ్వలేదు?

Options :

4699757045. ✘ 5

4699757046. ✘ 6

4699757047. ✔ 7

4699757048. ✘ 8

Question Number : 113 Question Id : 4699751775 Question Type : MCQ Option Shuffling : Yes Display Question Number : Yes
Is Question Mandatory : No Calculator : None Response Time : N.A Think Time : N.A Minimum Instruction Time : 0
Correct Marks : 1 Wrong Marks : 0

Which Indian state has the most number of products with GI tags in

Financial Year 2022-23?

భారత దేశంలో, భౌగోళిక సూచికలతో ఆర్థిక సంవత్సరం 2022-23 లో అత్యధిక సంఖ్యలో ఉత్పత్తులను కలిగి ఉన్న రాష్ట్రం ఏది?

Options :

4699757049. ✔ Kerala
కేరళ

4699757050. ✘ Tamilnadu
తమిళనాడు

4699757051. ✘ Uttar Pradesh
ఉత్తర్ ప్రదేశ్

4699757052. ✘ Telangana
తెలంగాణ

Question Number : 114 Question Id : 4699751776 Question Type : MCQ Option Shuffling : Yes Display Question Number : Yes
Is Question Mandatory : No Calculator : None Response Time : N.A Think Time : N.A Minimum Instruction Time : 0
Correct Marks : 1 Wrong Marks : 0

Recently, which state started “Ladli Behna Scheme”?

ఇటీవల, ఏ రాష్ట్రం ‘లాడ్లీ బెహనా (Ladli Behna) పథకాన్ని’ ప్రారంభించింది?

Options :

Rajasthan

4699757053. ✘ రాజస్థాన్

Gujarat

4699757054. ✘ గుజరాత్

Punjab

4699757055. ✘ పంజాబ్

Madhya Pradesh

4699757056. ✔ మధ్యప్రదేశ్

Question Number : 115 Question Id : 4699751777 Question Type : MCQ Option Shuffling : Yes Display Question Number : Yes
Is Question Mandatory : No Calculator : None Response Time : N.A Think Time : N.A Minimum Instruction Time : 0
Correct Marks : 1 Wrong Marks : 0

Identify the wrong statement with reference to Telangana’s Space

Technology Framework Policy-2022?

తెలంగాణ అంతరిక్ష సాంకేతిక కార్యాచరణ విధానం 2022 దృష్ట్యా క్రింది వానిలో సరికాని వాక్యాన్ని గుర్తించండి

Options :

Financial Assistance to Space Tech

4699757057. ✔ అంతరిక్ష సాంకేతికతకి ఆర్థిక సహాయం

Enabling Access to Infrastructure

4699757058. ✘ మౌళిక సదుపాయాలు పొందడానికి వీలు కల్పించడం

Skill Development and Training

4699757059. ✘ నైపుణ్యాభివృద్ధి మరియు శిక్షణ

Promoting Research and Innovation

పరిశోధన మరియు అవిష్కరణలను ప్రోత్సహించడం

4699757060. ✖

Question Number : 116 Question Id : 4699751778 Question Type : MCQ Option Shuffling : Yes Display Question Number : Yes
Is Question Mandatory : No Calculator : None Response Time : N.A Think Time : N.A Minimum Instruction Time : 0

Correct Marks : 1 Wrong Marks : 0

Where is Pandit Sundar Lal Sharma Central Institute of Vocational Education (A constituent unit of NCERT) located?

పండిట్ సుందర్ లాల్ శర్మ సెంట్రల్ ఇనిస్టిట్యూట్ ఆఫ్ వోకేషనల్ ఎడ్యుకేషన్

(NCERTయొక్క యూనిట్) ఎక్కడ ఉంది?

Options :

Ajmer

అజ్మీర్

4699757061. ✖

Bhopal

భోపాల్

4699757062. ✓

Bhubaneswar

భువనేశ్వర్

4699757063. ✖

Shillong

షిల్లాంగ్

4699757064. ✖

Question Number : 117 Question Id : 4699751779 Question Type : MCQ Option Shuffling : Yes Display Question Number : Yes
Is Question Mandatory : No Calculator : None Response Time : N.A Think Time : N.A Minimum Instruction Time : 0

Correct Marks : 1 Wrong Marks : 0

Which state government has announced 60 days of maternity leave for girl students above the age of 18 years for the first time in the country?

దేశంలోనే తొలిసారిగా 18 ఏళ్లు పైబడిన బాలికలకు 60 రోజుల ప్రసూతి సెలవులను ప్రకటించిన

రాష్ట్ర ప్రభుత్వం ఏది?

Options :

Mizoram

మిజోరం

4699757065. ✖

Tripura

త్రిపుర

4699757066. ✖

Goa

గోవా

4699757067. ✘

Kerala

కేరళ

4699757068. ✔

Question Number : 118 Question Id : 4699751780 Question Type : MCQ Option Shuffling : Yes Display Question Number : Yes
Is Question Mandatory : No Calculator : None Response Time : N.A Think Time : N.A Minimum Instruction Time : 0
Correct Marks : 1 Wrong Marks : 0

Pranjal Srivastava, who created the record of becoming the first Indian to win three Gold Medals in the Mathematics Olympiad held in Oslo, Norway, hailed from which city?

నార్వే లోని ఓస్లో లో జరిగిన గణిత ఒలింపియాడ్ లో మూడు బంగారు పథకాలు సాధించిన తొలి భారతీయుడిగా రికార్డ్ సృష్టించిన ప్రాంజల్ శ్రీవాస్తవ ఏ నగరానికి చెందినవాడు?

Options :

Hyderabad

హైదరాబాద్

4699757069. ✘

Bangalore

బెంగుళూర్

4699757070. ✔

Mumbai

ముంబాయి

4699757071. ✘

New Delhi

న్యూ ఢిల్లీ

4699757072. ✘

Question Number : 119 Question Id : 4699751781 Question Type : MCQ Option Shuffling : Yes Display Question Number : Yes
Is Question Mandatory : No Calculator : None Response Time : N.A Think Time : N.A Minimum Instruction Time : 0
Correct Marks : 1 Wrong Marks : 0

Which state government has launched the Vision for All School Eye Health programme in partnership with One Sight Essilor Luxottica Foundation and Prasad Netralaya?

వన్ సైట్ ఎస్పిలర్ లక్సోటికా ఫౌండేషన్ మరియు ప్రసాద్ నేత్రాలయ భాగస్వామ్యంతో 'విజన్ ఫర్ ఆల్ స్కూల్ ఐ హెల్త్ 'కార్యక్రమాన్ని ఏ రాష్ట్ర ప్రభుత్వం ప్రారంభించింది?

Options :

Andhra Pradesh

ఆంధ్రప్రదేశ్

4699757073. ✘

Telangana

తెలంగాణ

4699757074. ✖

Goa

గోవా

4699757075. ✔

Madhya Pradesh

మధ్య ప్రదేశ్

4699757076. ✖

Question Number : 120 Question Id : 4699751782 Question Type : MCQ Option Shuffling : Yes Display Question Number : Yes Is Question Mandatory : No Calculator : None Response Time : N.A Think Time : N.A Minimum Instruction Time : 0 Correct Marks : 1 Wrong Marks : 0

Which IIT has developed a fully indigenous microprocessor?

పూర్తి స్వదేశీ పరిష్కానంతో పనిచేసే మైక్రోప్రాసెసర్ ని రూపొందించిన ఐఐటి ఏది?

Options :

IIT-Hyderabad

ఐఐటి - హైదరాబాద్

4699757077. ✖

IIT-Madras

ఐఐటి - మద్రాసు

4699757078. ✔

IIT-Mumbai

ఐఐటి - ముంబాయి

4699757079. ✖

IIT-Kanpur

ఐఐటి - కాన్పూర్

4699757080. ✖

Question Number : 121 Question Id : 4699751783 Question Type : MCQ Option Shuffling : Yes Display Question Number : Yes Is Question Mandatory : No Calculator : None Response Time : N.A Think Time : N.A Minimum Instruction Time : 0 Correct Marks : 1 Wrong Marks : 0

Who have been awarded Padma Bhushan in the category of literature and education for the year 2023?

2023 సంవత్సరానికి సాహిత్యం మరియు విద్య విభాగంలో పద్మభూషణ్ అవార్డు పొందినవారు ఎవరు?

Options :

Sudha Murthy, Kapil Kapoor

సుధా మూర్తి, కపిల్ కపూర్

4699757081. ✖

4699757082. ✖ Kapil Kapoor, Deepak Dhar
కపిల్ కపూర్, దీపక్ ధార్

4699757083. ✖ Deepak Dhar, S.L. Bairappa
దీపక్ ధార్, ఎస్.ఎల్. బైరప్ప

4699757084. ✔ S.L. Bhairappa, Kapil Kapoor
ఎస్.ఎల్. బైరప్ప, కపిల్ కపూర్

Question Number : 122 Question Id : 4699751784 Question Type : MCQ Option Shuffling : Yes Display Question Number :
Yes Is Question Mandatory : No Calculator : None Response Time : N.A Think Time : N.A Minimum Instruction Time : 0
Correct Marks : 1 Wrong Marks : 0

What is India's rank in Sustainable Development Goals Index-2022?

సుస్థిరాభివృద్ధి లక్ష్యాల సూచిక -2022 ప్రకారం భారతదేశ స్థానం ఏది?

Options :

4699757085. ✖ 119

4699757086. ✖ 120

4699757087. ✔ 121

4699757088. ✖ 122

Question Number : 123 Question Id : 4699751785 Question Type : MCQ Option Shuffling : Yes Display Question Number :
Yes Is Question Mandatory : No Calculator : None Response Time : N.A Think Time : N.A Minimum Instruction Time : 0
Correct Marks : 1 Wrong Marks : 0

As per NIRF-2022 Rankings, Correct sequence of first 3 Institutes in the
University category

NIRF-2022 ర్యాంకింగ్ల ప్రకారం, యూనివర్సిటీ కేటగిరీలోని మొదటి 3 స్థానాల సరైన క్రమం

Options :

4699757089. ✔ IISc-Bengaluru, JNU-New Delhi, JMI- New Delhi
IISc-బెంగళూరు, JNU-న్యూఢిల్లీ, JMI-న్యూఢిల్లీ

4699757090. ✖ IISc-Bengaluru, JMI- New Delhi, JNU-New Delhi
IISc- బెంగళూరు, JMI -న్యూఢిల్లీ, JNU-న్యూఢిల్లీ

IIT-Madras, IISc-Bengaluru, JNU-New Delhi

IIT-మద్రాసు, IISc-బెంగళూరు, JNU-న్యూఢిల్లీ

4699757091. ✖

IIT-Madras, JNU-New Delhi, IISc-Bengaluru

IIT-మద్రాసు, JNU-న్యూఢిల్లీ, IISc-బెంగళూరు,

4699757092. ✖

Question Number : 124 Question Id : 4699751786 Question Type : MCQ Option Shuffling : Yes Display Question Number : Yes Is Question Mandatory : No Calculator : None Response Time : N.A Think Time : N.A Minimum Instruction Time : 0 Correct Marks : 1 Wrong Marks : 0

According to the National Education Policy 2020, what percentage of Gross Domestic Product (GDP) should be spent on education?

జాతీయ విద్యా విధానం 2020 ప్రకారం, స్థూల దేశీయోత్పత్తి (GDP) లో ఎంత శాతం విద్యపై ఖర్చు చేయాలి?

Options :

2%

4699757093. ✖

4%

4699757094. ✖

6%

4699757095. ✔

8%

4699757096. ✖

Question Number : 125 Question Id : 4699751787 Question Type : MCQ Option Shuffling : Yes Display Question Number : Yes Is Question Mandatory : No Calculator : None Response Time : N.A Think Time : N.A Minimum Instruction Time : 0 Correct Marks : 1 Wrong Marks : 0

Which one of the following countries is willing to teach Punjabi in Government schools?

కింది వాటిలో ఏ దేశం తన ప్రభుత్వ పాఠశాలల్లో పంజాబీని బోధించడానికి సిద్ధంగా ఉంది?

Options :

Afghanistan

అఫ్ఘనిస్తాన్

4699757097. ✖

Bangladesh

బంగ్లాదేశ్

4699757098. ✖

United Kingdom

యునైటెడ్ కింగ్డమ్

4699757099. ✖

Australia

ఆస్ట్రేలియా

4699757100. ✓

Question Number : 126 Question Id : 4699751788 Question Type : MCQ Option Shuffling : Yes Display Question Number : Yes Is Question Mandatory : No Calculator : None Response Time : N.A Think Time : N.A Minimum Instruction Time : 0 Correct Marks : 1 Wrong Marks : 0

What does SATH-E stands for?

SATH-E పూర్తి రూపం

Options :

Skill and Aptitude Training for Higher Education

4699757101. ✘ స్కిల్ అండ్ అప్టిట్యూడ్ ట్రేనింగ్ ఫర్ హైయర్ ఎడ్యుకేషన్

Students Academic Training and Holistic Education

4699757102. ✘ స్టూడెంట్స్ అకాడమిక్ ట్రేనింగ్ అండ్ హోలిస్టిక్ ఎడ్యుకేషన్

Sustainable Action for Transforming Human Capital-Education

4699757103. ✓ సస్టేనబుల్ యాక్షన్ ఫర్ ట్రాన్స్ఫార్మింగ్ హుమన్ కాపిటల్-ఎడ్యుకేషన్

State-level Assessment and Training for Higher Education

4699757104. ✘ స్టేట్-లెవల్ అసెస్మెంట్ అండ్ ట్రేనింగ్ ఫర్ హైయర్ ఎడ్యుకేషన్

Question Number : 127 Question Id : 4699751789 Question Type : MCQ Option Shuffling : Yes Display Question Number : Yes Is Question Mandatory : No Calculator : None Response Time : N.A Think Time : N.A Minimum Instruction Time : 0 Correct Marks : 1 Wrong Marks : 0

Which act recognizes the right of children to free and compulsory education?

ఉచిత మరియు నిర్బంధ విద్య కోసం పిల్లల హక్కును ఏ చట్టం తెలుపుతుంది?

Options :

The Juvenile Justice (Care and Protection of Children) Act, 2015

4699757105. ✘ జువెనైల్ జస్టిస్ (పిల్లల సంరక్షణ మరియు రక్షణ) చట్టం, 2015

The Right to Education Act, 2009

4699757106. ✓ విద్యా హక్కు చట్టం, 2009

The Child Labour (Prohibition and Regulation) Act, 1986

4699757107. ✘ బాల కార్మిక (నిషేధం మరియు నియంత్రణ) చట్టం, 1986

The Protection of Children from Sexual Offences (POCSO) Act, 2012

4699757108. ✘ లైంగిక నేరాల నుండి పిల్లల రక్షణ (POCSO) చట్టం, 2012

Question Number : 128 Question Id : 4699751790 Question Type : MCQ Option Shuffling : Yes Display Question Number : Yes Is Question Mandatory : No Calculator : None Response Time : N.A Think Time : N.A Minimum Instruction Time : 0 Correct Marks : 1 Wrong Marks : 0

What is the Rank of India in Global Innovation Index 2022?

గ్లోబల్ ఇన్నోవేషన్ ఇండెక్స్ 2022 లో భారతదేశం ర్యాంక్ ఎంత?

Options :

40th
40 వ
4699757109. ✓

42nd
42 వ
4699757110. ✗

44th
44 వ
4699757111. ✗

46th
46 వ
4699757112. ✗

Question Number : 129 Question Id : 4699751791 Question Type : MCQ Option Shuffling : Yes Display Question Number : Yes Is Question Mandatory : No Calculator : None Response Time : N.A Think Time : N.A Minimum Instruction Time : 0 Correct Marks : 1 Wrong Marks : 0

Stanford Binet scale measures this attribute of an individual.

స్టాన్ ఫోర్డ్ బినెట్ స్కేల్ ఒక వ్యక్తి యొక్క ఈ లక్షణాన్ని కొలుస్తుంది.

Options :

Creativity
సృజనాత్మకత
4699757113. ✗

Aptitude
సహజతం
4699757114. ✗

Personality
వ్యక్తిత్వం
4699757115. ✗

Intelligence
ప్రజ్ఞ
4699757116. ✓

Question Number : 130 Question Id : 4699751792 Question Type : MCQ Option Shuffling : Yes Display Question Number : Yes Is Question Mandatory : No Calculator : None Response Time : N.A Think Time : N.A Minimum Instruction Time : 0

Correct Marks : 1 Wrong Marks : 0

What is the name of the Present Union Minister of Education?

భారతదేశంలో ప్రస్తుత విద్యాశాఖ మంత్రి పేరు ఏమిటి?

Options :

Ramesh Pokhriyal Nishank

రమేష్ పోఖ్రియాల్ నిశాంక్

4699757117. ✘

Smriti Irani

స్మృతి ఇరానీ

4699757118. ✘

Dharmendra Pradhan

ధర్మేంద్ర ప్రధాన్

4699757119. ✔

Prakash Javadekar

ప్రకాష్ జవదేకర్

4699757120. ✘

Computer Awareness

Section Id :	46997560
Section Number :	5
Section type :	Online
Mandatory or Optional :	Mandatory
Number of Questions :	20
Number of Questions to be attempted :	20
Section Marks :	20
Enable Mark as Answered Mark for Review and Clear Response :	Yes
Maximum Instruction Time :	0
Sub-Section Number :	1
Sub-Section Id :	46997572
Question Shuffling Allowed :	Yes
Is Section Default? :	null

Question Number : 131 Question Id : 4699751793 Question Type : MCQ Option Shuffling : Yes Display Question Number :

Yes Is Question Mandatory : No Calculator : None Response Time : N.A Think Time : N.A Minimum Instruction Time : 0

Correct Marks : 1 Wrong Marks : 0

Which one of the following is not a search engine?

ఈ క్రింది వాటిలో సెర్చ్ ఇంజన్ కానిది ఏది?

Options :

Bing

బింగ్

4699757121. ✘

4699757122. ✓
Firefox
ఫైర్‌ఫాక్స్

4699757123. ✗
Google
గూగుల్

4699757124. ✗
Yahoo
యాహూ

Question Number : 132 Question Id : 4699751794 Question Type : MCQ Option Shuffling : Yes Display Question Number :
Yes Is Question Mandatory : No Calculator : None Response Time : N.A Think Time : N.A Minimum Instruction Time : 0
Correct Marks : 1 Wrong Marks : 0

Which of the following is not the network edge device?
క్రింది వాటిలో నెట్‌వర్క్ అంచు పరికరం కానిది ఏది?

Options :

4699757125. ✗
Mobile
మొబైల్

4699757126. ✓
Router
రౌటర్

4699757127. ✗
PC
పర్సనల్ కంప్యూటర్

4699757128. ✗
Laptop
ల్యాప్‌టాప్

Question Number : 133 Question Id : 4699751795 Question Type : MCQ Option Shuffling : Yes Display Question Number :
Yes Is Question Mandatory : No Calculator : None Response Time : N.A Think Time : N.A Minimum Instruction Time : 0
Correct Marks : 1 Wrong Marks : 0

A network device that provides connectivity to another network is called
ఒక నెట్‌వర్క్ మరొక నెట్‌వర్క్‌కి అనుసంధానం చేసే పరికరాన్ని ఏమంటారు

Options :

4699757129. ✓
Gateway
గేట్వే

4699757130. ✗
Server
సర్వర్

Active Switch

ఆక్టివ్ స్విచ్

4699757131. ✖

DNS Server

డిఎన్ఎస్ సర్వర్

4699757132. ✖

Question Number : 134 Question Id : 4699751796 Question Type : MCQ Option Shuffling : Yes Display Question Number : Yes Is Question Mandatory : No Calculator : None Response Time : N.A Think Time : N.A Minimum Instruction Time : 0 Correct Marks : 1 Wrong Marks : 0

Unauthorized access should be prevented into the system that you are using. Identify the correct answer among the list given below.

మీరు ఉపయోగిస్తున్న కంప్యూటర్ లోకి అనధికార ప్రవేశాన్ని నిరోధించాలి. క్రింది వాటిలో సరైన సమాధానాన్ని గుర్తించండి.

Options :

Router

4699757133. ✖ రౌటర్

Gateway

4699757134. ✖ గేట్వే

Firewall

4699757135. ✔ ఫైర్వాల

Virus checker

4699757136. ✖ వైరస్ చెకర్

Question Number : 135 Question Id : 4699751797 Question Type : MCQ Option Shuffling : Yes Display Question Number : Yes Is Question Mandatory : No Calculator : None Response Time : N.A Think Time : N.A Minimum Instruction Time : 0 Correct Marks : 1 Wrong Marks : 0

Many protocols are in use. Identify, which one of the following is the most common Internet Protocol.

ఎన్నో ప్రోటోకాల్స్ ఉపయోగం లో ఉన్నవి. అయితే క్రింది వాటిలో అతి సాధారణ అంతర్జాల ప్రోటోకాల్ను గుర్తించండి.

Options :

NetBEUI

4699757137. ✖

SMB

4699757138. ✖

TCP/IP

4699757139. ✘

IPX/SPX

4699757140. ✔

Question Number : 136 Question Id : 4699751798 Question Type : MCQ Option Shuffling : Yes Display Question Number : Yes Is Question Mandatory : No Calculator : None Response Time : N.A Think Time : N.A Minimum Instruction Time : 0 Correct Marks : 1 Wrong Marks : 0

There are two versions of IP. Indicate, which versions of IP are actively used?

అతర్జాల ప్రోటోకాల్స్లో రెండు సంచికలు (versions) ఉన్నాయి. ఏ అతర్జాల సంచికలను తరచుగా ఉపయోగిస్తారు?

Options :

IPv4 and IPv6

4699757141. ✔

IPv4 మరియు IPv6

IPv2 and IPv4

4699757142. ✘

IPv2 మరియు IPv4

IPv1 and IPv2

4699757143. ✘

IPv1 మరియు IPv2

IPv2 and IPv6

4699757144. ✘

IPv2 మరియు IPv6

Question Number : 137 Question Id : 4699751799 Question Type : MCQ Option Shuffling : Yes Display Question Number : Yes Is Question Mandatory : No Calculator : None Response Time : N.A Think Time : N.A Minimum Instruction Time : 0 Correct Marks : 1 Wrong Marks : 0

Which one of the following groups contain graphical file extensions?

క్రింది వాటిలో గ్రాఫికల్ ఫైల్ ఎక్స్టెన్షన్ కలిగిన సమూహము ఏది?

Options :

JPG, CPX, GCM

4699757145. ✘

GIF, TCE, WMF

4699757146. ✘

TCP, JPG, BMP

4699757147. ✘

JPG, BMP, PNG

4699757148. ✔

Question Number : 138 Question Id : 4699751800 Question Type : MCQ Option Shuffling : Yes Display Question Number : Yes Is Question Mandatory : No Calculator : None Response Time : N.A Think Time : N.A Minimum Instruction Time : 0 Correct Marks : 1 Wrong Marks : 0

Kilo Byte means 1024 bytes. Similarly, one Gigabyte means
కిలోబైట్ అంటే 1024 బైట్లు అని అర్థం. అదే విధంగా ఒక గిగాబైట్ అంటే ఎంత?

Options :

1024 Kilo Bytes
1024 కిలో బైట్లు
4699757149. ✘

512 Megabytes
512 మెగాబైట్లు
4699757150. ✘

1024 Megabytes
1024 మెగాబైట్లు
4699757151. ✔

1024 Tera Bytes
1024 టెరా బైట్లు
4699757152. ✘

Question Number : 139 Question Id : 4699751801 Question Type : MCQ Option Shuffling : Yes Display Question Number : Yes Is Question Mandatory : No Calculator : None Response Time : N.A Think Time : N.A Minimum Instruction Time : 0 Correct Marks : 1 Wrong Marks : 0

When we browse through the Internet, the information is retrieved with the help of HTML documents. Identify the file extension of HTML documents.

అంతర్జాలం లో సమాచారాన్ని వెతుకుచున్నప్పుడు HTML పత్రాల సహాయంతో సమాచారం పొందపడుతుంది. HTML పత్రాల పొడిగింపును (extension) గుర్తించండి.

Options :

.html (or) .htm
4699757153. ✔

.hxm
4699757154. ✘

.hm (or) .hmm
4699757155. ✘

.hml
4699757156. ✘

Question Number : 140 Question Id : 4699751802 Question Type : MCQ Option Shuffling : Yes Display Question Number : Yes Is Question Mandatory : No Calculator : None Response Time : N.A Think Time : N.A Minimum Instruction Time : 0 Correct Marks : 1 Wrong Marks : 0

There are many handheld devices that we use in daily life. Some of the devices that are most widely used are not portable. In the given list identify the device which is not a handheld device:

నిత్య జీవితంలో మనం ఎన్నో హ్యాండ్‌హెల్డ్ పరికరాలను ఉపయోగిస్తాము. కొన్ని పోర్టబుల్ పరికరాలను విరివిగా ఉపయోగిస్తాము. క్రింది వాటిలో హ్యాండ్‌హెల్డ్ పరికరం కానిది గుర్తించండి:

Options :

4699757157. ✘ DVD
డివిడి

4699757158. ✘ Mobile phone
మొబైల్ ఫోన్

4699757159. ✘ Pen drive
పెన్ డ్రైవ్

4699757160. ✔ All in One (Xerox, Printer, Copier, Scanner)
ఒక్క దానిలో అన్ని (జిరాక్స్, ప్రింటర్, కాపియర్, స్కానర్)

Question Number : 141 Question Id : 4699751803 Question Type : MCQ Option Shuffling : Yes Display Question Number : Yes Is Question Mandatory : No Calculator : None Response Time : N.A Think Time : N.A Minimum Instruction Time : 0 Correct Marks : 1 Wrong Marks : 0

Cache memory is used to increase the speed of operation of a computer? Here is an answer that points out where the cache memory works between.

కంప్యూటర్ యొక్క వేగాన్ని పెంచుటకు క్యాష్ మెమరీని ఉపయోగిస్తారు. క్యాష్ మెమరీ వీటి మధ్య ఉంటుందని క్రింది వాటిలోని ఏ జవాబు సూచిస్తుంది.

Options :

4699757161. ✘ ROM and RAM
ROM మరియు RAM

4699757162. ✘ RAM and Hard Disk
RAM మరియు Hard Disk

4699757163. ✔ CPU and RAM
CPU మరియు RAM

4699757164. ✘ Hard Disk and Graphics Controller
Hard Disk మరియు Graphics Controller

Question Number : 142 Question Id : 4699751804 Question Type : MCQ Option Shuffling : Yes Display Question Number : Yes Is Question Mandatory : No Calculator : None Response Time : N.A Think Time : N.A Minimum Instruction Time : 0 Correct Marks : 1 Wrong Marks : 0

We use web pages to browse the information from various web sites. One of the site name is www.noname.xyz This site is a secure site. Here is the actual link to the site. Identify the correct link.

వివిధ వెబ్‌సైట్లలోని సమాచారాన్ని పొందడానికి వెబ్ పేజీలను ఉపయోగిస్తాము. అలాంటి ఒక సైట్ పేరు www.noname.xyz ఇది ఒక భద్రమైన సైట్. ఇక్కడ ఆసైట్‌కు అసలైన లింక్ ఉంది. సరైన లింక్ ను గుర్తించండి

Options :

4699757165. ✘ <http://www.noname.xyz>

4699757166. ✘ <http://noname.xyz>

4699757167. ✘ noname.xyz

4699757168. ✔ <https://www.noname.xyz>

Question Number : 143 Question Id : 4699751805 Question Type : MCQ Option Shuffling : Yes Display Question Number : Yes Is Question Mandatory : No Calculator : None Response Time : N.A Think Time : N.A Minimum Instruction Time : 0 Correct Marks : 1 Wrong Marks : 0

Which markup language is used to create web pages?

వెబ్ పేజీలను సృష్టించుటకు ఏ మార్కప్ భాషను ఉపయోగిస్తారు?

Options :

4699757169. ✔ Hyper Text Markup Language
హైపర్ టెక్స్ట్ మార్కప్ భాష

4699757170. ✘ Light Weight Markup Language
లైట్ వేట్ మార్కప్ భాష

4699757171. ✘ LaTeX
లాటెక్స్

4699757172. ✘ Curl
కర్ల్

Question Number : 144 Question Id : 4699751806 Question Type : MCQ Option Shuffling : Yes Display Question Number : Yes Is Question Mandatory : No Calculator : None Response Time : N.A Think Time : N.A Minimum Instruction Time : 0 Correct Marks : 1 Wrong Marks : 0

Network means, collection of various Computational Systems. How do you define collection of various networks in the world?

నెట్‌వర్క్ అంటే వివిధ గణన వ్యవస్థల సేకరణ. ప్రపంచంలోని వివిధ నెట్‌వర్క్‌ల సేకరణను ఎలా నిర్వచిస్తారు?

Options :

Intranet
అంతర్గత జాలం
4699757173. ✘

Internet
అంతర్జాలం
4699757174. ✔

Local Subnet
ప్రాంతీయ సబ్‌నెట్
4699757175. ✘

Local Area Network
ప్రాంతీయ నెట్‌వర్క్
4699757176. ✘

Question Number : 145 Question Id : 4699751807 Question Type : MCQ Option Shuffling : Yes Display Question Number : Yes Is Question Mandatory : No Calculator : None Response Time : N.A Think Time : N.A Minimum Instruction Time : 0 Correct Marks : 1 Wrong Marks : 0

Many devices are used while building a Network. Here is a list of devices that are used in any Computer Network. Identify the one which is not considered as a Networking Device.

నెట్‌వర్క్ నిర్మాణంలో అనేక పరికరాలను ఉపయోగిస్తారు. ఇచ్చట కంప్యూటర్ నెట్‌వర్క్ లో ఉపయోగించే పరికరాల జాబితా ఉంది. నెట్‌వర్క్ పరికరం కానిది గుర్తించండి.

Options :

Switch
స్విచ్
4699757177. ✘

Router
రౌటర్
4699757178. ✘

Suse Linux
సూస్ లైనెక్స్
4699757179. ✔

USB WiFi adapter
యుఎస్బీ వైఫై అడాప్టర్
4699757180. ✘

Question Number : 146 Question Id : 4699751808 Question Type : MCQ Option Shuffling : Yes Display Question Number : Yes Is Question Mandatory : No Calculator : None Response Time : N.A Think Time : N.A Minimum Instruction Time : 0 Correct Marks : 1 Wrong Marks : 0

We display Images and Videos on a monitor. There is smallest element to define visual element. Identify the correct one.

చిత్రాలను మరియు వీడియోలను తెర పై ప్రదర్శిస్తాము. దృశ్య మూలకాన్ని నిర్వచించడానికి ఒక చిన్న మూలకం ఉంటుంది. సరైన దానిని గుర్తించండి.

Options :

4699757181. ✘ Word
వర్డ్

4699757182. ✘ Bit
బిట్

4699757183. ✘ Byte
బైట్

4699757184. ✔ Pixel
పిక్సెల్

Question Number : 147 Question Id : 4699751809 Question Type : MCQ Option Shuffling : Yes Display Question Number : Yes Is Question Mandatory : No Calculator : None Response Time : N.A Think Time : N.A Minimum Instruction Time : 0 Correct Marks : 1 Wrong Marks : 0

The Main Block of Computer is named as CPU. Below is a list of devices that are part of CPU, except one device. Identify that device.

కంప్యూటర్ యొక్క ప్రధాన భాగం పేరు సెంట్రల్ ప్రొసెసింగ్ యూనిట్. క్రింది జాబితాలో ఒకటి తప్ప మిగిలినవి సెంట్రల్ ప్రొసెసింగ్ యూనిట్లోని పరికరాలు. ఆ ఒక్క పరికరాన్ని గుర్తించండి.

Options :

4699757185. ✘ Hard Disk
హార్డ్ డిస్క్

4699757186. ✘ Processor
ప్రాసెసర్

4699757187. ✘ SDRAM
సింగ్రోనస్ డైనమిక్ రాండమ్ యాక్సెస్ మెమరీ

4699757188. ✔ Monitor
మానిటర్

Question Number : 148 Question Id : 4699751810 Question Type : MCQ Option Shuffling : Yes Display Question Number : Yes Is Question Mandatory : No Calculator : None Response Time : N.A Think Time : N.A Minimum Instruction Time : 0 Correct Marks : 1 Wrong Marks : 0

Consider the following path “\root\master\subdir\textfile.tex”. To access the file “textfile.tex”, how many directories the OS should look into?

ఈ క్రింది మార్గాన్ని పరిశీలించండి “\root\master\subdir\textfile.tex”. “textfile.tex” అను ఫైల్ లోకి ప్రవేశం పొందడానికి , అపరేటింగ్ సిస్టమ్ ఎన్ని డైరెక్టరీలను చూడవలసి ఉంటుంది?

Options :

One
ఒకటి
4699757189. ✘

Two
రెండు
4699757190. ✘

Three
మూడు
4699757191. ✔

Four
నాలుగు
4699757192. ✘

Question Number : 149 Question Id : 4699751811 Question Type : MCQ Option Shuffling : Yes Display Question Number : Yes Is Question Mandatory : No Calculator : None Response Time : N.A Think Time : N.A Minimum Instruction Time : 0 Correct Marks : 1 Wrong Marks : 0

The Computer that was purchased for the lab consists of Intel Processor with 256 bit word length. The processor generates address that will be used to process data in the RAM. Which of the following address is generated by Processor?

ప్రయోగశాల కోసం కొనుగోలు చేసిన కంప్యూటర్ 256 బిట్ వర్డ్ పొడవుతో ఇంటెల్ ప్రొసెసర్ కలిగి ఉంది. రాండమ్ యాక్సెస్ మెమరి లో దత్తాంశాన్ని ఉపయోగించుటకు ప్రొసెసర్ చిరునామాని ఉత్పత్తి చేస్తుంది. క్రింది వాటిలో ఏ చిరునామాని ప్రొసెసర్ ఉత్పత్తి చేస్తుంది.

Options :

Local address
ప్రాంతీయ చిరునామ
4699757193. ✘

Physical address
భౌతిక చిరునామ
4699757194. ✔

Actual address

వాస్తవ చిరునామ

4699757195. ✖

Simple address

సరళమైన చిరునామ

4699757196. ✖

Question Number : 150 Question Id : 4699751812 Question Type : MCQ Option Shuffling : Yes Display Question Number :
Yes Is Question Mandatory : No Calculator : None Response Time : N.A Think Time : N.A Minimum Instruction Time : 0
Correct Marks : 1 Wrong Marks : 0

There are slow memory devices and some of them are fast memory devices. In the given list, which of the following memory device is very fast when compared to the others mentioned below?

కొన్ని నిధానమైన మెమరి పరికరాలు మరియు కొన్ని వేగవంతమైన మెమరి పరికరాలు కలవు.

క్రింది వాటిలో అన్నింటి కన్నా అతి వేగవంతమైన మెమరి పరికరం ఏది?

Options :

SSD

సాలిడ్ స్టేట్ డ్రైవ్

4699757197. ✔

DVD

డివిటల్ వర్నటైల్ డిస్క్

4699757198. ✖

Virtual Drive

వర్చువల్ డ్రైవ్

4699757199. ✖

Flash Drive

ఫ్లాష్ డ్రైవ్

4699757200. ✖