



collegebatch.com

click to campus

TG EdCET 2023 Question Paper with Preliminary Key - Shift 1

Telangana State Council Higher Education (TS EdCET)

Download TS EdCET /TG EdCET Previous Year Question Papers & Syllabus - [Click Here](#)

Telangana State Council Higher Education

Notations :

- Options shown in green color and with ✓ icon are correct.
- Options shown in red color and with ✗ icon are incorrect.

Question Paper Name :	Edcet 2023 18th May 2023 Shift 1
Subject Name :	Edcet 2023
Creation Date :	2023-05-18 13:21:34
Duration :	120
Total Marks :	150
Display Marks:	No
Calculator :	None
Magnifying Glass Required? :	No
Ruler Required? :	No
Eraser Required? :	No
Scratch Pad Required? :	No
Rough Sketch/Notepad Required? :	No
Protractor Required? :	No
Show Watermark on Console? :	Yes
Highlighter :	No
Auto Save on Console?	Yes
Change Font Color :	No
Change Background Color :	No
Change Theme :	No
Help Button :	No
Show Reports :	No
Show Progress Bar :	No

TS Edcet

Group Number :	1
Group Id :	46997511
Group Maximum Duration :	0
Group Minimum Duration :	120
Show Attended Group? :	No
Edit Attended Group? :	No
Break time :	0
Group Marks :	150
Is this Group for Examiner? :	No
Examiner permission :	Cant View
Show Progress Bar? :	No

Subject

Section Id :	46997551
Section Number :	1
Section type :	Online
Mandatory or Optional :	Mandatory
Number of Questions :	60
Number of Questions to be attempted :	60

Section Marks :	60
Enable Mark as Answered Mark for Review and Clear Response :	Yes
Maximum Instruction Time :	0
Sub-Section Number :	1
Sub-Section Id :	46997561
Question Shuffling Allowed :	Yes
Is Section Default? :	null

Question Number : 1 Question Id : 4699751511 Question Type : MCQ Option Shuffling : Yes Display Question Number : Yes Is Question Mandatory : No Calculator : None Response Time : N.A Think Time : N.A Minimum Instruction Time : 0 Correct Marks : 1 Wrong Marks : 0

If 'x' and 'y' are any two numbers such that 'x' is a multiple of 'y' , then their L.C.M.is
 x అనేది y యొక్క గుణిజము అయ్యేటట్లు గల రెండు సంఖ్యలు x మరియు y , అయిన వాటి క.సా.గు

Options :

4699756001. ✓ x

4699756002. ✗ y

4699756003. ✗ $x + y$

4699756004. ✗ xy

Question Number : 2 Question Id : 4699751512 Question Type : MCQ Option Shuffling : Yes Display Question Number : Yes Is Question Mandatory : No Calculator : None Response Time : N.A Think Time : N.A Minimum Instruction Time : 0 Correct Marks : 1 Wrong Marks : 0

If $x = \log_3 2$ and $y = \log_3 5$, then the value of $\log_3 30$ in terms of x and y is
 $x = \log_3 2$ మరియు $y = \log_3 5$ అయిన $\log_3 30$ విలువ x మరియు y పదాలలో

Options :

4699756005. ✗ $x - y + 1$

4699756006. ✗ $x + y - 1$

4699756007. ✓ $x + y + 1$

4699756008. ✗ $x - y - 1$

Question Number : 3 Question Id : 4699751513 Question Type : MCQ Option Shuffling : Yes Display Question Number : Yes Is Question Mandatory : No Calculator : None Response Time : N.A Think Time : N.A Minimum Instruction Time : 0 Correct Marks : 1 Wrong Marks : 0

If $72 = 2^a \times 3^b$, then the value of 'ab' is

$72 = 2^a \times 3^b$ అయిన 'ab' విలువ

Options :

4699756009. ✗ 5

4699756010. ✓ 6

4699756011. ✗ 2

4699756012. ✗ 3

Question Number : 4 Question Id : 4699751514 Question Type : MCQ Option Shuffling : Yes Display Question Number : Yes Is Question Mandatory : No Calculator : None Response Time : N.A Think Time : N.A Minimum Instruction Time : 0 Correct Marks : 1 Wrong Marks : 0

If 14 is deleted from the scores 12, 14, 15, 16, 17, 18, 19 and 20 ,
then their median increases by

12, 14, 15, 16, 17, 18, 19 మరియు 20 రాశులు నుండి 14 ను తొలిగించిన,
ఆ రాశుల మధ్యగతములో పెరుగుదల

Options :

4699756013. ✗ 1

4699756014. ✗ 1.5

4699756015. ✗ 2

4699756016. ✓ 0.5

Question Number : 5 Question Id : 4699751515 Question Type : MCQ Option Shuffling : Yes Display Question Number : Yes Is Question Mandatory : No Calculator : None Response Time : N.A Think Time : N.A Minimum Instruction Time : 0 Correct Marks : 1 Wrong Marks : 0

If $\sec \theta + \tan \theta = 4$, then the value of $\cos \theta$ is
 $\sec \theta + \tan \theta = 4$ అయిన $\cos \theta$ విలువ

Options :

4699756017. ✓ $\frac{8}{17}$

4699756018. ✗ $\frac{4}{17}$

4699756019. ✗ $\frac{15}{17}$

4699756020. ✗ $\frac{17}{8}$

Question Number : 6 Question Id : 4699751516 Question Type : MCQ Option Shuffling : Yes Display Question Number : Yes Is Question Mandatory : No Calculator : None Response Time : N.A Think Time : N.A Minimum Instruction Time : 0

Correct Marks : 1 Wrong Marks : 0

Among the following, a linear equation in one variable is

ఈ క్రింది వాటిలో, ఏక చరరాశిలో రేఖీయ సమీకరణము

Options :

4699756021. ✖ $2x + 1 = y - 3$

4699756022. ✔ $2t - 1 = t + 5$

4699756023. ✖ $2y - 1 = x^2$

4699756024. ✖ $x^2 - x + 1 = 0$

Question Number : 7 Question Id : 4699751517 Question Type : MCQ Option Shuffling : Yes Display Question Number : Yes Is Question Mandatory : No Calculator : None Response Time : N.A Think Time : N.A Minimum Instruction Time : 0

Correct Marks : 1 Wrong Marks : 0

The nature of roots of the quadratic equation $x^2 - 5x + 6 = 0$ is

$x^2 - 5x + 6 = 0$ వర్గ సమీకరణము యొక్క మూలాల స్వభావము

Options :

4699756025. ✖ No real roots
వాస్తవ మూలాలు లేవు

4699756026. ✖ Real and equal
వాస్తవ సంఖ్యలు మరియు సమానాలు

4699756027. ✔ Real and distinct
వాస్తవ సంఖ్యలు మరియు విభిన్నాలు

4699756028. ✖ One is positive and the other is negative
ఒకటి ధనాత్మకము, వేరొకటి ఋణాత్మకము

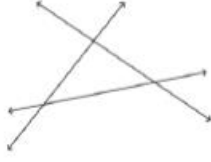
Question Number : 8 Question Id : 4699751518 Question Type : MCQ Option Shuffling : Yes Display Question Number : Yes Is Question Mandatory : No Calculator : None Response Time : N.A Think Time : N.A Minimum Instruction Time : 0

Correct Marks : 1 Wrong Marks : 0

Among the following, a figure showing concurrent lines is

ఈ క్రింది వాటిలో, అనుషక్త (మిళిత) రేఖలను సూచించు పటం

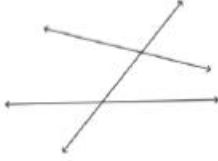
Options :



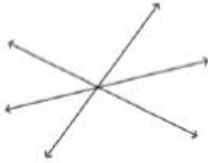
4699756029. ✖



4699756030. ✖



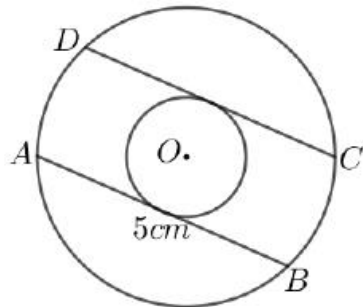
4699756031. ✖



4699756032. ✔

Question Number : 9 Question Id : 4699751519 Question Type : MCQ Option Shuffling : Yes Display Question Number : Yes Is Question Mandatory : No Calculator : None Response Time : N.A Think Time : N.A Minimum Instruction Time : 0 Correct Marks : 1 Wrong Marks : 0

In the given figure, there are two concentric circles with centre 'O' if $AB = 5\text{cm}$, then the length of CD (in cm) is
ఇచ్చిన పటంలో 'O' కేంద్రంగా గల రెండు ఏక కేంద్ర వృత్తాలు ఉన్నాయి $AB = 5$ సెం.మీ, అయిన CD పొడవు (సెం.మీ.లలో)



Options :

4699756033. ✖ 2.5

4699756034. ✓ 5

4699756035. ✗ 7.5

4699756036. ✗ 10

Question Number : 10 Question Id : 4699751520 Question Type : MCQ Option Shuffling : Yes Display Question Number : Yes Is Question Mandatory : No Calculator : None Response Time : N.A Think Time : N.A Minimum Instruction Time : 0 Correct Marks : 1 Wrong Marks : 0

If the sum of first ' n ' terms of an A.P. is $3n^2 + n$, then its common difference is
ఒక అంక శ్రేణిలో మొదటి n పదాల మొత్తము $3n^2 + n$ అయిన ఆ శ్రేణి పదాంతరము

Options :

4699756037. ✓ 6

4699756038. ✗ 10

4699756039. ✗ 4

4699756040. ✗ 1

Question Number : 11 Question Id : 4699751521 Question Type : MCQ Option Shuffling : Yes Display Question Number : Yes Is Question Mandatory : No Calculator : None Response Time : N.A Think Time : N.A Minimum Instruction Time : 0 Correct Marks : 1 Wrong Marks : 0

$$\left(-\frac{7}{2}\right)^{-1} =$$

Options :

4699756041. ✗ - 1

4699756042. ✗ $\frac{7}{2}$

4699756043. ✓ $\frac{-2}{7}$

4699756044. ✗ $\frac{-7}{2}$

Question Number : 12 Question Id : 4699751522 Question Type : MCQ Option Shuffling : Yes Display Question Number : Yes Is Question Mandatory : No Calculator : None Response Time : N.A Think Time : N.A Minimum Instruction Time : 0 Correct Marks : 1 Wrong Marks : 0

ABC is an isosceles triangle with $AC = BC$. If $(AB)^2 = 2(AC)^2$, then the measure of $\angle C$ is
సమద్విబాహు త్రిభుజం ABC లో $AC = BC$ ఇంకా $(AB)^2 = 2(AC)^2$, అయిన $\angle C$ కొలత

Options :

4699756045. ✖ 30°

4699756046. ✖ 45°

4699756047. ✖ 60°

4699756048. ✔ 90°

Question Number : 13 Question Id : 4699751523 Question Type : MCQ Option Shuffling : Yes Display Question Number : Yes Is Question Mandatory : No Calculator : None Response Time : N.A Think Time : N.A Minimum Instruction Time : 0 Correct Marks : 1 Wrong Marks : 0

If the height of a man and the length of his shadow are equal, then angle of elevation of the Sun at that time is

ఒక మనిషి ఎత్తు మరియు అతని నీడ పొడవుల సమానము అయిన ఆ సమయంలో సూర్యకిరణాలు భూమితో చేసే కోణం

Options :

4699756049. ✖ 30°

4699756050. ✔ 45°

4699756051. ✖ 60°

4699756052. ✖ 90°

Question Number : 14 Question Id : 4699751524 Question Type : MCQ Option Shuffling : Yes Display Question Number : Yes Is Question Mandatory : No Calculator : None Response Time : N.A Think Time : N.A Minimum Instruction Time : 0 Correct Marks : 1 Wrong Marks : 0

If the slope of the line passing through the points $(2, 5)$ and $(x, 3)$ is 2, then the value of 'x' is

$(2, 5)$ మరియు $(x, 3)$ బిందువుల గుండా పోవు రేఖ వాలు 2 అయిన 'x' విలువ

Options :

4699756053. ✖ 0

4699756054. ✖ -1

4699756055. ✖ 2

4699756056. ✔ 1

Question Number : 15 Question Id : 4699751525 Question Type : MCQ Option Shuffling : Yes Display Question Number : Yes Is Question Mandatory : No Calculator : None Response Time : N.A Think Time : N.A Minimum Instruction Time : 0 Correct Marks : 1 Wrong Marks : 0

If $\sin A = \cos B$ ($0^\circ < A, B < 90^\circ$), then among the following, a true statement is $\sin A = \cos B$ ($0^\circ < A, B < 90^\circ$), అయిన ఈ క్రింది వాటిలో సరైన వాక్యము

Options :

4699756057. ✖ $\angle A = 45^\circ$

4699756058. ✖ $\angle A = \angle B$

4699756059. ✔ $\angle A + \angle B = 90^\circ$

4699756060. ✖ $\angle A + \angle B = 180^\circ$

Question Number : 16 Question Id : 4699751526 Question Type : MCQ Option Shuffling : Yes Display Question Number : Yes Is Question Mandatory : No Calculator : None Response Time : N.A Think Time : N.A Minimum Instruction Time : 0 Correct Marks : 1 Wrong Marks : 0

If an unbiased dice is rolled once, then the probability of getting an even number on its top face is

ఒక నిష్పక్షిక పాచికను ఒకసారి దొర్లించినపుడు, దాని పైముఖంపై సరి సంఖ్య వచ్చే సంభావ్యత

Options :

4699756061. ✔ $\frac{1}{2}$

4699756062. ✖ $\frac{1}{3}$

4699756063. ✖ $\frac{1}{6}$

4699756064. ✖ $\frac{2}{3}$

Question Number : 17 Question Id : 4699751527 Question Type : MCQ Option Shuffling : Yes Display Question Number : Yes Is Question Mandatory : No Calculator : None Response Time : N.A Think Time : N.A Minimum Instruction Time : 0 Correct Marks : 1 Wrong Marks : 0

If the volume of a cylinder is 49896 cm^3 and its CSA is 4752 cm^2 , then its base radius (in cm) is
 ఒక స్థూపం ఘన పరిమాణం 49896 ఘ.సెం.మీ. మరియు దాని వక్రతల వైశాల్యము 4752 చ.సెం.మీ.
 అయిన దాని భూ వ్యాసార్థం (సెం.మీ లలో)

Options :

4699756065. ✖ 12.3

4699756066. ✔ 21

4699756067. ✖ 10

4699756068. ✖ 13.7

Question Number : 18 Question Id : 4699751528 Question Type : MCQ Option Shuffling : Yes Display Question Number : Yes Is Question Mandatory : No Calculator : None Response Time : N.A Think Time : N.A Minimum Instruction Time : 0

Correct Marks : 1 Wrong Marks : 0

If $A = \{x : x = n^2 + 1, n \in \mathbb{N} \text{ and } n \leq 5\}$, then the roster form of set A is
 $A = \{x : x = n^2 + 1, n \in \mathbb{N} \text{ and } n \leq 5\}$ అయిన, సమితి A యొక్క జాబితారూపం

Options :

4699756069. ✖ $\{1, 4, 9, 16, 25\}$

4699756070. ✖ $\{0, 3, 8, 15, 24\}$

4699756071. ✔ $\{2, 5, 10, 17, 26\}$

4699756072. ✖ $\{2, 6, 11, 18, 27\}$

Question Number : 19 Question Id : 4699751529 Question Type : MCQ Option Shuffling : Yes Display Question Number : Yes Is Question Mandatory : No Calculator : None Response Time : N.A Think Time : N.A Minimum Instruction Time : 0

Correct Marks : 1 Wrong Marks : 0

The mean of the numbers $1, 2, 3, 4, \dots, n$ is
 $1, 2, 3, 4, \dots, n$ సంఖ్యల సగటు

Options :

4699756073. ✔ $\frac{n+1}{2}$

4699756074. ✖ $\frac{n(n+1)}{2}$

4699756075. ✖ $\frac{n}{2}$

4699756076. ✖ $\frac{n+1}{4}$

Question Number : 20 Question Id : 4699751530 Question Type : MCQ Option Shuffling : Yes Display Question Number : Yes Is Question Mandatory : No Calculator : None Response Time : N.A Think Time : N.A Minimum Instruction Time : 0 Correct Marks : 1 Wrong Marks : 0

Match the following

జత పరచండి

Group A

Group B

- | | |
|--|-----------------------------------|
| a. $\sin(90 - \theta)$ | i. 3 |
| b. $\cos 0^\circ + \sin 90^\circ + \sqrt{2} \sin 45^\circ$ | ii. $\operatorname{cosec} \theta$ |
| c. $\tan^2 30^\circ$ | iii. $\cos \theta$ |
| d. $\sec(90 - \theta)$ | iv. $\frac{1}{3}$ |

Among the following, the correct option is
ఈ క్రింది వాటిలో సరైన సమాధానాన్ని సూచించేది

Options :

4699756077. ✖ a - ii, b - i, c - iv, d - iii

4699756078. ✖ a - iii, b - iv, c - i, d - ii

4699756079. ✖ a - ii, b - iv, c - i, d - iii

4699756080. ✔ a - iii, b - i, c - iv, d - ii

Question Number : 21 Question Id : 4699751531 Question Type : MCQ Option Shuffling : Yes Display Question Number : Yes Is Question Mandatory : No Calculator : None Response Time : N.A Think Time : N.A Minimum Instruction Time : 0 Correct Marks : 1 Wrong Marks : 0

Which of the following does not affect friction?

క్రింది వాటిలో ఘర్షణను ప్రభావితం చేయని అంశం ఏది?

Options :

Roughness of surfaces

4699756081. ✖ తలాల గరుకుదనం

Area of contact of the surfaces

4699756082. ✔ తలాల స్పర్శావైశాల్యం

Smoothness of surfaces

తలాల నునుపుదనం

4699756083. ✖

Normal force

అభీలంబ బలం

4699756084. ✖

Question Number : 22 Question Id : 4699751532 Question Type : MCQ Option Shuffling : Yes Display Question Number : Yes Is Question Mandatory : No Calculator : None Response Time : N.A Think Time : N.A Minimum Instruction Time : 0 Correct Marks : 1 Wrong Marks : 0

Which of the following is generally called “ fake fur”?

‘నకిలీ ఉన్ని’ గా పిలువబడేది ఏది?

Options :

Acrylic

అక్రిలిక్

4699756085. ✔

Silk

పట్టు

4699756086. ✖

Rayon

రేయాన్

4699756087. ✖

Jute

జనపనార

4699756088. ✖

Question Number : 23 Question Id : 4699751533 Question Type : MCQ Option Shuffling : Yes Display Question Number : Yes Is Question Mandatory : No Calculator : None Response Time : N.A Think Time : N.A Minimum Instruction Time : 0 Correct Marks : 1 Wrong Marks : 0

Audible range of frequency for normal human beings is

సాధారణ మానవులు వినగలిగే ధ్వనుల (శ్రవ్య ధ్వనుల) పౌనఃపున్యం

Options :

10 vibrations / sec. to 10,000 vibrations / sec.

10 కంపనాలు / సెకను నుండి 10,000 కంపనాలు / సెకను వరకు

4699756089. ✖

20 vibrations / sec. to 20,000 vibrations / sec.

20 కంపనాలు / సెకను నుండి 20,000 కంపనాలు / సెకను వరకు

4699756090. ✔

30 vibrations / sec. to 30,000 vibrations / sec.

30 కంపనాలు / సెకను నుండి 30,000 కంపనాలు / సెకను వరకు

4699756091. ✖

40 vibrations / sec. to 40,000 vibrations / sec.
40 కంపనాలు / సెకను నుండి 40,000 కంపనాలు / సెకను వరకు

4699756092. ✖

Question Number : 24 Question Id : 4699751534 Question Type : MCQ Option Shuffling : Yes Display Question Number : Yes Is Question Mandatory : No Calculator : None Response Time : N.A Think Time : N.A Minimum Instruction Time : 0 Correct Marks : 1 Wrong Marks : 0

The eclipse formed when the moon completely covers the sun as seen from the earth is

భూమిపై నుండి చూసినప్పుడు చంద్రుడు సూర్యుని పూర్తిగా ఆవరించినట్లయితే ఏర్పడే గ్రహణం

Options :

Total lunar eclipse
సంపూర్ణ చంద్రగ్రహణం

4699756093. ✖

Penumbral lunar eclipse
ప్రచ్ఛాయ చంద్ర గ్రహణం

4699756094. ✖

Total Solar eclipse
సంపూర్ణ సూర్యగ్రహణం

4699756095. ✔

Partial Solar eclipse
పాక్షిక సూర్యగ్రహణం

4699756096. ✖

Question Number : 25 Question Id : 4699751535 Question Type : MCQ Option Shuffling : Yes Display Question Number : Yes Is Question Mandatory : No Calculator : None Response Time : N.A Think Time : N.A Minimum Instruction Time : 0 Correct Marks : 1 Wrong Marks : 0

Image of a real object in a plane mirror is

నిజ వస్తువుకు సమతల దర్పణం వల్ల ఏర్పడే ప్రతిబింబం

i Virtual

మిథ్యా ప్రతిబింబం

ii Suffers lateral inversion

పార్శ్వ విలోమం పొందుతుంది

iii Real

నిజ ప్రతిబింబం

iv Same size of the object

ప్రతిబింబం పరిమాణం వస్తు పరిమాణంతో సమానం

Options :

4699756097. ✖ i,ii,iii

4699756098. ✖ ii,iii,iv

4699756099. ✖ i, iii, iv

4699756100. ✔ i,ii,iv

Question Number : 26 Question Id : 4699751536 Question Type : MCQ Option Shuffling : Yes Display Question Number : Yes Is Question Mandatory : No Calculator : None Response Time : N.A Think Time : N.A Minimum Instruction Time : 0 Correct Marks : 1 Wrong Marks : 0

Which of the following are compound substances?

క్రింది వాటిలో సంయోగ పదార్థాలు ఏవి?

i. Salt

ఉప్పు

ii. Salt in Water

ఉప్పు నీటి ద్రావణం

iii. Sugar

పంచదార

iv Sugar in water

పంచదార నీటి ద్రావణం

Options :

4699756101. ✖ i,ii

4699756102. ✖ ii,iii

4699756103. ✖ iii,iv

4699756104. ✔ i,iii

Question Number : 27 Question Id : 4699751537 Question Type : MCQ Option Shuffling : Yes Display Question Number : Yes Is Question Mandatory : No Calculator : None Response Time : N.A Think Time : N.A Minimum Instruction Time : 0 Correct Marks : 1 Wrong Marks : 0

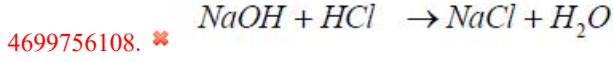
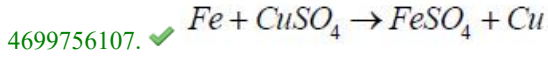
Which of the following is a displacement reaction ?

క్రింది వాటిలో రసాయన స్థానభ్రంశ చర్య ఏది ?

Options :

4699756105. ✖ $2H_2O \rightarrow 2H_2 + O_2$

4699756106. ✖ $C + O_2 \rightarrow CO_2$



Question Number : 28 Question Id : 4699751538 Question Type : MCQ Option Shuffling : Yes Display Question Number : Yes Is Question Mandatory : No Calculator : None Response Time : N.A Think Time : N.A Minimum Instruction Time : 0

Correct Marks : 1 Wrong Marks : 0

One of the uses of Baking Soda among the following is

క్రింది వాటిలో వంట సోడా యొక్క ఉపయోగాలలో ఒకటి

Options :

4699756109. ✗ It is used as reagent in the preparation of chloroform
క్లోరోఫాం తయారీలో కారకంగా దీనిని ఉపయోగిస్తారు.

4699756110. ✓ It is used as soda- acid in fire extinguishers
అగ్ని మాపక యంత్రాలలో దీనిని సోడా ఆమ్లంగా ఉపయోగిస్తారు

4699756111. ✗ It is used for removing permanent hardness of water
నీటి యొక్క శాశ్వత కఠినతను తొలగించడానికి దీనిని ఉపయోగిస్తారు

4699756112. ✗ It is used for making toys
దీనిని బొమ్మల తయారీలో ఉపయోగిస్తారు

Question Number : 29 Question Id : 4699751539 Question Type : MCQ Option Shuffling : Yes Display Question Number : Yes Is Question Mandatory : No Calculator : None Response Time : N.A Think Time : N.A Minimum Instruction Time : 0

Correct Marks : 1 Wrong Marks : 0

Which of the following is known as 'liquid gold'?

'ద్రవ బంగారం' గా పిలువబడే పదార్థం ఏది?

Options :

4699756113. ✓ Petroleum
పెట్రోలియం

4699756114. ✗ Kerosene
కిరోసిన్

4699756115. ✗ Diesel
డీజిల్

4699756116. ✗ Paraffin Wax
పారాఫిన్ మైనం

Question Number : 30 Question Id : 4699751540 Question Type : MCQ Option Shuffling : Yes Display Question Number : Yes Is Question Mandatory : No Calculator : None Response Time : N.A Think Time : N.A Minimum Instruction Time : 0 Correct Marks : 1 Wrong Marks : 0

The separation method used to observe the colours in a mixture of colours is :

రంగుల మిశ్రమం లోని వివిధ రంగులను వేరు చేసి చూడడానికి ఉపయోగించే పద్ధతి :

Options :

Evaporation

స్వేదనం

4699756117. ✘

Sublimation

ఉత్పతనం

4699756118. ✘

Chromatography

క్రోమటోగ్రఫి

4699756119. ✔

Crystallization

స్ఫటికీకరణం

4699756120. ✘

Question Number : 31 Question Id : 4699751541 Question Type : MCQ Option Shuffling : Yes Display Question Number : Yes Is Question Mandatory : No Calculator : None Response Time : N.A Think Time : N.A Minimum Instruction Time : 0 Correct Marks : 1 Wrong Marks : 0

The longest Phase in cell cycle where duplication of genetic material takes place is

కణచక్రంలో జన్యుపదార్థ ద్విగుణీకరణ జరిగే దీర్ఘకాల దశ

Options :

G1 Phase

G1 దశ

4699756121. ✘

G2 Phase

G2 దశ

4699756122. ✘

S Phase

S దశ

4699756123. ✔

M Phase

M దశ

4699756124. ✘

Question Number : 32 Question Id : 4699751542 Question Type : MCQ Option Shuffling : Yes Display Question Number : Yes Is Question Mandatory : No Calculator : None Response Time : N.A Think Time : N.A Minimum Instruction Time : 0 Correct Marks : 1 Wrong Marks : 0

Identify the cells without nucleus from the following
కింది వాటిలో కేంద్రకం లేని కణాలను గుర్తించండి

Options :

Thrombocytes
థ్రాంబోసైట్లు
4699756125. ✓

Leucocytes
ల్యూకోసైట్లు
4699756126. ✗

Monocytes
మోనోసైట్లు
4699756127. ✗

Lymphocytes
లింఫోసైట్లు
4699756128. ✗

Question Number : 33 Question Id : 4699751543 Question Type : MCQ Option Shuffling : Yes Display Question Number : Yes Is Question Mandatory : No Calculator : None Response Time : N.A Think Time : N.A Minimum Instruction Time : 0 Correct Marks : 1 Wrong Marks : 0

Depletion of Ozone layer is caused due to
ఓజోన్ పొర క్షీణతకు కారణం

Options :

Oxygen
ఆక్సిజన్
4699756129. ✗

Ultraviolet rays
అతినీల లోహిత కిరణాలు
4699756130. ✗

Sulphur dioxide
సల్ఫర్ డయాక్సైడ్
4699756131. ✗

Chloro fluoro carbons
క్లోరోఫ్లోరోకార్బన్లు
4699756132. ✓

Question Number : 34 Question Id : 4699751544 Question Type : MCQ Option Shuffling : Yes Display Question Number : Yes Is Question Mandatory : No Calculator : None Response Time : N.A Think Time : N.A Minimum Instruction Time : 0 Correct Marks : 1 Wrong Marks : 0

Identify the INCORRECT PAIR from the following

కింది వాటిలో సరికాని జతను గుర్తించండి

Options :

Binominal nomenclature - Carolous Linnaeus
ద్విసామ నామీకరణం - కరోలస్ లిన్నేయస్

4699756133. ✘

Five Kingdom Classification - Copeland
ఐదు రాజ్యాల వర్గీకరణ - కోప్ లాండ్

4699756134. ✔

Blood Circulation - William Harvey
రక్త ప్రసరణ - విలియం హార్వే

4699756135. ✘

Origin of species - Charles Darwin
జీవుల పుట్టుక - చార్లెస్ డార్విన్

4699756136. ✘

Question Number : 35 Question Id : 4699751545 Question Type : MCQ Option Shuffling : Yes Display Question Number : Yes Is Question Mandatory : No Calculator : None Response Time : N.A Think Time : N.A Minimum Instruction Time : 0 Correct Marks : 1 Wrong Marks : 0

Water vascular system is present in the organisms belonging to this phylum
జల ప్రసరణ వ్యవస్థ కలిగిన జీవులు యీ వర్గానికి చెందినవి:

Options :

Chordata
కార్డేటా

4699756137. ✘

Echinodermata
ఇఖైనోడర్మేటా

4699756138. ✔

Mollusca
మొలస్కా

4699756139. ✘

Coelenterata
కోలెంటరేటా

4699756140. ✘

Question Number : 36 Question Id : 4699751546 Question Type : MCQ Option Shuffling : Yes Display Question Number : Yes Is Question Mandatory : No Calculator : None Response Time : N.A Think Time : N.A Minimum Instruction Time : 0 Correct Marks : 1 Wrong Marks : 0

The Hormone responsible for promoting aging of leaves is
ఆకుల వయోవృద్ధిని ప్రోత్సహించే హార్మోన్

Options :

Ethylene

ఈథిలీన్

4699756141. ✖

Auxins

ఆక్సిన్స్

4699756142. ✖

Cytokinins

సైటోకైనిన్స్

4699756143. ✖

Abscisic acid

అబ్సైసిక్ ఆమ్లం

4699756144. ✔

Question Number : 37 Question Id : 4699751547 Question Type : MCQ Option Shuffling : Yes Display Question Number : Yes Is Question Mandatory : No Calculator : None Response Time : N.A Think Time : N.A Minimum Instruction Time : 0 Correct Marks : 1 Wrong Marks : 0

Which among the following organisms show external fertilization?

క్రింది వాటిలో బాహ్య ఫలదీకరణ చూపించు జీవి ఏది?

Options :

Snake

4699756145. ✖ పాము

Bird

4699756146. ✖ పక్షి

Fish

4699756147. ✔ చేప

Bat

4699756148. ✖ గబ్బిలం

Question Number : 38 Question Id : 4699751548 Question Type : MCQ Option Shuffling : Yes Display Question Number : Yes Is Question Mandatory : No Calculator : None Response Time : N.A Think Time : N.A Minimum Instruction Time : 0 Correct Marks : 1 Wrong Marks : 0

Identify the monocot plant from the following

క్రింది వాటి లో ఏక దళ బీజ మొక్కని గుర్తించండి

Options :

Green gram

4699756149. ✖ పెసలు

Beans

బిక్కుడు

4699756150. ✘

Ground nut

వేరు శనగ

4699756151. ✘

Paddy

వరి

4699756152. ✔

Question Number : 39 Question Id : 4699751549 Question Type : MCQ Option Shuffling : Yes Display Question Number : Yes Is Question Mandatory : No Calculator : None Response Time : N.A Think Time : N.A Minimum Instruction Time : 0 Correct Marks : 1 Wrong Marks : 0

Identify the INCORRECT sentence from the following

క్రింది వాటిలో సరికాని వాక్యాన్ని గుర్తించండి

Options :

Sprinklers and drip irrigation techniques are used in drought prone areas

నీరు తక్కువగా లభించే ప్రదేశాలలో స్ప్రింక్లర్లు, బిందుసేద్యం వంటి పద్ధతులు ఉపయోగిస్తారు

4699756153. ✘

Leveling the soil is useful for irrigation of fields

మృత్తిక ను చదునుచేయడం వల్ల నీరందించడం సులభమౌతుంది

4699756154. ✘

In some plants flowering depends on the duration of the night

కొన్ని మొక్కలు పుష్పించడం రాత్రికాలంపై ఆధారపడి ఉంటుంది

4699756155. ✘

Barley, greengram , peas and wheat are kharif crops

బార్లీ, పెసర, శనగలు మరియు గోధుమలు ఖరీఫ్ పంటలు

4699756156. ✔

Question Number : 40 Question Id : 4699751550 Question Type : MCQ Option Shuffling : Yes Display Question Number : Yes Is Question Mandatory : No Calculator : None Response Time : N.A Think Time : N.A Minimum Instruction Time : 0 Correct Marks : 1 Wrong Marks : 0

. Identify the types of muscle given in the picture

చిత్రంలో ఇచ్చిన కండరాల రకాన్ని గుర్తించండి



Options :

Striated muscle

4699756157. ✘ రేఖిత కండరం

Non striated muscle

4699756158. ✔ అరేఖిత కండరం

Cardiac muscle

4699756159. ✘ హృదయ కండరం

Skeletal muscle

4699756160. ✘ అస్థి కండరం

Question Number : 41 Question Id : 4699751551 Question Type : MCQ Option Shuffling : Yes Display Question Number : Yes Is

Question Mandatory : No Calculator : None Response Time : N.A Think Time : N.A Minimum Instruction Time : 0

Correct Marks : 1 Wrong Marks : 0

This is the relief feature of Telangana

ఇది తెలంగాణ యొక్క నైసర్గిక స్వరూపం

Options :

Krishna Delta

4699756161. ✘ కృష్ణ డెల్టా

Devarakonda hills

4699756162. ✔ దేవరకొండ కొండలు

Godavari Delta

గోదావరి డెల్టా

4699756163. ✖

Western Ghats

పశ్చిమ కనుమలు

4699756164. ✖

Question Number : 42 Question Id : 4699751552 Question Type : MCQ Option Shuffling : Yes Display Question Number : Yes Is Question Mandatory : No Calculator : None Response Time : N.A Think Time : N.A Minimum Instruction Time : 0 Correct Marks : 1 Wrong Marks : 0

The important source of information to know about Mauryan rule is

మౌర్యుల పరిపాలన గురించి తెలుసుకొనుటకు ఇది ఒక ముఖ్యమైన ఆధారం

Options :

Indica

ఇండియా

4699756165. ✔

Motupalli pillar inscription

మోటుపల్లి అభయ శాసనం

4699756166. ✖

Qibla

కిబ్లా

4699756167. ✖

Sushruta Samhita

శుశ్రుత సంహిత

4699756168. ✖

Question Number : 43 Question Id : 4699751553 Question Type : MCQ Option Shuffling : Yes Display Question Number : Yes Is Question Mandatory : No Calculator : None Response Time : N.A Think Time : N.A Minimum Instruction Time : 0 Correct Marks : 1 Wrong Marks : 0

Auroville, an international village was established to spread the message of

ఈ సందేశాన్ని వ్యాప్తి చేయడానికి ఆరోవిల్లే అనే అంతర్జాతీయ గ్రామం స్థాపించబడింది

Options :

Population control

జనాభా నియంత్రణ

4699756169. ✖

Peace and global cooperation

శాంతి మరియు ప్రపంచ సహకారం

4699756170. ✔

Environment conservation

పర్యావరణ పరిరక్షణ

4699756171. ✖

Sustainable development

సుస్థిర అభివృద్ధి

4699756172. ✖

Question Number : 44 Question Id : 4699751554 Question Type : MCQ Option Shuffling : Yes Display Question Number : Yes Is Question Mandatory : No Calculator : None Response Time : N.A Think Time : N.A Minimum Instruction Time : 0 Correct Marks : 1 Wrong Marks : 0

We find the earliest evidence of cultivation of crops from
అది మానవుల తొలి వ్యవసాయ ఆనవాళ్ళు ఇక్కడ బయట పడ్డాయి.

Options :

Sri Lanka

శ్రీలంక

4699756173. ✖

India

భారతదేశం

4699756174. ✖

Bangladesh

బంగ్లాదేశ్

4699756175. ✖

Baluchistan

బలూచిస్తాన్

4699756176. ✔

Question Number : 45 Question Id : 4699751555 Question Type : MCQ Option Shuffling : Yes Display Question Number : Yes Is Question Mandatory : No Calculator : None Response Time : N.A Think Time : N.A Minimum Instruction Time : 0 Correct Marks : 1 Wrong Marks : 0

Observe the given map and identify the given latitude
క్రింది పటాన్ని పరిశీలించి ఇవ్వబడిన అక్షాంశాన్ని గుర్తించండి



Options :

Equator
4699756177. ✓ భూమధ్య రేఖ

Tropic of cancer
4699756178. ✗ కర్కట రేఖ

Tropic of Capricorn
4699756179. ✗ మకర రేఖ

Antarctic Circle
4699756180. ✗ అంటార్కిటిక్ వలయం

Question Number : 46 Question Id : 4699751556 Question Type : MCQ Option Shuffling : Yes Display Question Number : Yes Is Question Mandatory : No Calculator : None Response Time : N.A Think Time : N.A Minimum Instruction Time : 0 Correct Marks : 1 Wrong Marks : 0

Under the Nayankara System, the Nayakas
నాయంకర విధానం లో నాయకులు

Options :

Maintained the army for the service of the king
4699756181. ✓ సైన్యాన్ని రాజు సేవ కోసం పోషించేవారు

Donated land to the Brahmins
4699756182. ✗ భూమిని బ్రాహ్మణులకు బహుకరించేవారు

Maintained land for the schools
4699756183. ✗ పాఠశాల నిర్వహణకు భూమిని ఉపయోగించేవారు

Gifted land to the temples
4699756184. ✗ దేవాలయాలకు భూమిని బహుకరించేవారు

Question Number : 47 Question Id : 4699751557 Question Type : MCQ Option Shuffling : Yes Display Question Number : Yes Is Question Mandatory : No Calculator : None Response Time : N.A Think Time : N.A Minimum Instruction Time : 0 Correct Marks : 1 Wrong Marks : 0

Om Prakash Valmiki's autobiography "Joothan" highlights the issue of
ఓం ప్రకాశ్ వాల్మీకి యొక్క స్వీయ చరిత్ర అయిన జూథాన్ దీని గురించి తెలుపుతుంది

Options :

Poverty
4699756185. ✗ పేదరికం

Unemployment
నిరుద్యోగం
4699756186. ✘

Inequality
అసమానత
4699756187. ✔

Illiteracy
నిరక్షరాస్యత
4699756188. ✘

Question Number : 48 Question Id : 4699751558 Question Type : MCQ Option Shuffling : Yes Display Question Number : Yes Is
Question Mandatory : No Calculator : None Response Time : N.A Think Time : N.A Minimum Instruction Time : 0
Correct Marks : 1 Wrong Marks : 0

Identify the wrong pair
సరికాని జతను గుర్తించండి

Options :

Boulton - Steam engine
బౌల్టన్ - ఆవిరి యంత్రం (స్టీమ్ ఇంజన్)
4699756189. ✘

John Loudon Mc Adam - Rail Transport
జాన్ లౌడన్ మెక్ అడమ్ - రైలు రవాణ
4699756190. ✔

Wright Brothers - Air Transport
రైట్ సోదరులు - విమాన రవాణ
4699756191. ✘

Columbus - America
కొలంబస్ - అమెరికా
4699756192. ✘

Question Number : 49 Question Id : 4699751559 Question Type : MCQ Option Shuffling : Yes Display Question Number : Yes Is
Question Mandatory : No Calculator : None Response Time : N.A Think Time : N.A Minimum Instruction Time : 0
Correct Marks : 1 Wrong Marks : 0

Hemanta Ritu is followed by
హేమంత ఋతువు తరువాత వచ్చేది

Options :

Vasanta Ritu
వసంత ఋతువు
4699756193. ✘

Shard Ritu
శరత్ ఋతువు
4699756194. ✘

Shishira Ritu

4699756195. ✓ శిశిర ఋతువు

Varsha Ritu

4699756196. ✘ వర్ష ఋతువు

Question Number : 50 Question Id : 4699751560 Question Type : MCQ Option Shuffling : Yes Display Question Number : Yes Is Question Mandatory : No Calculator : None Response Time : N.A Think Time : N.A Minimum Instruction Time : 0 Correct Marks : 1 Wrong Marks : 0

Under PM Jan Dhan Yojana, the account holder gets
ప్రధాన మంత్రి జన్ ధన్ యోజన క్రింద ఖాతాదారునికి లభించేవి

- A. Rupay debit card
రూపే కార్డు
- B. Rupees one lakh accident Insurance coverage
ఒక లక్ష రూపాయల వరకు ప్రమాద భీమ
- C. Over drafting facility
ఓవర్ డ్రాఫ్టింగ్ సదుపాయం

Options :

Only A and B

4699756197. ✘ A మరియు B

Only B

4699756198. ✘ B మాత్రమే

A,B and C

4699756199. ✓ A,B మరియు C

Only B and C

4699756200. ✘ B మరియు C మాత్రమే

Question Number : 51 Question Id : 4699751561 Question Type : MCQ Option Shuffling : Yes Display Question Number : Yes Is Question Mandatory : No Calculator : None Response Time : N.A Think Time : N.A Minimum Instruction Time : 0 Correct Marks : 1 Wrong Marks : 0

Arrange the following in the chronological order

క్రింది వాటిని కాలానుసారంగా అమర్చండి

A. Non cooperation Movement

సహాయ నిరాకరణోద్యమం

B. Rowlatt Act

రౌలట్ చట్టం

C. Champaran Campaign

చంపారణ్ ఆందోళన

D. Dandi March

దండి యాత్ర

Options :

4699756201. ✓ C, B, A, D

4699756202. ✘ C, A, D, B

4699756203. ✘ D, B, C, A

4699756204. ✘ A, C, B, D

Question Number : 52 Question Id : 4699751562 Question Type : MCQ Option Shuffling : Yes Display Question Number : Yes Is Question Mandatory : No Calculator : None Response Time : N.A Think Time : N.A Minimum Instruction Time : 0

Correct Marks : 1 Wrong Marks : 0

Right to Information is recognized within the constitution under two fundamental rights as

సమాచార హక్కును రాజ్యాంగం ఈ రెండు ప్రాథమిక హక్కుల కింద గుర్తిస్తున్నారు

Options :

Freedom of speech and Freedom to form Association

వాక్ స్వాతంత్ర్యం మరియు సంఘాలుగా, సభలుగా ఏర్పడే హక్కు

4699756205. ✘

Right to Equality and Right Against Exploitation

సమానత్వపు హక్కు మరియు పీడనాన్ని నిరోధించే హక్కు

4699756206. ✘

Right against Exploitation and Freedom of speech

పీడనాన్ని నిరోధించే హక్కు మరియు వాక్ స్వాతంత్ర్యం

4699756207. ✘

Freedom of expression and Right to Life

భావ ప్రకటన స్వేచ్ఛ మరియు జీవించే హక్కు

4699756208. ✓

Question Number : 53 Question Id : 4699751563 Question Type : MCQ Option Shuffling : Yes Display Question Number : Yes Is Question Mandatory : No Calculator : None Response Time : N.A Think Time : N.A Minimum Instruction Time : 0 Correct Marks : 1 Wrong Marks : 0

Thickness of the Troposphere is greatest at the
ట్రోపో అవరణం ఎత్తు ఎక్కువగా ఉండే ప్రదేశం

Options :

- South Pole
దక్షిణ దృవం
4699756209. ✘
- Equator
భూమధ్య రేఖ
4699756210. ✔
- Arctic Circle
ఆర్కిటిక్ వలయం
4699756211. ✘
- North pole
ఉత్తర దృవం
4699756212. ✘

Question Number : 54 Question Id : 4699751564 Question Type : MCQ Option Shuffling : Yes Display Question Number : Yes Is Question Mandatory : No Calculator : None Response Time : N.A Think Time : N.A Minimum Instruction Time : 0 Correct Marks : 1 Wrong Marks : 0

Dearness Allowance is paid to the
కరువు భత్యం వీరికి ఇస్తారు

Options :

- Employees
ఉద్యోగులకు
4699756213. ✔
- Traders
వ్యాపారవేత్తలకు
4699756214. ✘
- Contractors
కాంట్రాక్టర్లకు
4699756215. ✘
- Farmers
రైతులకు
4699756216. ✘

Question Number : 55 Question Id : 4699751565 Question Type : MCQ Option Shuffling : Yes Display Question Number : Yes Is Question Mandatory : No Calculator : None Response Time : N.A Think Time : N.A Minimum Instruction Time : 0 Correct Marks : 1 Wrong Marks : 0

The first step enrounted to political unity and unification of Germany was the formulation of

రాజకీయ ఐక్యతకు మరియు జర్మనీ ఏకీకరణ కు ఇది తొలి సోపానంగా పనిచేసింది

Options :

Black shirts

4699756217. ✘ బ్లాక్ షర్టు ఏర్పాటు

Red shirts

4699756218. ✘ రెడ్ షర్టు ఏర్పాటు

Zolloverein

4699756219. ✔ జోల్లోవెరిన్ ఏర్పాటు

Young Germany

4699756220. ✘ యంగ్ జర్మనీ ఏర్పాటు

Question Number : 56 Question Id : 4699751566 Question Type : MCQ Option Shuffling : Yes Display Question Number : Yes Is Question Mandatory : No Calculator : None Response Time : N.A Think Time : N.A Minimum Instruction Time : 0 Correct Marks : 1 Wrong Marks : 0

Match the following

జత పరచండి

- | | |
|---|------------------|
| i. Bhumika helpline number
భూమిక హెల్ప్‌లైన్ నెంబర్ | a) 101 |
| ii. Childline number
చైల్డ్‌లైన్ నెంబర్ | b) 1800 425 2908 |
| iii. Traffic helpline number
ట్రాఫిక్ హెల్ప్‌లైన్ నెంబర్ | c) 1098 |
| iv. Fire brigade number
అగ్నిమాపక దళం నెంబర్ | d) 1073 |

Options :

4699756221. ✔ i-b; ii-c; iii-d; iv-a

4699756222. ✘ i-c; ii-a; iii-d; iv-b

4699756223. ✘ i-d; ii-a; iii-b; iv-c

4699756224. ✖ i-b; ii-d; iii-a; iv-c

Question Number : 57 Question Id : 4699751567 Question Type : MCQ Option Shuffling : Yes Display Question Number : Yes Is Question Mandatory : No Calculator : None Response Time : N.A Think Time : N.A Minimum Instruction Time : 0 Correct Marks : 1 Wrong Marks : 0

Identify False statement /s

సరికాని వాక్యాన్ని /లు గుర్తించండి

- A. Doab features dominate fertile land between Pir Panjal ranges and Mussourie ranges
సారవంతమైన అంతర్వేదుల పీర్ పంజల్ శ్రేణి మరియు ముస్సోరి శ్రేణుల మధ్య ఉన్నాయి.
- B. Bhabar is porous in nature
భాబర్ సచ్చిద్రంగా ఉంటుంది
- C. Indian peninsula is a part of Angara land
భారత దేశ ద్వీపకల్పం అంగార భూభాగం లోనిది
- D. The highest peak is Eastern Ghats is Aroma konda
తూర్పు కనుమలలో ఎత్తైన పర్వతం ఆరోమ కొండ

Options :

Only B

B మాత్రమే

4699756225. ✖

Only D

D మాత్రమే

4699756226. ✖

A and C

A మరియు C

4699756227. ✔

B and D

B మరియు D

4699756228. ✖

Question Number : 58 Question Id : 4699751568 Question Type : MCQ Option Shuffling : Yes Display Question Number : Yes Is Question Mandatory : No Calculator : None Response Time : N.A Think Time : N.A Minimum Instruction Time : 0 Correct Marks : 1 Wrong Marks : 0

After the Second World War Guomindang was forced to set up its Government on the island of

రెండవ ప్రపంచ యుద్ధం తరువాత గోమ్మిండాంగ్ ఏ దీవిలో ప్రభుత్వాన్ని ఏర్పాటు చేసే పరిస్థితి కలిగింది

Options :

Taiwan

తైవాన్

4699756229. ✓

Japan

జపాన్

4699756230. ✘

Java

జావ

4699756231. ✘

Philipines

ఫిలిపైన్స్

4699756232. ✘

Question Number : 59 Question Id : 4699751569 Question Type : MCQ Option Shuffling : Yes Display Question Number : Yes Is Question Mandatory : No Calculator : None Response Time : N.A Think Time : N.A Minimum Instruction Time : 0 Correct Marks : 1 Wrong Marks : 0

The World Health Organization is located at

ప్రపంచ ఆరోగ్య సంస్థ ఉన్న నగరం

Options :

Paris

పారిస్

4699756233. ✘

New York

న్యూయార్క్

4699756234. ✘

Geneva

జెనివ

4699756235. ✓

Hague

హేగ్

4699756236. ✘

Question Number : 60 Question Id : 4699751570 Question Type : MCQ Option Shuffling : Yes Display Question Number : Yes Is Question Mandatory : No Calculator : None Response Time : N.A Think Time : N.A Minimum Instruction Time : 0 Correct Marks : 1 Wrong Marks : 0

This is the measure of development

ఇది అభివృద్ధికి కొలబద్ద

Options :

Sex ratio
లింగ నిష్పత్తి
4699756237. ✖

Population
జనాభా
4699756238. ✖

Inflation
ద్రవ్యోల్బణం
4699756239. ✖

Human Development Index
మానవ అభివృద్ధి సూచిక
4699756240. ✔

Teaching Aptitude

Section Id :	46997552
Section Number :	2
Section type :	Online
Mandatory or Optional :	Mandatory
Number of Questions :	20
Number of Questions to be attempted :	20
Section Marks :	20
Enable Mark as Answered Mark for Review and Clear Response :	Yes
Maximum Instruction Time :	0
Sub-Section Number :	1
Sub-Section Id :	46997562
Question Shuffling Allowed :	Yes
Is Section Default? :	null

Question Number : 61 Question Id : 4699751571 Question Type : MCQ Option Shuffling : Yes Display Question Number : Yes Is Question Mandatory : No Calculator : None Response Time : N.A Think Time : N.A Minimum Instruction Time : 0 Correct Marks : 1 Wrong Marks : 0

Which of these factors do not affect teaching?

ఈ క్రింది కారకాలలో ఏది బోధనను ప్రభావితం చేయదు?

Options :

Educational Qualifications of a Teacher
ఉపాధ్యాయుని విద్యార్హతలు
4699756241. ✖

Communication skills of a Teacher
ఉపాధ్యాయుని భావ ప్రసార నైపుణ్యాలు
4699756242. ✖

Teaching Experience of a Teacher

4699756243. ✘ ఉపాధ్యాయుని బోధన అనుభవము

Remuneration of a Teacher

4699756244. ✔ ఉపాధ్యాయుని పారితోషికం

Question Number : 62 Question Id : 4699751572 Question Type : MCQ Option Shuffling : Yes Display Question Number : Yes Is Question Mandatory : No Calculator : None Response Time : N.A Think Time : N.A Minimum Instruction Time : 0 Correct Marks : 1 Wrong Marks : 0

A Person having greater difficulty in doing mental tasks is termed as

ఒక వ్యక్తికి బుద్ధి పరమైన పనులు చేయడం చాలా కష్టం అని సూచించేది

Options :

Intellectual disabled

4699756245. ✔ మేధోవైకల్యం కలవారు

Speech disabled

4699756246. ✘ మూగతనము కలవారు

Hearing impaired

4699756247. ✘ వినికిడి లోపము

Visually impaired

4699756248. ✘ దృష్టి లోపము

Question Number : 63 Question Id : 4699751573 Question Type : MCQ Option Shuffling : Yes Display Question Number : Yes Is Question Mandatory : No Calculator : None Response Time : N.A Think Time : N.A Minimum Instruction Time : 0 Correct Marks : 1 Wrong Marks : 0

Which of the following statement is correct in your view?

ఈ క్రింది వాటిలో ఏది నీ దృష్టి లో సరియైనది?

Options :

Education is a product, not a process.

4699756249. ✘ విద్య ఒక ఉత్పత్తి కాని ప్రక్రియ కాదు

4699756250. ✔

As education is a purposeful activity, it must have clear aims and objectives.

విద్య ఒక ఉద్దేశ్య పూర్వకమైన కార్యాచరణ, అది ఖచ్చితమైన ఆశయాలు మరియు లక్ష్యాలు కలిగి ఉండాలి.

As aims are purposeful, they must be achieved at any cost

అశయాలు ఉద్దేశ్యపరమైనవి, వాటిని సాధించడం తప్పనిసరి

4699756251. ✘

Only objectives can be achieved, not the aims

కేవలం లక్ష్యాలు మాత్రమే సాధించబడతాయి, అశయాలు కాదు

4699756252. ✘

Question Number : 64 Question Id : 4699751574 Question Type : MCQ Option Shuffling : Yes Display Question Number : Yes Is Question Mandatory : No Calculator : None Response Time : N.A Think Time : N.A Minimum Instruction Time : 0

Correct Marks : 1 Wrong Marks : 0

Role – Play and dramatization help the students

పాత్రాభినయము మరియు నాటకీకరణము విద్యార్థులకు ఈ విధంగా ఉపయోగపడుతుంది

Options :

To develop leadership qualities

4699756253. ✘ నాయకత్వ లక్షణాలు పెంపొందించడానికి

To join politics in future.

4699756254. ✘ భవిష్యత్తులో రాజకీయాలలో చేరడానికి

to develop social skills.

4699756255. ✔ సామాజిక నైపుణ్యాలు పెంపొందించడానికి

to become cinema actors in future

4699756256. ✘ భవిష్యత్తులో సినిమాతారలు కావడానికి

Question Number : 65 Question Id : 4699751575 Question Type : MCQ Option Shuffling : Yes Display Question Number : Yes Is Question Mandatory : No Calculator : None Response Time : N.A Think Time : N.A Minimum Instruction Time : 0

Correct Marks : 1 Wrong Marks : 0

The purpose of CCE is -----

CCE యొక్క ఉద్దేశ్యము

Options :

Providing Grades instead of Ranks

4699756257. ✘ ర్యాంకులకు బదులుగా గ్రేడులు ఇవ్వడం

Marks should be converted into Grades, so that the stress among the students can be reduced

4699756258. ✘ మార్కులను గ్రేడుల రూపంలో మార్చడం వల్ల విద్యార్థులలో ఒత్తిడిని తగ్గించవచ్చు

There should not be any annual examinations.

వార్షిక పరీక్షలు ఏవీ ఉండకూడదు

4699756259. ✘

To have meaningful and holistic evaluation

అర్థవంతమైన మరియు సంపూర్ణమైన మూల్యాంకనము చేయడానికి

4699756260. ✔

Question Number : 66 Question Id : 4699751576 Question Type : MCQ Option Shuffling : Yes Display Question Number : Yes Is Question Mandatory : No Calculator : None Response Time : N.A Think Time : N.A Minimum Instruction Time : 0 Correct Marks : 1 Wrong Marks : 0

At Primary stage, Medium of instruction should be in mother tongue. It is because
ప్రాథమిక స్థాయిలో మాతృ భాషలో విద్యాబోధన జరగాలి ఎందుకనగా

Options :

Majority of parents are uneducated

4699756261. ✘ తల్లి దండ్రులలో అధికశాతం నిరక్షరాస్యులు

Primary teachers can teach effectively in mother tongue

4699756262. ✘ ప్రాథమిక స్థాయిలో ఉపాధ్యాయులు మాతృభాషలో ప్రభావవంతంగా బోధించగలరు

Children must learn mother tongue

4699756263. ✘ పిల్లలు తప్పనిసరిగా మాతృభాష నేర్చుకోవాలి

Children can learn concepts meaningfully in mother tongue

4699756264. ✔ పిల్లలు మాతృభాషలో భావనలను అర్థవంతంగా నేర్చుకోగలరు

Question Number : 67 Question Id : 4699751577 Question Type : MCQ Option Shuffling : Yes Display Question Number : Yes Is Question Mandatory : No Calculator : None Response Time : N.A Think Time : N.A Minimum Instruction Time : 0 Correct Marks : 1 Wrong Marks : 0

What do you understand about Collaborative Learning Approach?

సహకార అభ్యసన పద్ధతి అనగా నీవు ఏమి అర్థం చేసుకొన్నావు?

Options :

It is a group project, individual cannot act independently in it.

4699756265. ✘ ఇది ఒక సమూహ ప్రాజెక్ట్, ఇందులో వ్యక్తులు స్వతంత్రంగా వ్యవహరించ లేరు.

Children must learn in groups.

4699756266. ✘ విద్యార్థులు తప్పనిసరిగా సమూహములో అభ్యసన చేయాలి

4699756267. ✓

It involves all the children in a group, working together on shared learning tasks.
సమూహములో విద్యార్థులందరికి ప్రమేయం కల్పించబడుతుంది. అందరూ కలిసి అభ్యసనకు సంబంధించిన పనిని పూర్తి చేస్తారు

4699756268. ✘

If everyone in the group works on their part of task, the task will be completed soon.
ఒక సమూహంలోని వ్యక్తులందరూ తమ వంతు పని పూర్తి చేస్తే, తొందరగా పని పూర్తి అవుతుంది.

Question Number : 68 Question Id : 4699751578 Question Type : MCQ Option Shuffling : Yes Display Question Number : Yes Is Question Mandatory : No Calculator : None Response Time : N.A Think Time : N.A Minimum Instruction Time : 0 Correct Marks : 1 Wrong Marks : 0

If you become a teacher, you will
నీవు ఒక ఉపాధ్యాయునివి అయితే, నీవు

Options :

Be a good knowledge provider.

4699756269. ✘ ఒక మంచి జ్ఞానాన్ని అందజేసేవాడివి అవుతావు.

Maintain discipline in the classroom.

4699756270. ✘ తరగతి గదిలో క్రమ శిక్షణను పాటిస్తావు.

Help the dull students to complete their home work.

4699756271. ✘ మందకొడి విద్యార్థులకు వారి ఇంటిపని పూర్తి చేయుటలో సహకరించెదవు.

be a facilitator for students learning.

4699756272. ✓ విద్యార్థుల అభ్యసనకు సౌలభ్యచారిగా ఉండెదవు.

Question Number : 69 Question Id : 4699751579 Question Type : MCQ Option Shuffling : Yes Display Question Number : Yes Is Question Mandatory : No Calculator : None Response Time : N.A Think Time : N.A Minimum Instruction Time : 0 Correct Marks : 1 Wrong Marks : 0

Home assignments should always be
ఇంటి పని ఎల్లప్పుడూ ఈ విధంగా ఉండాలి

Options :

Easy. So that there should not be any pressure on children.

4699756273. ✘ సులభంగా ఉండాలి ఎందుకనగా విద్యార్థులపై ఒత్తిడి ఉండకూడదు.

Vast and it can help the students to pass the exams.

4699756274. ✘ విస్తారంగా ఉండి విద్యార్థులు పరీక్షలలో ఉత్తీర్ణులు అవడానికి సహకరించాలి.

Thought provoking and should help in self learning.

ఆలోచనలను పెంపొందించేదిగా ఉండి, స్వీయ అభ్యసనకు తోడ్పడాలి.

4699756275. ✓

Only activity based

కేవలం కృత్య ఆధారంగా ఉండాలి

4699756276. ✘

Question Number : 70 Question Id : 4699751580 Question Type : MCQ Option Shuffling : Yes Display Question Number : Yes Is Question Mandatory : No Calculator : None Response Time : N.A Think Time : N.A Minimum Instruction Time : 0 Correct Marks : 1 Wrong Marks : 0

What does dynamic environment of classroom mean?

గతిశీలమైన తరగతి గది వాతావరణము అనగా ఏమిటి ?

Options :

Students behavior always changes

విద్యార్థుల ప్రవర్తన ఎల్లప్పుడూ మార్పు చెందుతూ ఉంటుంది

4699756277. ✘

It is designed to meet the needs of all students in the class who come from different backgrounds with various learning abilities

వివిధ అభ్యసనా సామర్థ్యాలు మరియు వివిధ నేపథ్యాలు కలిగి ఉన్న విద్యార్థుల అవసరాలు

తీర్చే విధంగా రూపొందించబడింది.

4699756278. ✓

In class all the children are equally talented in all aspects

ఒక తరగతి లోని పిల్లలందరూ అన్ని విషయాలలో సమాన ప్రతిభావంతులై ఉంటారు

4699756279. ✘

Group dynamic of the classroom influence the teaching learning process

సమూహ గతి శీలతలు. బోధన అభ్యసన ప్రక్రియ ను ప్రభావితం చేస్తాయి.

4699756280. ✘

Question Number : 71 Question Id : 4699751581 Question Type : MCQ Option Shuffling : Yes Display Question Number : Yes Is Question Mandatory : No Calculator : None Response Time : N.A Think Time : N.A Minimum Instruction Time : 0 Correct Marks : 1 Wrong Marks : 0

SCERT stands for -----

యస్ సి ఇ ఆర్ టి యొక్క పూర్తి రూపం

Options :

State Centre for Educational Research and Training

స్టేట్ సెంటర్ ఫర్ ఎడ్యుకేషనల్ రీసెర్చ్ అండ్ ట్రైనింగ్

4699756281. ✘

State Committee for Educational Research for Teachers.

స్టేట్ కమిటీ ఫర్ ఎడ్యుకేషనల్ రీసెర్చ్ ఫర్ టీచర్స్

4699756282. ✘

State Council for Educational Research and Teaching.

4699756283. ✘ స్టేట్ కౌన్సిల్ ఫర్ ఎడ్యుకేషనల్ రీసెర్చ్ అండ్ టీచింగ్

State Council for Educational Research and Training

4699756284. ✔ స్టేట్ కౌన్సిల్ ఫర్ ఎడ్యుకేషనల్ రీసెర్చ్ అండ్ ట్రైనింగ్

Question Number : 72 Question Id : 4699751582 Question Type : MCQ Option Shuffling : Yes Display Question Number : Yes Is Question Mandatory : No Calculator : None Response Time : N.A Think Time : N.A Minimum Instruction Time : 0 Correct Marks : 1 Wrong Marks : 0

Which of these is the most important factor for classroom learning ?

తరగతి గదిలో అభ్యసనకు అన్నింటి కంటే ప్రధానమైన అంశము

Options :

Discipline

4699756285. ✘ క్రమశిక్షణ

Audio- Visual aids.

4699756286. ✘ దృశ్య - శ్రవణోపకరణాలు

Motivation

4699756287. ✔ ప్రేరణ

Physical facilities

4699756288. ✘ భౌతిక సౌకర్యాలు

Question Number : 73 Question Id : 4699751583 Question Type : MCQ Option Shuffling : Yes Display Question Number : Yes Is Question Mandatory : No Calculator : None Response Time : N.A Think Time : N.A Minimum Instruction Time : 0 Correct Marks : 1 Wrong Marks : 0

Attending workshops is ----

వర్క్ షాప్ లో పాల్గొనడం

Options :

Mandatory for achieving Promotion.

4699756289. ✘ పదోన్నతి పొందడానికి తప్పనిసరి

Important for Professional growth.

4699756290. ✔ వృత్తిలో ఎదుగుదలకు ప్రముఖమైనది

Waste of time
సమయం వృధా చేయడం

4699756291. ✖

Enjoying in the group
సమూహముతో సరదాగా గడపడం

4699756292. ✖

Question Number : 74 Question Id : 4699751584 Question Type : MCQ Option Shuffling : Yes Display Question Number : Yes Is Question Mandatory : No Calculator : None Response Time : N.A Think Time : N.A Minimum Instruction Time : 0 Correct Marks : 1 Wrong Marks : 0

When any social event is conducted in the school, you will
పాఠశాలలో ఏదైనా సామాజిక కార్యక్రమం నిర్వహించే సమయంలో, నీవు

Options :

Participate in the event
కార్య క్రమంలో పాల్గొంటావు

4699756293. ✔

Stay at home and complete the pending school work
ఇంటి దగ్గర ఉండి, మిగిలినపోయిన పాఠశాలపనిని పూర్తి చేస్తావు

4699756294. ✖

Engage the special classes to students.
విద్యార్థులకు ప్రత్యేక తరగతులు నిర్వహిస్తావు

4699756295. ✖

Spend valuable time with family.
కుటుంబముతో విలువైన సమయాన్ని గడుపుతావు.

4699756296. ✖

Question Number : 75 Question Id : 4699751585 Question Type : MCQ Option Shuffling : Yes Display Question Number : Yes Is Question Mandatory : No Calculator : None Response Time : N.A Think Time : N.A Minimum Instruction Time : 0 Correct Marks : 1 Wrong Marks : 0

Being a teacher you prefer to visit
ఒక ఉపాధ్యాయునిగా నీవు ఈ ప్రదేశమును సందర్శించడానికి ప్రాముఖ్యతనిస్తావు

Options :

Museum
వస్తుప్రదర్శన శాల

4699756297. ✖

Bookshop
పుస్తకముల దుకాణము

4699756298. ✖

Library

4699756299. ✓ గ్రంథాలయము

Temple

4699756300. ✘ దేవాలయము

Question Number : 76 Question Id : 4699751586 Question Type : MCQ Option Shuffling : Yes Display Question Number : Yes Is Question Mandatory : No Calculator : None Response Time : N.A Think Time : N.A Minimum Instruction Time : 0 Correct Marks : 1 Wrong Marks : 0

A competent teacher

ఒక సమర్థుడైన ఉపాధ్యాయుడు

Options :

Focuses more on brilliant students

4699756301. ✘ తెలివైన విద్యార్థులపై ఎక్కువ దృష్టి ఉంచును

Always uses Power Point to make the classroom teaching interesting.

4699756302. ✘ తరగతి గది బోధనను ఆసక్తికరంగా చేయడానికి ఎల్లప్పుడూ పవర్ పాయింట్ ను ఉపయోగించును.

Encourages the students to complete home assignment in the classroom.

4699756303. ✘ విద్యార్థులు తరగతి గదిలో ఇంటిపని పూర్తి చేయడానికి ప్రోత్సహించును

Involves each child to take active part in the class room learning.

4699756304. ✓ తరగతి గది అభ్యసనలో ప్రతి విద్యార్థి చురుకుగా పాల్గొనేటట్లు చేయును

Question Number : 77 Question Id : 4699751587 Question Type : MCQ Option Shuffling : Yes Display Question Number : Yes Is Question Mandatory : No Calculator : None Response Time : N.A Think Time : N.A Minimum Instruction Time : 0 Correct Marks : 1 Wrong Marks : 0

The text book should be

పాఠ్య పుస్తకము ఈ విధంగా ఉండాలి

Options :

Colorful and attractive

4699756305. ✘ రంగురంగులతో మరియు ఆకర్షణీయంగా ఉండాలి

Content oriented and should provide more information

4699756306. ✘ విషయ పరిజ్ఞానముతో కూడి, ఎక్కువ సమాచారము అందజేసేదిగా ఉండాలి.

Provide scope for learning beyond the text-book

4699756307. ✓ పాఠ్యపుస్తకమునకు మించి అభ్యసించడానికి వీలు కల్పించేదిగా ఉండాలి

A knowledge treasure

ఒక జ్ఞాన నిధిలాగా ఉండాలి

4699756308. ✘

Question Number : 78 Question Id : 4699751588 Question Type : MCQ Option Shuffling : Yes Display Question Number : Yes Is Question Mandatory : No Calculator : None Response Time : N.A Think Time : N.A Minimum Instruction Time : 0 Correct Marks : 1 Wrong Marks : 0

Which of the following statement is not true in your view.

ఈ క్రింది వాటిలో నీ దృష్టి లో ఏది సరియైనది కాదు

Options :

Good Teachers must be good communicators

4699756309. ✘ మంచి ఉపాధ్యాయులు ఎప్పుడూ మంచి ప్రసారకులై (బోధకులై) ఉండాలి

All the Teachers are good communicators.

4699756310. ✓ ఉపాధ్యాయులందరూ మంచి ప్రసారకులే (బోధకులే)

Learning is more important than teaching

4699756311. ✘ బోధనకంటే అభ్యసన ప్రాముఖ్యమైనది

Teacher should develop creativity among the students.

4699756312. ✘ ఉపాధ్యాయుడు విద్యార్థులలో సృజనాత్మకతను పెంపొందించడానికి కృషి చేయాలి.

Question Number : 79 Question Id : 4699751589 Question Type : MCQ Option Shuffling : Yes Display Question Number : Yes Is Question Mandatory : No Calculator : None Response Time : N.A Think Time : N.A Minimum Instruction Time : 0 Correct Marks : 1 Wrong Marks : 0

Student centric pedagogy refers to ----

విద్యార్థి కేంద్రీకృత బోధన దీనికి సంబంధించినది

Options :

Every student must be provided personal lap-top.

4699756313. ✘ ప్రతి విద్యార్థి కి వ్యక్తిగత లాప్ టాప్ ఇవ్వాలి.

Every student learns in his own way.

4699756314. ✘ ప్రతి విద్యార్థి తనదైన రీతిలో నేర్చుకుంటాడు.

Learner and learning environment is given more importance.

అభ్యాసకుడు మరియు అభ్యసన వాతావరణము నకు అధిక ప్రాధాన్యత ఇవ్వబడును.

4699756315. ✓

There is no need of any teacher in the classroom learning.

తరగతిగది అభ్యసనలో ఉపాధ్యాయుని అవసరం లేదు

4699756316. ✘

Question Number : 80 Question Id : 4699751590 Question Type : MCQ Option Shuffling : Yes Display Question Number : Yes Is Question Mandatory : No Calculator : None Response Time : N.A Think Time : N.A Minimum Instruction Time : 0

Correct Marks : 1 Wrong Marks : 0

Blended learning means

మిశ్రమ అభ్యసనం అనగా

Options :

Online Learning

ఆన్‌లైన్ అభ్యసనం

4699756317. ✘

Learning through Digital lessons in the classroom

తరగతి గది లో డిజిటల్ పాఠాల ద్వారా అభ్యసించడం

4699756318. ✘

Face to face learning

ముఖా ముఖి అభ్యసనం

4699756319. ✘

Providing both Online as well as Face to Face Learning Experiences.

ఆన్‌లైన్ తో పాటు ముఖాముఖి అభ్యసన అనుభవాలను కలుగజేయడం.

4699756320. ✓

General English

Section Id :	46997553
Section Number :	3
Section type :	Online
Mandatory or Optional :	Mandatory
Number of Questions :	16
Number of Questions to be attempted :	16
Section Marks :	20
Enable Mark as Answered Mark for Review and Clear Response :	Yes
Maximum Instruction Time :	0
Sub-Section Number :	1
Sub-Section Id :	46997563
Question Shuffling Allowed :	No
Is Section Default? :	null

Question Id : 4699751591 Question Type : COMPREHENSION Sub Question Shuffling Allowed : No Group Comprehension Questions : No Question Pattern Type : NonMatrix Calculator : None Response Time : N.A Think Time : N.A Minimum Instruction Time : 0

Question Numbers : (81 to 85)

Read the passage carefully and mark the correct answer for the questions 81-85

When Ramu was fifteen, he was a very intelligent and generous boy. He spent his day only reading, eating and sleeping. Other than that, he did not do anything. When the teachers of his class asked him any questions, he would answer it very immediately. He always kept himself away from social activities, but once when he was going to the school he saw a very old man begging on the roadside.

At first, he thought that he should stop there and ask him why he was begging because he was too old to do that instead he should rest. At the same time, he realized that if he stopped there he would be late for school.

He thought for a while and went to the old man. He saw that everyone was passing by him but no one was giving him alms. After seeing the incident, he took out twenty rupees from his pocket and gave them to the beggar. By doing that, he felt very good and reached the school gasping.

Sub questions

Question Number : 81 Question Id : 4699751592 Question Type : MCQ Option Shuffling : No Display Question Number : Yes Is Question Mandatory : No Calculator : None Response Time : N.A Think Time : N.A Minimum Instruction Time : 0 Correct Marks : 1 Wrong Marks : 0

How did Ramu spend his day?

Options :

4699756321. ✘ only doing social activities

4699756322. ✘ only eating and sleeping

4699756323. ✔ only reading, eating and sleeping

4699756324. ✘ only sleeping

Question Number : 82 Question Id : 4699751593 Question Type : MCQ Option Shuffling : No Display Question Number : Yes Is Question Mandatory : No Calculator : None Response Time : N.A Think Time : N.A Minimum Instruction Time : 0 Correct Marks : 1 Wrong Marks : 0

Who did Ramu see on his way to school?

Options :

4699756325. ✘ A poor man

4699756326. ✘ A sage

4699756327. ✘ A poor woman

4699756328. ✓ An old man

Question Number : 83 Question Id : 4699751594 Question Type : MCQ Option Shuffling : No Display Question Number : Yes Is Question Mandatory : No Calculator : None Response Time : N.A Think Time : N.A Minimum Instruction Time : 0 Correct Marks : 1 Wrong Marks : 0

What did Ramu want to ask old man?

Options :

4699756329. ✘ The reason for begging

4699756330. ✘ To eat healthy food

4699756331. ✘ To beg as much as he would

4699756332. ✓ To rest instead of begging

Question Number : 84 Question Id : 4699751595 Question Type : MCQ Option Shuffling : No Display Question Number : Yes Is Question Mandatory : No Calculator : None Response Time : N.A Think Time : N.A Minimum Instruction Time : 0 Correct Marks : 1 Wrong Marks : 0

How much money did Ramu give to the beggar?

Options :

4699756333. ✘ Five rupees

4699756334. ✘ Ten rupees

4699756335. ✘ Fifteen rupees

4699756336. ✓ Twenty rupees

Question Number : 85 Question Id : 4699751596 Question Type : MCQ Option Shuffling : No Display Question Number : Yes Is Question Mandatory : No Calculator : None Response Time : N.A Think Time : N.A Minimum Instruction Time : 0 Correct Marks : 1 Wrong Marks : 0

What is the synonym of gasp?

Options :

4699756337. ✘ Breath

4699756338. ✓ Heave

4699756339. ✘ Blow

4699756340. ✘ Inhale

Sub-Section Number : 2
Sub-Section Id : 46997564
Question Shuffling Allowed : Yes
Is Section Default? : null

Question Number : 86 Question Id : 4699751597 Question Type : MCQ Option Shuffling : Yes Display Question Number : Yes Is Question Mandatory : No Calculator : None Response Time : N.A Think Time : N.A Minimum Instruction Time : 0
Correct Marks : 1 Wrong Marks : 0

Select the proper prefix
Monthly

Options :

4699756341. ✓ bi

4699756342. ✗ bye

4699756343. ✗ anti

4699756344. ✗ over

Question Number : 87 Question Id : 4699751598 Question Type : MCQ Option Shuffling : Yes Display Question Number : Yes Is Question Mandatory : No Calculator : None Response Time : N.A Think Time : N.A Minimum Instruction Time : 0
Correct Marks : 1 Wrong Marks : 0

Find the correctly spelt word

Options :

4699756345. ✗ Reannaisance

4699756346. ✓ Renaissance

4699756347. ✗ Rennaissance

4699756348. ✗ Renaisance

Question Number : 88 Question Id : 4699751599 Question Type : MCQ Option Shuffling : Yes Display Question Number : Yes Is Question Mandatory : No Calculator : None Response Time : N.A Think Time : N.A Minimum Instruction Time : 0
Correct Marks : 1 Wrong Marks : 0

Fill in the blanks with suitable article

Where is Ram? He is in _____ bathroom

Options :

4699756349. ✗ a

4699756350. ✗ an

4699756351. ✓ the

4699756352. ✖ from

Question Number : 89 Question Id : 4699751600 Question Type : MCQ Option Shuffling : Yes Display Question Number : Yes Is Question Mandatory : No Calculator : None Response Time : N.A Think Time : N.A Minimum Instruction Time : 0 Correct Marks : 1 Wrong Marks : 0

It is _____ nice morning. Let us go for _____ walk

Options :

4699756353. ✔ a,a

4699756354. ✖ a,the

4699756355. ✖ a, an

4699756356. ✖ an, the

Question Number : 90 Question Id : 4699751601 Question Type : MCQ Option Shuffling : Yes Display Question Number : Yes Is Question Mandatory : No Calculator : None Response Time : N.A Think Time : N.A Minimum Instruction Time : 0 Correct Marks : 1 Wrong Marks : 0

Fill in the blanks with correct prepositions

Do not open the box _____ a knife

Options :

4699756357. ✔ with

4699756358. ✖ for

4699756359. ✖ at

4699756360. ✖ before

Question Number : 91 Question Id : 4699751602 Question Type : MCQ Option Shuffling : Yes Display Question Number : Yes Is Question Mandatory : No Calculator : None Response Time : N.A Think Time : N.A Minimum Instruction Time : 0 Correct Marks : 1 Wrong Marks : 0

Choose the correct synonym for the word underlined

Foreigner

Options :

4699756361. ✖ National

4699756362. ✖ Native

4699756363. ✔ Alien

4699756364. ✖ Local

Question Number : 92 Question Id : 4699751603 Question Type : MCQ Option Shuffling : Yes Display Question Number : Yes Is Question Mandatory : No Calculator : None Response Time : N.A Think Time : N.A Minimum Instruction Time : 0 Correct Marks : 1 Wrong Marks : 0

Choose the correct Antonym for the word underlined
What is an antonym for tame?

Options :

4699756365. ✖ familiar

4699756366. ✖ docile

4699756367. ✔ savage

4699756368. ✖ trained

Question Number : 93 Question Id : 4699751604 Question Type : MCQ Option Shuffling : Yes Display Question Number : Yes Is Question Mandatory : No Calculator : None Response Time : N.A Think Time : N.A Minimum Instruction Time : 0 Correct Marks : 1 Wrong Marks : 0

Fill in the blanks with phrasal verbs
Sorry I am late, my car _____ petrol

Options :

4699756369. ✖ ran out

4699756370. ✔ ran out of

4699756371. ✖ ran out on

4699756372. ✖ ran out in

Question Number : 94 Question Id : 4699751605 Question Type : MCQ Option Shuffling : Yes Display Question Number : Yes Is Question Mandatory : No Calculator : None Response Time : N.A Think Time : N.A Minimum Instruction Time : 0 Correct Marks : 1 Wrong Marks : 0

Identify the word that is spelled correctly

Options :

4699756373. ✖ occassional

4699756374. ✔ occasional

4699756375. ✖ ocassional

occasional

4699756376. ✖

Question Number : 95 Question Id : 4699751606 Question Type : MCQ Option Shuffling : Yes Display Question Number : Yes Is Question Mandatory : No Calculator : None Response Time : N.A Think Time : N.A Minimum Instruction Time : 0 Correct Marks : 1 Wrong Marks : 0

Add a question tag to the following statement
you didn't play tennis last week?

Options :

4699756377. ✔ did you

4699756378. ✖ didn't you

4699756379. ✖ aren't you

4699756380. ✖ haven't you

Question Number : 96 Question Id : 4699751607 Question Type : MCQ Option Shuffling : Yes Display Question Number : Yes Is Question Mandatory : No Calculator : None Response Time : N.A Think Time : N.A Minimum Instruction Time : 0 Correct Marks : 1 Wrong Marks : 0

Fill in the blanks with the most appropriate word

“ _____ you married ?

“ No, I _____ ”.

Options :

4699756381. ✖ Aren't / am

4699756382. ✖ Are / am

4699756383. ✖ Is / am not

4699756384. ✔ Are / 'm not

Question Number : 97 Question Id : 4699751608 Question Type : MCQ Option Shuffling : Yes Display Question Number : Yes Is Question Mandatory : No Calculator : None Response Time : N.A Think Time : N.A Minimum Instruction Time : 0 Correct Marks : 1 Wrong Marks : 0

Fill in the blanks with the appropriate words

Mountain and hills are a _____ sight I have always _____ to see them.

Options :

4699756385. ✖ extraordinary / advocated

4699756386. ✖ stupendous / encouraged

4699756387. ✖ loving / prepared

4699756388. ✔ fascinating / longed

Question Number : 98 Question Id : 4699751609 Question Type : MCQ Option Shuffling : Yes Display Question Number : Yes Is Question Mandatory : No Calculator : None Response Time : N.A Think Time : N.A Minimum Instruction Time : 0 Correct Marks : 1 Wrong Marks : 0

Find out the correct meaning of idiomatic expression “*To cry wolf*”

Options :

4699756389. ✔ To give false alarm

4699756390. ✖ To shout vehemently

4699756391. ✖ To turn pale

4699756392. ✖ To listen eagerly

Question Number : 99 Question Id : 4699751610 Question Type : MCQ Option Shuffling : Yes Display Question Number : Yes Is Question Mandatory : No Calculator : None Response Time : N.A Think Time : N.A Minimum Instruction Time : 0 Correct Marks : 1 Wrong Marks : 0

Choose the correct substitute for the following sentences :

A hater of knowledge and learning

Options :

4699756393. ✖ Bibliophile

4699756394. ✖ Philologist

4699756395. ✖ Misogynist

4699756396. ✔ Misologist

Question Number : 100 Question Id : 4699751611 Question Type : MCQ Option Shuffling : Yes Display Question Number : Yes Is Question Mandatory : No Calculator : None Response Time : N.A Think Time : N.A Minimum Instruction Time : 0 Correct Marks : 1 Wrong Marks : 0

Choose the correct sentence

Options :

4699756397. ✓ None of them is of much use in practical life

4699756398. ✘ None of they is of much use in practical life

4699756399. ✘ None of them is of very used in practical life

4699756400. ✘ None of them are of much use in practical life

General Knowledge and Educational Issues

Section Id :	46997554
Section Number :	4
Section type :	Online
Mandatory or Optional :	Mandatory
Number of Questions :	30
Number of Questions to be attempted :	30
Section Marks :	30
Enable Mark as Answered Mark for Review and Clear Response :	Yes
Maximum Instruction Time :	0
Sub-Section Number :	1
Sub-Section Id :	46997565
Question Shuffling Allowed :	Yes
Is Section Default? :	null

Question Number : 101 Question Id : 4699751612 Question Type : MCQ Option Shuffling : Yes Display Question Number : Yes Is Question Mandatory : No Calculator : None Response Time : N.A Think Time : N.A Minimum Instruction Time : 0 Correct Marks : 1 Wrong Marks : 0

Who is the scientist credited with coining the term nanotechnology?

నానోటెక్నాలజీ అనే పదాన్ని రూపొందించిన శాస్త్రవేత్త ఎవరు?

Options :

Feynman

ఫైన్మన్

4699756401. ✘

Eric Drexler

ఎరిక్ డ్రెక్లర్

4699756402. ✘

Norio Taniguchi

నోరియా తానిగుచి

4699756403. ✓

Robert Curl

రాబర్ట్ కర్ల్

4699756404. ✘

Question Number : 102 Question Id : 4699751613 Question Type : MCQ Option Shuffling : Yes Display Question Number : Yes Is

Question Mandatory : No Calculator : None Response Time : N.A Think Time : N.A Minimum Instruction Time : 0

Correct Marks : 1 Wrong Marks : 0

World Book Day is Celebrated on ____ ?

ప్రపంచ పుస్తక దినోత్సవం ____ న జరుపుకుంటారు?

Options :

23rd April

ఏప్రిల్ 23

4699756405. ✓

23rd May

మే 23

4699756406. ✘

23rd February

ఫిబ్రవరి 23

4699756407. ✘

23rd June

జూన్ 23

4699756408. ✘

Question Number : 103 Question Id : 4699751614 Question Type : MCQ Option Shuffling : Yes Display Question Number : Yes Is

Question Mandatory : No Calculator : None Response Time : N.A Think Time : N.A Minimum Instruction Time : 0

Correct Marks : 1 Wrong Marks : 0

Which of the following best describes about the term “Sindhuj-1”?

క్రింది వానిలో 'సింధూజ -1' అనే పదాన్ని ఉత్తమంగా వివరించేది ఏది ?

Options :

Controlling measures on Indus tributaries over illegal projects by Pakistan

సింధూనది ఉపనదులపై పాకిస్తాన్ అక్రమ ప్రాజెక్టు నియంత్రణ చర్యలు

4699756409. ✘

A wing of Food Corporation of India, to identify geographical indications

భౌగోళిక సూచనలను గుర్తించడానికి ఫుడ్ కార్పొరేషన్ ఆఫ్ ఇండియా యొక్క విభాగం

4699756410. ✘

To prevent the flow of Sutlej over Tibetan Plateau

టిబెట్ పీఠభూమి మీదుగా సట్లెజ్ నది ప్రవాహ నివారణ చర్యలు

4699756411. ✘

Ocean wave energy converter Project

సముద్రపు అలల నుండి విద్యుత్తును ఉత్పత్తి చేసే ప్రాజెక్ట్

4699756412. ✓

Question Number : 104 Question Id : 4699751615 Question Type : MCQ Option Shuffling : Yes Display Question Number : Yes Is

Question Mandatory : No Calculator : None Response Time : N.A Think Time : N.A Minimum Instruction Time : 0

Correct Marks : 1 Wrong Marks : 0

“Forks in the Road: My Days at RBI and Beyond” is the book written by

“Forks in the Road : My Days at RBI and Beyond” పుస్తక రచయిత

Options :

4699756413. ✓ C. Rangarajan
సి. రంగరాజన్

4699756414. ✗ Bimal Jalan
బిమల్ జలాన్

4699756415. ✗ Raghuram Rajan
రఘురాం రాజన్

4699756416. ✗ Urjit Patel
ఉర్జిత్ పటేల్

Question Number : 105 Question Id : 4699751616 Question Type : MCQ Option Shuffling : Yes Display Question Number : Yes Is
Question Mandatory : No Calculator : None Response Time : N.A Think Time : N.A Minimum Instruction Time : 0
Correct Marks : 1 Wrong Marks : 0

Which of the following country is not a member of G-20?

క్రింది వాటిలో G-20 లో సభ్యత్వం లేని దేశం ఏది?

Options :

4699756417. ✗ Turkey
టర్కీ

4699756418. ✓ Iran
ఇరాన్

4699756419. ✗ Indonesia
ఇండోనేషియా

4699756420. ✗ Saudi Arabia
సౌదీ అరేబియా

Question Number : 106 Question Id : 4699751617 Question Type : MCQ Option Shuffling : Yes Display Question Number : Yes Is
Question Mandatory : No Calculator : None Response Time : N.A Think Time : N.A Minimum Instruction Time : 0
Correct Marks : 1 Wrong Marks : 0

Operation AAHT was a nationwide campaign to curb _____

అపరేషన్ AAHT _____ ను అరికట్టడానికి దేశ వ్యాప్తంగా ప్రచారం చేయబడింది

Options :

4699756421. ✖ Suicides on railway tracks
రైల్వే ట్రాక్ లపై ఆత్మ హత్యలు

4699756422. ✖ Corruption in Railways
రైల్వేలో అవినీతి

4699756423. ✔ Human trafficking
మానవ అక్రమ రవాణా

4699756424. ✖ Violence against women
మహిళలపై హింస

Question Number : 107 Question Id : 4699751618 Question Type : MCQ Option Shuffling : Yes Display Question Number : Yes Is
Question Mandatory : No Calculator : None Response Time : N.A Think Time : N.A Minimum Instruction Time : 0
Correct Marks : 1 Wrong Marks : 0

What is the full form of GPT in Chat GPT?
Chat GPT లో GPT పూర్తి రూపం

Options :

4699756425. ✖ Gigantic Performance Technology
జైగాంటిక్ పర్ఫామెన్స్ టెక్నాలజి

4699756426. ✔ Generative Pre-trained Transformer
జనరేటివ్ ప్రీ-ట్రైన్డ్ ట్రాన్స్ఫార్మర్

4699756427. ✖ Global Precision Technology
గ్లోబల్ ప్రెసిషన్ టెక్నాలజి

4699756428. ✖ Grossly Plagiarized Text
గ్రాస్లి ప్లాగరైజ్డ్ టెక్స్ట్

Question Number : 108 Question Id : 4699751619 Question Type : MCQ Option Shuffling : Yes Display Question Number : Yes Is
Question Mandatory : No Calculator : None Response Time : N.A Think Time : N.A Minimum Instruction Time : 0
Correct Marks : 1 Wrong Marks : 0

What is the name of the easternmost point of India?
భారతదేశపు తూర్పు వైపు న గల చిట్టచివరి ప్రాంతం

Options :

4699756429. ✖ Dibrugarh
దిబ్రుఘర్

Mawsynram

మాసిన్రాం

4699756430. ✖

Cherrapunji

చిరపుంజి

4699756431. ✖

Kibithu

కిబితు

4699756432. ✔

Question Number : 109 Question Id : 4699751620 Question Type : MCQ Option Shuffling : Yes Display Question Number : Yes Is Question Mandatory : No Calculator : None Response Time : N.A Think Time : N.A Minimum Instruction Time : 0 Correct Marks : 1 Wrong Marks : 0

Identify the person who did not receive Nobel Prize 2022

క్రింది వారి లో నోబెల్ బహుమతి 2022 గ్రహిత కాని వారిని గుర్తించండి

Options :

Annie Ernaux

అన్నే ఎర్నాక్స్

4699756433. ✔

Alain Aspect

అలైన్ యాస్పెక్ట్

4699756434. ✖

Anton Zeilinger

అంటోన్ జైలింగర్

4699756435. ✖

John F. Clauser

జాన్ F. క్లౌసర్

4699756436. ✖

Question Number : 110 Question Id : 4699751621 Question Type : MCQ Option Shuffling : Yes Display Question Number : Yes Is Question Mandatory : No Calculator : None Response Time : N.A Think Time : N.A Minimum Instruction Time : 0 Correct Marks : 1 Wrong Marks : 0

Recently, which of the following countries has unveiled the indoor super City "The Mukaab"?

ఇటీవల క్రింది వాటిలో ఏ దేశం ఇండోర్ సూపర్ సిటీ 'ది ముకాబ్' ని అవిష్కరించింది?

Options :

UAE

యు.ఎ.ఇ

4699756437. ✖

QATAR

ఖతార్

4699756438. ✖

Saudi Arabia

4699756439. ✓

సౌదీ అరేబియా

Oman

ఓమన్

4699756440. ✘

Question Number : 111 Question Id : 4699751622 Question Type : MCQ Option Shuffling : Yes Display Question Number : Yes Is Question Mandatory : No Calculator : None Response Time : N.A Think Time : N.A Minimum Instruction Time : 0 Correct Marks : 1 Wrong Marks : 0

In which district of Telangana Domakonda fort is located?

దోమకొండ కోట తెలంగాణ లోని ఏ జిల్లాలో ఉంది?

Options :

Nizamabad

4699756441. ✘

నిజామాబాద్

Nirmal

4699756442. ✘

నిర్మల్

Rajanna Sircilla

4699756443. ✘

రాజన్న సిరిసిల్లా

Kamareddy

4699756444. ✓

కామారెడ్డి

Question Number : 112 Question Id : 4699751623 Question Type : MCQ Option Shuffling : Yes Display Question Number : Yes Is Question Mandatory : No Calculator : None Response Time : N.A Think Time : N.A Minimum Instruction Time : 0 Correct Marks : 1 Wrong Marks : 0

Identify the person who did not receive Padma Award 2023

క్రింది వారిలో పద్మా అవార్డు 2023 గ్రహీత కాని వారిని గుర్తించండి

Options :

Shri Balakrishna Doshi

4699756445. ✘

శ్రీ బాలకృష్ణ దోషి

Shri S.M. Krishna

4699756446. ✓

శ్రీ యస్. యమ్. కృష్ణ

Shri Dilip Mahalanabis

4699756447. ✘

శ్రీ దిలీప్ మహాలనాబిస్

Shri Mulayam Singh Yadav

4699756448. ✖ శ్రీ ములాయం సింగ్ యాదవ్

Question Number : 113 Question Id : 4699751624 Question Type : MCQ Option Shuffling : Yes Display Question Number : Yes Is Question Mandatory : No Calculator : None Response Time : N.A Think Time : N.A Minimum Instruction Time : 0 Correct Marks : 1 Wrong Marks : 0

Which one of the following is the recent GI tag from Telangana?

క్రింది వానిలో ఇటీవల కాలంలో తెలంగాణలో గుర్తింపు పొందిన భౌగోళిక సూచిక (GI) ఏది?

Options :

Adilabad Dokra

4699756449. ✖ ఆదిలాబాద్ డొక్రా

Warangal Durries

4699756450. ✖ వరంగల్ దుర్రిలు

Nirmal Paintings

4699756451. ✖ నిర్మల్ పెయింటింగ్లు

Tandur Red Gram

4699756452. ✔ తాండూర్ కంది పప్పు

Question Number : 114 Question Id : 4699751625 Question Type : MCQ Option Shuffling : Yes Display Question Number : Yes Is Question Mandatory : No Calculator : None Response Time : N.A Think Time : N.A Minimum Instruction Time : 0 Correct Marks : 1 Wrong Marks : 0

In Feb-2023, Where did Prime Minister Shri Narendra Modi inaugurated “Arabic Academy”?

ఫిబ్రవరి 2023 లో ప్రధాని నరేంద్రమోడి ఏ నగరంలో ‘ అరబిక్ అకాడమీ’ ని ప్రారంభించారు?

Options :

Mumbai

4699756453. ✔ ముంబాయి

Ahmedabad

4699756454. ✖ అహ్మదాబాద్

Lucknow

4699756455. ✖ లక్నో

New Delhi

4699756456. ✖ న్యూ డిల్లీ

Question Number : 115 Question Id : 4699751626 Question Type : MCQ Option Shuffling : Yes Display Question Number : Yes Is Question Mandatory : No Calculator : None Response Time : N.A Think Time : N.A Minimum Instruction Time : 0 Correct Marks : 1 Wrong Marks : 0

What is the motto of the Telangana State Industrial policy?

తెలంగాణ రాష్ట్ర పారిశ్రామిక సంస్థ యొక్క నినాదం

Options :

4699756457. ✘ In Telangana- Innovate, Regulate, Incorporate
తెలంగాణలో - అవిష్కరించు, నియంత్రించు, పొందుపర్చు
4699756458. ✘ In Telangana- Innovate, Incubate, Regulate
తెలంగాణలో - అవిష్కరించు, రూపుదిద్దు, నియంత్రించు
4699756459. ✔ In Telangana- Innovate, Incubate, Incorporate
తెలంగాణలో - అవిష్కరించు, రూపుదిద్దు, పొందుపర్చు
4699756460. ✘ In Telangana- Informate, Regulate, Incorporate
తెలంగాణలో - సమాచారం కల్పించు, నియంత్రించు, పొందుపర్చు

Question Number : 116 Question Id : 4699751627 Question Type : MCQ Option Shuffling : Yes Display Question Number : Yes Is Question Mandatory : No Calculator : None Response Time : N.A Think Time : N.A Minimum Instruction Time : 0 Correct Marks : 1 Wrong Marks : 0

National Sports University was established in which State?

జాతీయ క్రీడా విశ్వవిద్యాలయం ఏ రాష్ట్రంలో స్థాపించబడింది?

Options :

4699756461. ✘ Haryana
హర్యానా
4699756462. ✘ Punjab
పంజాబ్
4699756463. ✔ Manipur
మణిపూర్
4699756464. ✘ Mizoram
మిజోరం

Question Number : 117 Question Id : 4699751628 Question Type : MCQ Option Shuffling : Yes Display Question Number : Yes Is Question Mandatory : No Calculator : None Response Time : N.A Think Time : N.A Minimum Instruction Time : 0 Correct Marks : 1 Wrong Marks : 0

Which state started the 'Puduman Penn' Scheme that involves the distribution of Scholarship amount of Rs.1,000/- per month to girls students pursuing their higher studies after completing their schooling at a government school?

ప్రభుత్వ పాఠశాలలో పాఠశాల విద్యను పూర్తి చేసిన తర్వాత ఉన్నత చదువులు చదివే బాలికలకు

నెలకు రూ. 1,000/- స్కాలర్‌షిప్ మొత్తాన్ని పంపిణీ చేసే 'పుదుమాన్ పెన్' పథకాన్ని ఏ రాష్ట్రం ప్రారంభించింది?

Options :

Kerala

4699756465. ✘ కేరళ

Karnataka

4699756466. ✘ కర్ణాటక

Pondicherry

4699756467. ✘ పాండిచ్చేరి

Tamilnadu

4699756468. ✔ తమిళనాడు

Question Number : 118 Question Id : 4699751629 Question Type : MCQ Option Shuffling : Yes Display Question Number : Yes Is Question Mandatory : No Calculator : None Response Time : N.A Think Time : N.A Minimum Instruction Time : 0

Correct Marks : 1 Wrong Marks : 0

Which University will soon get "heritage" recognition from UNESCO?

యునెస్కో నుండి ఏ విశ్వవిద్యాలయం త్వరలో వారసత్వ గుర్తింపు పొందనుంది?

Options :

IIT (Kharagpur)

4699756469. ✘ IIT (ఖరగ్‌పూర్)

IISc Bengaluru

4699756470. ✘ IISc బెంగళూరు

Visva Bharati University

4699756471. ✔ విశ్వభారతి విశ్వవిద్యాలయం

Banaras Hindu University

4699756472. ✘ బెనారస్ హిందూ విశ్వవిద్యాలయం

Question Number : 119 Question Id : 4699751630 Question Type : MCQ Option Shuffling : Yes Display Question Number : Yes Is Question Mandatory : No Calculator : None Response Time : N.A Think Time : N.A Minimum Instruction Time : 0

Correct Marks : 1 Wrong Marks : 0

Which state government launched the School of Eminence project in January 2023?

ఏ రాష్ట్రంలో జనవరి 2023 లో ' స్కూల్ ఆఫ్ ఎమినెన్స్ ప్రాజెక్ట్‌ను ప్రారంభించింది?

Options :

Punjab

4699756473. ✓ పంజాబ్

Haryana

4699756474. ✘ హర్యానా

Goa

4699756475. ✘ గోవా

West Bengal

4699756476. ✘ పశ్చిమ బెంగాల్

Question Number : 120 Question Id : 4699751631 Question Type : MCQ Option Shuffling : Yes Display Question Number : Yes Is Question Mandatory : No Calculator : None Response Time : N.A Think Time : N.A Minimum Instruction Time : 0

Correct Marks : 1 Wrong Marks : 0

Which IIT has developed a special mattress based on artificial intelligence to detect physical and mental developmental defects in infants?

శిశువులలో శారీరక మరియు మానసిక ఎదుగుదల లోపాలను గుర్తించేందుకు కృత్రిమ

మేధస్సు ఆధారిత ప్రత్యేక పరుపును ఏ IIT అభివృద్ధి చేసింది?

Options :

IIT-Madras

4699756477. ✘ ఐ.ఐ.టి- మద్రాస్

IIT-Hyderabad

4699756478. ✓ ఐ.ఐ.టి- హైదరాబాద్

IIT-Mumbai

4699756479. ✘ ఐ.ఐ.టి-ముంబై

IIT-Kanpur

4699756480. ✘ ఐ.ఐ.టి- కాన్పూర్

Question Number : 121 Question Id : 4699751632 Question Type : MCQ Option Shuffling : Yes Display Question Number : Yes Is Question Mandatory : No Calculator : None Response Time : N.A Think Time : N.A Minimum Instruction Time : 0

Correct Marks : 1 Wrong Marks : 0

Who received the Padma Shri award from Telangana State in the category of literature and education for the year 2023?

2023 సంవత్సరానికి సాహిత్యం మరియు విద్య విభాగంలో తెలంగాణ రాష్ట్రం నుండి పద్మశ్రీ అవార్డును అందుకున్న వ్యక్తి ఎవరు?

Options :

Modadugu Vijay Gupta

4699756481. ✘ మోదదుగు విజయ్ గుప్తా

Hanumantha Rao Pasupuleti

4699756482. ✘ హనుమంతురావు

B Ramakrishna Reddy

4699756483. ✔ బి. రామకృష్ణారెడ్డి

Chinna Jeeyar Swami

4699756484. ✘ చిన్న జీయర్ స్వామి

Question Number : 122 Question Id : 4699751633 Question Type : MCQ Option Shuffling : Yes Display Question Number : Yes Is Question Mandatory : No Calculator : None Response Time : N.A Think Time : N.A Minimum Instruction Time : 0 Correct Marks : 1 Wrong Marks : 0

Which of the following is related to Sustainable Development Goals?

కింది వాటిలో సుస్థిరరాభివృద్ధి కి సంబంధించినది ఏది?

Options :

12 Goals, 196 targets

4699756485. ✘ 12 గమ్యాలు, 196 లక్ష్యాలు

12 Goals, 169 targets

4699756486. ✘ 12 గమ్యాలు, 169 లక్ష్యాలు

17 Goals, 169 targets

4699756487. ✘ 17 గమ్యాలు, 169 లక్ష్యాలు

17 Goals, 196 targets

4699756488. ✔ 17 గమ్యాలు, 196 లక్ష్యాలు

Question Number : 123 Question Id : 4699751634 Question Type : MCQ Option Shuffling : Yes Display Question Number : Yes Is Question Mandatory : No Calculator : None Response Time : N.A Think Time : N.A Minimum Instruction Time : 0 Correct Marks : 1 Wrong Marks : 0

What is the full form of NIRF, an Indian approach for ranking higher education institutes?

భారతదేశంలోని ఉన్నత విద్యా సంస్థలకు ర్యాంకులను ఇచ్చే పద్ధతి అయిన NIRF యొక్క పూర్తి రూపం ఏమిటి?

Options :

National Institute of Research Framework

4699756489. ✘ నేషనల్ ఇనిస్టిట్యూట్ ఆఫ్ రిసెర్చ్ ఫ్రేమ్వర్క్

National Institutional Ranking Framework

4699756490. ✔ నేషనల్ ఇనిస్టిట్యూషనల్ ర్యాంకింగ్ ఫ్రేమ్వర్క్

National and International Ranking Framework

4699756491. ✘ నేషనల్ అండ్ ఇంటర్నేషనల్ ర్యాంకింగ్ ఫ్రేమ్వర్క్

National Institute of Research Funding

4699756492. ✘ నేషనల్ ఇనిస్టిట్యూట్ ఆఫ్ రిసెర్చ్ ఫండింగ్

Question Number : 124 Question Id : 4699751635 Question Type : MCQ Option Shuffling : Yes Display Question Number : Yes Is Question Mandatory : No Calculator : None Response Time : N.A Think Time : N.A Minimum Instruction Time : 0 Correct Marks : 1 Wrong Marks : 0

Identify the committee/(s) that are related to National Education Policy-2020.

జాతీయ విద్యా విధానం -2020 కి సంబంధించిన కమిటీ లను గుర్తించండి

Options :

Kasturi Rangan Committee and Justice Verma Committee

4699756493. ✘ కస్తూరి రంగన్ కమిటీ మరియు జస్టిస్ వర్మ కమిటీ

Kasturi Rangan Committee and Ramaswamy Committee

4699756494. ✘ కస్తూరి రంగన్ కమిటీ మరియు రామాస్వామీ కమిటీ

Kasturi Rangan Committee and TSR Subramanian Committee

4699756495. ✔ కస్తూరి రంగన్ కమిటీ మరియు TSR సుబ్రహ్మణ్యన్ కమిటీ

Kasturi Rangan Committee and NK Singh Committee

4699756496. ✘ కస్తూరి రంగన్ కమిటీ మరియు NK సింగ్ కమిటీ

Question Number : 125 Question Id : 4699751636 Question Type : MCQ Option Shuffling : Yes Display Question Number : Yes Is Question Mandatory : No Calculator : None Response Time : N.A Think Time : N.A Minimum Instruction Time : 0 Correct Marks : 1 Wrong Marks : 0

Which one of the following countries hosted the World Hindi Conference 2023?

కింది వాటిలో ఏ దేశం ప్రపంచ హిందీ సదస్సు 2023 కి ఆతిథ్యం ఇచ్చింది?

Options :

Fiji

4699756497. ✓ ఫిజి

Hawaii

4699756498. ✗ హవాయి

Malaysia

4699756499. ✗ మలేసియా

Singapore

4699756500. ✗ సింగపూర్

Question Number : 126 Question Id : 4699751637 Question Type : MCQ Option Shuffling : Yes Display Question Number : Yes Is Question Mandatory : No Calculator : None Response Time : N.A Think Time : N.A Minimum Instruction Time : 0

Correct Marks : 1 Wrong Marks : 0

UGC Portal e-SARTS is ____

UGC పోర్టల్ e-SARTS అనగా

Options :

Special Assistance for Research in Technology and Sciences

4699756501. ✗ స్పెషల్ అసిస్టెన్స్ ఫర్ రిసెర్చ్ ఇన్ టెక్నాలజి అండ్ సైన్సెస్

Special Assistance for Research and Training in Sciences

4699756502. ✗ స్పెషల్ అసిస్టెన్స్ ఫర్ రిసెర్చ్ అండ్ ట్రైనింగ్ ఇన్ సైన్సెస్

Scholarship-fellowship Award Registration Tracking System

4699756503. ✓ స్కాలర్షిప్ ఫెలోషిప్ అవార్డ్ రిజిస్ట్రేషన్ ట్రాకింగ్ సిస్టమ్

Support for Academic and Research Training in Social Sciences

4699756504. ✗ సపోర్ట్ ఫర్ అకాడమిక్ అండ్ రిసెర్చ్ ట్రైనింగ్ ఇన్ సోషల్ సైన్సెస్

Question Number : 127 Question Id : 4699751638 Question Type : MCQ Option Shuffling : Yes Display Question Number : Yes Is Question Mandatory : No Calculator : None Response Time : N.A Think Time : N.A Minimum Instruction Time : 0

Correct Marks : 1 Wrong Marks : 0

Who is a 'Child' as per POCSO Act?

పొక్సో చట్టం ప్రకారం పిల్లలు /బాలలు ఎవరు?

Options :

Anyone below 12 Years of age

4699756505. ✘ 12 సంవత్సరాల కంటే తక్కువ వయస్సు ఉన్న ఎవరైనా

Anyone below 14 Years of age

4699756506. ✘ 14 సంవత్సరాల కంటే తక్కువ వయస్సు ఉన్న ఎవరైనా

Anyone below 16 Years of age

4699756507. ✘ 16 సంవత్సరాల కంటే తక్కువ వయస్సు ఉన్న ఎవరైనా

Anyone below 18 Years of age

4699756508. ✔ 18 సంవత్సరాల కంటే తక్కువ వయస్సు ఉన్న ఎవరైనా

Question Number : 128 Question Id : 4699751639 Question Type : MCQ Option Shuffling : Yes Display Question Number : Yes Is Question Mandatory : No Calculator : None Response Time : N.A Think Time : N.A Minimum Instruction Time : 0 Correct Marks : 1 Wrong Marks : 0

What is the Rank of India in International Intellectual Property Index 2023?

అంతర్జాతీయ మేథోసంపత్తి సూచిక 2023 లో భారతదేశం యొక్క ర్యాంక్ ఎంత ?

Options :

40th

4699756509. ✘ 40 వ

42nd

4699756510. ✔ 42 వ

44th

4699756511. ✘ 44 వ

46th

4699756512. ✘ 46 వ

Question Number : 129 Question Id : 4699751640 Question Type : MCQ Option Shuffling : Yes Display Question Number : Yes Is Question Mandatory : No Calculator : None Response Time : N.A Think Time : N.A Minimum Instruction Time : 0 Correct Marks : 1 Wrong Marks : 0

In India, every year National Education Day is observed on

భారత దేశంలో ప్రతి సంవత్సరం జాతీయ విద్యా దినోత్సవము ఏ రోజున జరుపుకుంటారు

Options :

5th October

అక్టోబర్ 5

4699756513. ✘

10th December

డిసెంబర్ 10

4699756514. ✘

11th November

నవంబర్ 11

4699756515. ✔

15th March

మార్చి 15

4699756516. ✘

Question Number : 130 Question Id : 4699751641 Question Type : MCQ Option Shuffling : Yes Display Question Number : Yes Is Question Mandatory : No Calculator : None Response Time : N.A Think Time : N.A Minimum Instruction Time : 0 Correct Marks : 1 Wrong Marks : 0

Mana Ooru-Mana Badi, Mana Basti – Mana Badi programme was launched from which district?

మన ఊరు - మన బడి, మన బస్తీ - మన బడి' కార్యక్రమం ఏ జిల్లా నుండి ప్రారంభించబడింది?

Options :

Medak

మెదక్

4699756517. ✘

Wanaparthi

వనపర్తి

4699756518. ✔

Nagarkurnool

నాగర్ కర్నూల్

4699756519. ✘

Jogulamba Gadwal

జోగులాంబ గద్వాల

4699756520. ✘

Computer Awareness

Section Id :	46997555
Section Number :	5
Section type :	Online
Mandatory or Optional :	Mandatory
Number of Questions :	20
Number of Questions to be attempted :	20

Section Marks :	20
Enable Mark as Answered Mark for Review and Clear Response :	Yes
Maximum Instruction Time :	0
Sub-Section Number :	1
Sub-Section Id :	46997566
Question Shuffling Allowed :	Yes
Is Section Default? :	null

Question Number : 131 Question Id : 4699751642 Question Type : MCQ Option Shuffling : Yes Display Question Number : Yes Is Question Mandatory : No Calculator : None Response Time : N.A Think Time : N.A Minimum Instruction Time : 0 Correct Marks : 1 Wrong Marks : 0

What is the primary function of a computer?

కంప్యూటర్ యొక్క ముఖ్యమైన విధి ఏమిటి?

Options :

4699756521. ✓ To process information
సమాచారాన్ని ఒక పద్ధతి లో రూపొందించుటకు

4699756522. ✘ To make phone calls
ఫోను చేయుటకు

4699756523. ✘ To play games
ఆటలాడుటకు

4699756524. ✘ To watch movies
సినిమాలు చూచుటకు

Question Number : 132 Question Id : 4699751643 Question Type : MCQ Option Shuffling : Yes Display Question Number : Yes Is Question Mandatory : No Calculator : None Response Time : N.A Think Time : N.A Minimum Instruction Time : 0 Correct Marks : 1 Wrong Marks : 0

Which of the following is not an input device?

క్రింది వాటిలో ఇన్పుట్ పరికరం కానిది ఏది?

Options :

4699756525. ✘ Keyboard
కీబోర్డు

4699756526. ✘ Mouse
మౌస్

4699756527. ✓ Monitor
మానిటర్

Scanner
స్కానర్

4699756528. ✖

Question Number : 133 Question Id : 4699751644 Question Type : MCQ Option Shuffling : Yes Display Question Number : Yes Is Question Mandatory : No Calculator : None Response Time : N.A Think Time : N.A Minimum Instruction Time : 0 Correct Marks : 1 Wrong Marks : 0

Which of the following is not a storage device?

క్రింది వాటి లో నిల్వ చేసే పరికరం కానిది ఏది ?

Options :

Hard disk drive

4699756529. ✖ హార్డ్ డిస్క్ డ్రైవ్

USB flash drive

4699756530. ✖ యు ఎస్ బి ఫ్లాష్ డ్రైవ్

RAM

4699756531. ✓ రాండమ్ ఎక్సెస్ మెమరీ

CD-ROM

4699756532. ✖ కాంపెక్ట్ డిస్క్ రీడ్ ఓన్లీ మెమరీ

Question Number : 134 Question Id : 4699751645 Question Type : MCQ Option Shuffling : Yes Display Question Number : Yes Is Question Mandatory : No Calculator : None Response Time : N.A Think Time : N.A Minimum Instruction Time : 0 Correct Marks : 1 Wrong Marks : 0

Which of the following components is responsible for executing instructions in a computer?

కంప్యూటర్ లో సూచనలను అమలు చేసే భాగం ఏది

Options :

CPU

4699756533. ✓ సెంట్రల్ ప్రొసెసింగ్ యూనిట్

MMU

4699756534. ✖ మెమరీ మేనేజ్మెంట్ యూనిట్

RAM

4699756535. ✖ రాండమ్ యక్సెస్ మెమరీ

HDD

4699756536. ✖ హార్డ్ డిస్క్ డ్రైవ్

Question Number : 135 Question Id : 4699751646 Question Type : MCQ Option Shuffling : Yes Display Question Number : Yes Is Question Mandatory : No Calculator : None Response Time : N.A Think Time : N.A Minimum Instruction Time : 0 Correct Marks : 1 Wrong Marks : 0

What kind of data is processed by an analog computer?

అనలాగ్ కంప్యూటర్ ఏ రకమైన దత్తాంశాన్ని విశ్లేషిస్తుంది.

Options :

Continuously varying data
నిరంతరం మారుతున్న దత్తాంశము
4699756537. ✓

Discrete data
వివిక్త (discrete) దత్తాంశము
4699756538. ✘

Intermittent data
ఇంటర్మిట్టెంట్ దత్తాంశము
4699756539. ✘

Discretely varying data
మారుతున్న వివిక్త (discrete) దత్తాంశము
4699756540. ✘

Question Number : 136 Question Id : 4699751647 Question Type : MCQ Option Shuffling : Yes Display Question Number : Yes Is Question Mandatory : No Calculator : None Response Time : N.A Think Time : N.A Minimum Instruction Time : 0 Correct Marks : 1 Wrong Marks : 0

What is the purpose of a firewall?

ఫైర్‌వాల్ యొక్క ప్రయోజనం ఏమిటి?

Options :

To protect against unauthorized access
అనధికార ప్రవేశానికి వ్యతిరేకంగా రక్షించడం
4699756541. ✓

To clean the computer screen
కంప్యూటర్ తెరను శుభ్రం చేయడం
4699756542. ✘

To improve computer performance
కంప్యూటర్ యొక్క సామర్థ్యాన్ని పెంచడం
4699756543. ✘

To store data
దత్తాంశాన్ని నిల్వపరచడం
4699756544. ✘

Question Number : 137 Question Id : 4699751648 Question Type : MCQ Option Shuffling : Yes Display Question Number : Yes Is Question Mandatory : No Calculator : None Response Time : N.A Think Time : N.A Minimum Instruction Time : 0 Correct Marks : 1 Wrong Marks : 0

Which of the following is an example of a web browser?

వెబ్ బ్రౌజర్ కి ఉదాహరణ ఏది?

Options :

4699756545. ✓ Firefox
ఫైర్ ఫాక్స్

4699756546. ✘ Excel
ఎక్సెల్

4699756547. ✘ PowerPoint
పవర్ పాయింట్

4699756548. ✘ Photoshop
ఫోటోషాప్

Question Number : 138 Question Id : 4699751649 Question Type : MCQ Option Shuffling : Yes Display Question Number : Yes Is Question Mandatory : No Calculator : None Response Time : N.A Think Time : N.A Minimum Instruction Time : 0

Correct Marks : 1 Wrong Marks : 0

What does the acronym USB stand for?

యు.ఎస్.బి పూర్తి రూపం?

Options :

4699756549. ✘ Uninterruptible Supply Box
అన్ ఇంటరప్టబుల్ సప్లై బాక్స్

4699756550. ✘ United States of America Broadcasting
యునైటెడ్ స్టేట్స్ ఆఫ్ అమెరికా బ్రాడ్కాస్టింగ్

4699756551. ✘ Ultrasonic Sound Booster
అల్ట్రాసోనిక్ సౌండ్ బూస్టర్

4699756552. ✓ Universal Serial Bus
యునివర్సల్ సిరియల్ బస్

Question Number : 139 Question Id : 4699751650 Question Type : MCQ Option Shuffling : Yes Display Question Number : Yes Is Question Mandatory : No Calculator : None Response Time : N.A Think Time : N.A Minimum Instruction Time : 0

Correct Marks : 1 Wrong Marks : 0

Which of the following is not a component of a computer system?

క్రింది వాటిలో కంప్యూటర్ భాగం కానిది ఏది ?

Options :

Input device

4699756553. ✘ ఇన్‌పుట్ పరికరము

Output device

4699756554. ✘ అవుట్‌పుట్ పరికరము

Storage device

4699756555. ✘ నిల్వ పరికరం

Communication device

4699756556. ✔ సమాచార పరికరం

Question Number : 140 Question Id : 4699751651 Question Type : MCQ Option Shuffling : Yes Display Question Number : Yes Is Question Mandatory : No Calculator : None Response Time : N.A Think Time : N.A Minimum Instruction Time : 0 Correct Marks : 1 Wrong Marks : 0

What is the term used to describe the physical parts of a computer system?

కంప్యూటర్ యొక్క భౌతిక భాగాలను వివరించడానికి ఏ పదాన్ని ఉపయోగిస్తారు?

Options :

Software

4699756557. ✘ సాఫ్ట్‌వేర్

Hardware

4699756558. ✔ హార్డ్‌వేర్

Firmware

4699756559. ✘ ఫర్మ్‌వేర్

Middleware

4699756560. ✘ మిడిల్‌వేర్

Question Number : 141 Question Id : 4699751652 Question Type : MCQ Option Shuffling : Yes Display Question Number : Yes Is Question Mandatory : No Calculator : None Response Time : N.A Think Time : N.A Minimum Instruction Time : 0 Correct Marks : 1 Wrong Marks : 0

Which of the following is an example of an operating system?

క్రింది వాటిలో ఆపరేటింగ్ సిస్టమ్ కి ఉదాహరణ ఏది?

Options :

Microsoft Excel

4699756561. ✘ మైక్రో సాఫ్ట్ ఎక్సెల్

Google Chrome

గూగుల్ క్రోమ్

4699756562. ✖

Ubuntu

ఉబుంటు

4699756563. ✔

Adobe Photoshop

అడ్ోబ్ ఫోటోషాప్

4699756564. ✖

Question Number : 142 Question Id : 4699751653 Question Type : MCQ Option Shuffling : Yes Display Question Number : Yes Is Question Mandatory : No Calculator : None Response Time : N.A Think Time : N.A Minimum Instruction Time : 0 Correct Marks : 1 Wrong Marks : 0

Which of the following is a correct format of Email address?

క్రింది వాటిలో ఇమెయిల్ యొక్క సరైన ఫార్మాట్ ఏది?

Options :

4699756565. ✖ www.xyz.com

4699756566. ✔ admin@xyz.com

4699756567. ✖ admin@xyz@com

4699756568. ✖ http://www.xyz.com

Question Number : 143 Question Id : 4699751654 Question Type : MCQ Option Shuffling : Yes Display Question Number : Yes Is Question Mandatory : No Calculator : None Response Time : N.A Think Time : N.A Minimum Instruction Time : 0 Correct Marks : 1 Wrong Marks : 0

We all use Internet. Many a time we encounter the term “IP”.

What is expansion of the term “IP”

మనందరము అంతర్జాలాన్ని (Internet) ఉపయోగిస్తాము. చాలాసార్లు

(IP) “ఐపి” అను పదాన్ని చూస్తుంటాము. ‘ఐపి’ యొక్క పూర్తి రూపం ఏది?

Options :

4699756569. ✖ Internal Processor
ఇంటర్నల్ ప్రొసెసర్

4699756570. ✖ Intermittent Procedure
ఇంటర్మిటెంట్ ప్రొసీజర్

Internet Service Provider

4699756571. ✘ ఇంటర్నెట్ సర్వీస్ ప్రొవైడర్

Internet Protocol

4699756572. ✔ ఇంటర్నెట్ ప్రోటోకాల్

Question Number : 144 Question Id : 4699751655 Question Type : MCQ Option Shuffling : Yes Display Question Number : Yes Is Question Mandatory : No Calculator : None Response Time : N.A Think Time : N.A Minimum Instruction Time : 0 Correct Marks : 1 Wrong Marks : 0

Collection of network of networks is called
నెట్వర్క్ సమూహాల నెట్వర్క్ ని ఏమంటారు?

Options :

Infranet

4699756573. ✘ ఇన్ఫ్రానెట్

Internet

4699756574. ✔ ఇంటర్నెట్

Local Subnet

4699756575. ✘ లోకల్ సబ్నెట్

Local Area Network

4699756576. ✘ లోకల్ ఏరియా నెట్వర్క్

Question Number : 145 Question Id : 4699751656 Question Type : MCQ Option Shuffling : Yes Display Question Number : Yes Is Question Mandatory : No Calculator : None Response Time : N.A Think Time : N.A Minimum Instruction Time : 0 Correct Marks : 1 Wrong Marks : 0

Which of the following is not a Networking Device?

క్రింది వాటిలో నెట్వర్కింగ్ పరికరం కానిది ఏది?

Options :

Broad band Route

4699756577. ✘ బ్రాడ్ బ్యాండ్ రూట్

Gateway Router

4699756578. ✘ గేట్వే రూటర్

Linux

4699756579. ✔ లైనక్స్

Firewall ఫైర్‌వాల

4699756580. ✖

Question Number : 146 Question Id : 4699751657 Question Type : MCQ Option Shuffling : Yes Display Question Number : Yes Is Question Mandatory : No Calculator : None Response Time : N.A Think Time : N.A Minimum Instruction Time : 0

Correct Marks : 1 Wrong Marks : 0

Every communication network uses switching. Identify the Switching method in the Internet Network.

ప్రతి ఒక సమాచార నెట్వర్క్ స్విచింగ్ ను ఉపయోగిస్తుంది. అంతర్జాల నెట్వర్క్ లో స్విచింగ్ పద్ధతినీ గుర్తించండి

Options :

Packet Switched Network

4699756581. ✔

ప్యాకెట్ స్విచ్డ్ నెట్వర్క్

Cell Switched Network

4699756582. ✖

సెల్ స్విచ్డ్ నెట్వర్క్

Circuit Switched Network

4699756583. ✖

సర్క్యూట్ స్విచ్డ్ నెట్వర్క్

Message Switched Network

4699756584. ✖

మెసేజ్ స్విచ్డ్ నెట్వర్క్

Question Number : 147 Question Id : 4699751658 Question Type : MCQ Option Shuffling : Yes Display Question Number : Yes Is Question Mandatory : No Calculator : None Response Time : N.A Think Time : N.A Minimum Instruction Time : 0

Correct Marks : 1 Wrong Marks : 0

We use monitor to display images, video, text etc. When we see this information, the monitor uses the smallest visual element. Identify the one which is smallest visual element?

చిత్రాలను, విడియోలను, టెక్స్ట్ మొదలైన వాటిని ప్రదర్శించడానికి మానిటర్లు ఉపయోగిస్తాయి.

ఈ సమాచారాన్ని వాడేటప్పుడు మానిటర్ అతి చిన్న దృశ్య మూలకాన్ని వాడుతుంది.

అత్యంత చిన్న దృశ్య మూలకాన్ని గుర్తించండి

Options :

Bit

4699756585. ✖

బిట్

Character

4699756586. ✖

కారెక్టర్

Byte
బైట్
4699756587. ✘

Pixel
పిక్సెల్
4699756588. ✔

Question Number : 148 Question Id : 4699751659 Question Type : MCQ Option Shuffling : Yes Display Question Number : Yes Is Question Mandatory : No Calculator : None Response Time : N.A Think Time : N.A Minimum Instruction Time : 0 Correct Marks : 1 Wrong Marks : 0

When we purchase the computer, we always look at the speed of the computer.
How do you measure the speed?

కంప్యూటర్ కొనేటప్పుడు మనం ప్రతిసారి దాని వేగాన్ని చూస్తాము. నీవు కంప్యూటర్ యొక్క వేగాన్ని ఎలా కొలుస్తావు?

Options :

Nanoseconds
నానో సెకన్లు
4699756589. ✘

Kilo-seconds
కిలో సెకన్లు
4699756590. ✘

Gigahertz
గిగాహర్ట్జ్
4699756591. ✔

Megabytes
మెగాబైట్స్
4699756592. ✘

Question Number : 149 Question Id : 4699751660 Question Type : MCQ Option Shuffling : Yes Display Question Number : Yes Is Question Mandatory : No Calculator : None Response Time : N.A Think Time : N.A Minimum Instruction Time : 0 Correct Marks : 1 Wrong Marks : 0

The output, which consists of images, video, and sound, is described as
దృశ్యాలు, వీడియోలు మరియు ధ్వనిని కలిగి ఉన్న అవుట్పుట్ ను ఏమంటారు?

Options :

Multimedia
మల్టీమీడియా
4699756593. ✔

RAM
రాండమ్ యాక్సెస్ మెమరీ
4699756594. ✘

ROM

రీడ్ ఓన్లీ మెమరీ

4699756595. ✖

DDR SD RAM

డబుల్ డేటా రేట్ సింక్రోనస్ డైనమిక్ రాండమ్ యాక్సెస్ మెమరీ

4699756596. ✖

Question Number : 150 Question Id : 4699751661 Question Type : MCQ Option Shuffling : Yes Display Question Number : Yes Is Question Mandatory : No Calculator : None Response Time : N.A Think Time : N.A Minimum Instruction Time : 0 Correct Marks : 1 Wrong Marks : 0

When the CPU acquires the instructions, it will access the primary memory where the program is stored. To access the primary memory, an address should be generated by the CPU. Identify which address is correct in the given list.

కంప్యూటర్ లో సెంట్రల్ ప్రొసెసింగ్ యూనిట్ సూచన లను స్వీకరించనప్పుడు. అది ప్రోగ్రామ్ నిల్వ ఉన్న ప్రాథమిక మెమరీని వాడుకొంటుంది. ప్రాథమిక మెమరీని పొందుటకు సెంట్రల్ ప్రొసెసింగ్ యూనిట్ ఒక చిరునామాను సృష్టించాలి. క్రింది వాటిలో సరైన చిరునామాను గుర్తించండి.

Options :

Simple address

సరళమైన చిరునామ

4699756597. ✖

Physical address

భౌతిక చిరునామ

4699756598. ✔

Page address

పేజ్ చిరునామ

4699756599. ✖

Logical address

తార్కిక చిరునామ

4699756600. ✖